



**PREFEITURA MUNICIPAL DE JEQUITIBÁ**  
ESTADO DE MINAS GERAIS

**PROCESSO SELETIVO SIMPLIFICADO 01/2021**  
**JEQUITIBÁ – MG**

**PROVA OBJETIVA**

**ASSISTENTE SOCIAL (CRAS)**

**NOME**

**LEGÍVEL:** \_\_\_\_\_

**CPF:** \_\_\_\_\_

**Nº inscrição:** \_\_\_\_\_

**Cargo:** \_\_\_\_\_

**Instruções:**

- Assinale apenas uma alternativa com caneta esferográfica preta



# PREFEITURA MUNICIPAL DE JEQUITIBÁ

ESTADO DE MINAS GERAIS

## ENSINO MÉDIO COMPLETO – PORTUGUÊS

### TEXTO I

#### **São Demasiado Pobres os Nossos Ricos**

A maior desgraça de uma nação pobre é que, em vez de produzir riqueza, produz ricos. Mas ricos sem riqueza. Na realidade, melhor seria chamá-los não de ricos, mas de endinheirados. Rico é quem possui meios de produção. Rico é quem gera dinheiro e dá emprego. Endinheirado é quem simplesmente tem dinheiro. Ou que pensa que tem. Porque, na realidade, o dinheiro é que o tem a ele.

A verdade é esta: são demasiado pobres os nossos «ricos». Aquilo que têm, não detêm. Pior: aquilo que exibem como seu, é propriedade de outros. É produto de roubo e de negociatas. Não podem, porém, estes nossos endinheirados usufruir em tranquilidade de tudo quanto roubaram. Vivem na obsessão de poderem ser roubados. Necessitavam de forças policiais à altura. Mas forças policiais à altura acabariam por lançá-los a eles próprios na cadeia. Necessitavam de uma ordem social em que houvesse poucas razões para a criminalidade. Mas se eles enriqueceram foi graças a essa mesma desordem.

O maior sonho dos nossos novos-ricos é, afinal, muito pequenito: um carro de luxo, umas efêmeras cintilâncias. Mas a luxuosa viatura não pode sonhar muito, sacudida pelos buracos das avenidas. O Mercedes e o BMW não podem fazer inteiro uso dos seus brilhos, ocupados que estão em se esquivar entre chapas, muito convexos e estradas muito côncavas. A existência de estradas boas dependeria de outro tipo de riqueza. Uma riqueza que servisse a cidade. E a riqueza dos nossos novos-ricos nasceu de um movimento contrário: do empobrecimento da cidade e da sociedade.

As casas de luxo dos nossos falsos ricos são menos para serem habitadas do que para serem vistas. Fizeram-se para os olhos de quem passa. Mas ao exibirem-se, assim, cheias de folhos e chibantices, acabam atraindo alheias cobiças. Por mais guardas que tenham à porta, os nossos pobres-ricos não afastam o receio das invejas e dos feitiços que essas invejas convocam. O fausto das residências não os torna imunes. Pobres dos nossos riquinhos!

São como a cerveja tirada à pressão. São feitos num instante, mas a maior parte é só espuma. O que resta de verdadeiro é mais o copo que o conteúdo. Podiam criar gado ou vegetais. Mas não. Em vez disso, os nossos endinheirados feitos sob pressão criam amantes. Mas as amantes (e/ou os amantes) têm um grave inconveniente: necessitam de ser sustentadas com dispendiosos mimos. O maior inconveniente é ainda a ausência de garantia do produto. A amante de um pode ser, amanhã, amante de outro. O coração do criador de amantes não tem sossego: quem traiu sabe que pode ser traído.

Mia Couto, in 'Pensatempos'

<http://www.citador.pt/textos/sao-demasiado-pobres-os-nossosricos-mia-couto..>



## PREFEITURA MUNICIPAL DE JEQUITIBÁ

ESTADO DE MINAS GERAIS

**01. De acordo com Mia Couto, os desejos de consumo dos endinheirados são vazios e acabam frustrados porque:**

- A) São desejos passageiros que logo perdem o sentido de ser.
- B) Não são frutos de um planejamento e de decisões cautelosas e prudentes.
- C) Vão de encontro à realidade desigual e à falta de estrutura do país.
- D) Apesar de ricos não sabem aplicar o dinheiro e logo perdem o poder aquisitivo.

**02. Por que, na opinião do autor Mia Couto, “são demasiado pobres os nossos «ricos»?**

- A) Porque não sabem utilizar o dinheiro que ganham com inteligência.
- B) Porque não almejam a riqueza do país, mas apenas a aquisição, a qualquer custo, de dinheiro fácil.
- C) Porque não aceitam que pessoas pobres tenham a oportunidade de também vencerem na vida.
- D) Porque investem muito em segurança e acabam ficando enclausurados em suas residências.

**03. Os verbos “vivem” e “torna” presentes nos períodos abaixo são classificados, de acordo com a regência verbal que exercem nessas orações, como sendo:**

- I. “Vivem na obsessão de poderem ser roubados”.
  - II. “O fausto das residências não os torna imunes”.
- A) I. Intransitivo; II. Transitivo direto.
  - B) I. Transitivo indireto; II. Transitivo direto.
  - C) I. Intransitivo; II. Transitivo direto e indireto.
  - D) I. Transitivo indireto; II. Transitivo direto e indireto.



## PREFEITURA MUNICIPAL DE JEQUITIBÁ

ESTADO DE MINAS GERAIS

**04. Em “São demasiado pobres os nossos ricos”, o termo destacado pode ser classificado gramaticalmente como sendo:**

- A) Um substantivo.
- B) Um adjetivo.
- C) Um advérbio.
- D) Uma conjunção.

**05. Assinale a alternativa que preenche corretamente as lacunas abaixo:**

Ao analisar a coesão entre as orações “O coração do criador de amantes não tem sossego: quem traiu sabe que pode ser traído”, pode-se perceber que, no lugar dos dois pontos, poderia ter sido usada a conjunção..... Para manter a ideia de.....

- A) por isso – conclusão.
- B) pois – conclusão.
- C) mas – contradição.
- D) pois – explicação.

**06. Ao observar a concordância dos verbos destacados em “Fizeram-se para os olhos de quem passa. Mas ao exibirem-se, assim, cheias de folhos e chibantices, acabam atraindo alheias cobiças”, pode-se afirmar que:**

- I. “Fizeram” está no plural concordando com “olhos”.
- II. Ambos estão concordando com “casas de luxo”.
- III. “Exibirem” está no plural concordando com “folhos e chibantices”.
- IV. Cada um está realizando a concordância com o seu respectivo sujeito.
- V. Os dois estão concordando com um sujeito mencionado na oração anterior.
- VI. Os dois verbos poderiam estar na 3ª pessoa do singular concordando com o sujeito mais próximo.



# PREFEITURA MUNICIPAL DE JEQUITIBÁ

ESTADO DE MINAS GERAIS

**Assinale a alternativa correta:**

- A) Apenas I, III e VI estão corretos.
- B) Apenas II e V estão corretos.
- C) Apenas II, V e VI estão corretos.
- D) Apenas I, III e IV estão corretos.

**7. Mia Couto, em sua frase “O fausto das residências não os torna imunes”, usou a palavra fausto” para simbolizar:**

- A) Luxo.
- B) Segurança.
- C) Bom gosto.
- D) Discrição.

**08. “São demasiado pobres<sup>1</sup> os nossos ricos<sup>2</sup>”. Ao analisar a função gramatical dos termos grifados nesse período, percebe-se que “pobres” e “ricos” estão desempenhando função de:**

- A) 1. Substantivo e 2. Substantivo.
- B) 1. Adjetivo e 2. Substantivo.
- C) 1. Substantivo e 2. Adjetivo.
- D) 1. Adjetivo e 2. Adjetivo.

**09. Em “São como a cerveja tirada à pressão”, ocorreu a crase por se tratar de uma locução adverbial feminina de modo.**

Assim como essa, outras locuções adverbiais femininas também recebem crase. Assinale a alternativa em que a crase ocorreu por se tratar de uma locução adverbial feminina.

- A) Por mais guardas que tenham à porta, os nossos pobres-ricos não afastam...
- B) Os endinheirados dedicam-se apenas à gastar sem medida.
- C) É uma riqueza que faz referência à ausência de sentimentos humanitários.
- D) A população mais carente assiste atônita à derrocada de seus direitos.



# PREFEITURA MUNICIPAL DE JEQUITIBÁ

ESTADO DE MINAS GERAIS

**10. “Aquilo que têm, não detêm”. Os verbos “têm” e “detêm” recebem acento circunflexo porquê?**

- A) São palavras oxítonas terminam em “EM”.
- B) São palavras paroxítonas terminadas em “EM”.
- C) Estão no singular e precisam ser diferenciadas da forma verbal no plural.
- D) Estão no plural e precisam ser diferenciados da forma verbal no singular.

## **TEXTO II**

### **Fábula: O leão apaixonado**

Certa vez um leão se apaixonou pela filha de um lenhador e foi pedir a mão dela em casamento. O lenhador não ficou muito animado com a ideia de ver a filha com um marido perigoso daqueles e disse ao leão que era muita honra, mas muito obrigado, não queria. O leão se irritou; sentindo o perigo, o homem foi esperto e fingiu que concordava:

- É uma honra, meu senhor. Mas que dentes o senhor tem! Que garras compridas! Qualquer moça ia ficar com medo. Se o senhor quer casar com minha filha, vai ter que arrancar os dentes e cortar as garras.

O leão apaixonado foi correndo fazer o que o outro tinha mandado; depois voltou à casa do pai da moça e repetiu seu pedido de casamento. Mas o lenhador, que já não sentia medo daquele leão manso e desarmado, pegou um pau e tocou o leão para fora de sua casa.

Moral: Quem perde a cabeça por amor sempre acaba mal.

### **11. A fábula de Esopo:**

- A) Não trata de nenhum tema específico.
- B) Pretende mostrar a estratificação social.
- C) Se utiliza de animais para denunciar o preconceito.
- D) Trata uma história de amor impossível.



## PREFEITURA MUNICIPAL DE JEQUITIBÁ

ESTADO DE MINAS GERAIS

**12. A fábula começa apresentando o leão e logo nos vêm à mente todas as características tradicionalmente atribuídas ao animal. Ao final da narrativa, porém, percebemos que o leão foi:**

- A) Submisso
- B) Corajoso
- C) Cruel
- D) Justo

**13. Aponte a alternativa que contém uma característica pertinente ao texto:**

- A) O tempo e o espaço em que os fatos se dão estão bem definidos.
- B) É uma narrativa curta, por isso não apresenta os elementos básicos da narrativa.
- C) Título insignificante para a trama.
- D) Encerra em si uma linguagem simples, pois dirige-se ao povo.

**14. Considere as três afirmações abaixo acerca do texto lido:**

- I. Apesar de tratar-se de uma narrativa é possível que consideremos algumas passagens argumentativas.
- II. Apresenta uma situação problemática, ou seja, existe um conflito.
- III. É narrado em 3ª pessoa.

**Diante da análise acima, podemos afirmar que:**

- A) I e II estão corretas.
- B) Apenas III está correta.
- C) I, II e III estão corretas.
- D) Apenas I está correta.



## PREFEITURA MUNICIPAL DE JEQUITIBÁ

ESTADO DE MINAS GERAIS

**15. O texto está repleto de adjetivos. Qual o papel fundamental deles na fábula?**

- A) Caracterizar os personagens e a partir disso permear as ações sendo determinantes para o conflito e o desfecho da narrativa.
- B) Construir o próprio sentido do texto, sem adjetivos para sustentar a fábula, ela não se realiza como gênero textual.
- C) Nenhum, pois os adjetivos formam uma classe gramatical meramente alegórica.
- D) Mostrar a constância nas atitudes e pensamentos das personagens, fluindo para um desfecho claro e previsível.





**PREFEITURA MUNICIPAL DE JEQUITIBÁ**  
ESTADO DE MINAS GERAIS

**ENSINO MÉDIO COMPLETO – MATEMÁTICA**

16. O sistema ordenado  $(x, y)$  de equações  $\begin{cases} 3x + 4y = 72 \\ 5x + 2y = 64 \end{cases}$  tem como solução o par

Sendo assim,  $8x - 5y$  é igual a:

- A) 8
- B) 12
- C) 4
- D) 20

17. Uma bola de tênis custa o triplo do preço de uma bola de golf. Essa bola de golf custa o dobro do preço da bola de baseball. Carlos comprou uma bola de cada e pagou pelas três R\$180,00. O preço da bola de tênis é:

- A) R\$60,00
- B) R\$90,00
- C) R\$20,00
- D) R\$120,00

18. Qual é a raiz cúbica de 5832?

- a) 12
- b) 17
- c) 19
- d) 18

19. O gráfico da função  $f(x) = 18 - 35x$  é uma:

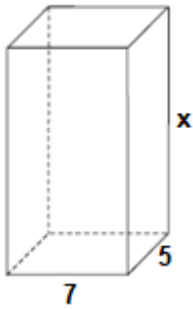
- A) Parábola com concavidade para cima
- B) Uma reta crescente
- C) Parábola com concavidade para baixo
- D) Uma reta decrescente

20. Um tanque de água, com capacidade máxima para  $455 \text{ m}^3$ , tem a forma de um prisma reto de base retangular, cujas medidas internas, em metros, estão indicadas na figura.



# PREFEITURA MUNICIPAL DE JEQUITIBÁ

ESTADO DE MINAS GERAIS



a altura desse reservatório, indicada na figura pela letra x, é igual a

- A) 10 m.
- B) 12 m.
- C) 13 m.
- D) 15 m.

**21. Quantos anagramas é possível fazer com a palavra JEQUITIBA**

A) 9!

B)  $\frac{9!}{2!}$

C)  $\frac{2!}{9!}$

D) Nenhuma das alternativas

**22. Um médico realiza, em cinco dias úteis de uma determinada semana, respectivamente, 15, 20, 25, 27 e 28 atendimentos diários. A média diária de atendimentos é de:**

- A) 23.
- B) 25.
- C) 27.
- D) 28.

**23. Uma moto com velocidade constante de 90 km/h faz determinado percurso em 80 minutos. Qual foi a velocidade da moto sabendo que em outro momento ela fez esse mesmo percurso em 1h 40minutos?**

- (A) 112,5km/h.
- (B) 72km/h.
- (C) 82km/h.
- (D) 80km/h.



**PREFEITURA MUNICIPAL DE JEQUITIBÁ**  
ESTADO DE MINAS GERAIS

**24. Foi aplicado à taxa de juros simples de 30% a.m. um capital de R\$160.000,00 durante o período de 5 meses. Quanto foi o juro obtido nessa aplicação?**

- A) R\$48.000,00.
- B) R\$400.000,00
- C) R\$240.000,00
- D) Nenhuma das alternativas

**25. A sequência numérica (15, 30, 60, 120, 240, 480) é uma Progressão:**

- A) Aritmética de razão 2.
- B) Aritmética de razão 4.
- C) Aritmética de razão 6.
- D) Geométrica de razão 2.

**26. A soma dos ângulos internos de um triângulo é:**

- A) 90°
- B) 360°
- C) 180°
- D) 270°

**27. Quais os valores de x na equação  $x^2 + 7x + 10 = 0$**

- A) 2 e 5
- B) 7 e 10.
- C) -2 e -5.
- D) 2 e 5

**28. Certo produto que custava R\$380,00 teve um aumento de 25%. Com esse aumento o produto passou a custar:**

- A) R\$405,00
- B) R\$457,00
- C) R\$475,00
- D) nenhuma das alternativas

**29. André toma 3 tipos de remédios, toma um de 4 em 4 horas, toma outro de 6 em 6 horas e por fim toma o último de 8 em 8 horas. Às 7 horas da manhã de uma quarta-feira ele tomou os 3 remédios ao mesmo tempo. Quando André irá tomar os remédios juntos novamente?**

- A) Às 7 horas da manhã de uma quinta-feira
- B) Às 7 horas da manhã de um sexta-feira
- C) Às 19h de uma quinta-feira
- D) Às 19h de uma sexta-feira



# PREFEITURA MUNICIPAL DE JEQUITIBÁ

ESTADO DE MINAS GERAIS

**30. Qual é o perímetro de um triângulo retângulo sabendo que seu cateto adjacente mede 16 cm e seu cosseno é igual a 0,8.**

- A) 36.
- B) 48.
- C) 60.
- D) 72.



# PREFEITURA MUNICIPAL DE JEQUITIBÁ

ESTADO DE MINAS GERAIS

## CONHECIMENTOS ESPECÍFICOS – ASSISTENTE SOCIAL (CRAS)

**31 - O sistema capitalista é uma estrutura social desigual: supõe a propriedade privada dos meios de produção, a exploração de uma classe por outra, a economia de mercado, o trabalho assalariado e a expulsão dos trabalhadores excedentes às necessidades do capitalismo. A desigualdade nesse sistema não se resolve apenas com uma distribuição fracionada da riqueza ou socialização parcial dos bens produzidos, mas com**

- (A) a supremacia de uma dada realidade.
- (B) a superação da ordem capitalista.
- (C) o controle de massas populares em oposição.
- (D) o alcance das políticas sociais integradas

**32 - “Todos e todas devem usufruir dos direitos assegurados pelo ordenamento jurídico brasileiro à proteção social não contributiva de assistência social efetiva com dignidade e respeito”. Este é o primeiro dos dez direitos socioassistenciais do Sistema Único de Assistência Social, dentre os quais também está o direito.**

- (A) de buscar refúgio, auxílio e orientação.
- (B) de organização e participação em entidades sociais.
- (C) da participação social protagônica.
- (D) de equidade social e de manifestação pública.

**33 - A operacionalização da assistência social em rede, com base no território, constitui um dos eixos estruturantes da Política Nacional de Assistência Social. No Sistema Único da Assistência Social – SUAS, o princípio da territorialização da rede socioassistencial baseia-se na oferta capilar de serviços e na sua localização nos territórios com incidência de vulnerabilidades e riscos sociais e pessoais para a população, a partir da lógica da proximidade do cidadão. O SUAS incorpora uma noção ampliada de território, compreendido como o terreno das políticas públicas, no qual se expressam as manifestações da questão social. Trata-se de uma concepção de território que ultrapassa a dimensão geográfica, sendo entendido como resultado da interação entre os homens e**



## PREFEITURA MUNICIPAL DE JEQUITIBÁ

ESTADO DE MINAS GERAIS

- (A) espaço da gestão setorializada.
- (B) lócus privilegiado de superações.
- (C) síntese das relações sociais.
- (D) expressão máxima das reivindicações

**34 - Dentre as alterações da Lei no 12.435/2012 em relação à Lei Orgânica da Assistência Social (Lei no 8.742/1993) está a de instituição de Programas que passaram a compor o Sistema Único de Assistência Social (SUAS). Um dos serviços que integra a proteção social básica consistindo na oferta de ações e serviços socioassistenciais de prestação continuada nos CRAS (Centros de Referência de Assistência Social), por meio do trabalho social com famílias em situação de vulnerabilidade social, é o:**

- (A) Serviço de Proteção Social Especial para Pessoas com Deficiência, Idosas e suas Famílias
- (B) Serviço de Acolhimento Institucional.
- (C) Serviço Especializado em Abordagem Social.
- (D) Serviço de Proteção e Atendimento Integral à Família (PAIF).

**35 - A Lei Orgânica da Assistência Social (Lei Federal no 8.742/93) regulamenta os artigos 203 e 204 da Constituição Federal de 1988 e marca a etapa inaugural de uma política pública de assistência social em nível nacional. A LOAS define a assistência social como direito do cidadão e dever do Estado, estabelecendo objetivos e diretrizes para sua implementação. Constitui-se um dos princípios da LOAS:**

- (A) igualdade de direitos no acesso ao atendimento, sem discriminação de qualquer natureza, garantindo-se equivalência às populações urbanas e rurais.
- (B) descentralização político-administrativa para os Estados, o Distrito Federal e os Municípios, e comando único das ações em cada esfera de governo.
- (C) participação da população, por meio de organizações representativas, na formulação das políticas e no controle das ações em todos os níveis.
- (D) consolidação da gestão compartilhada, do cofinanciamento e da cooperação técnica entre os entes federativos.



## **PREFEITURA MUNICIPAL DE JEQUITIBÁ**

ESTADO DE MINAS GERAIS

**36 - A política de assistência social considera a diversidade sociocultural das famílias, na medida em que reconhece que muitas vezes as relações familiares são movidas por hierarquias consolidadas e por uma solidariedade coativa, que se desdobram em desigualdades e opressões. Reconhece, ainda, que as fragilidades e contradições no interior das famílias são geradas pelas fortes pressões dos processos de exclusão aos quais são submetidas. Nessa perspectiva, a política de assistência social valoriza as heterogeneidades e as particularidades de cada grupo familiar, tendo um papel fundamental no processo de sua:**

- (A) responsabilização
- (B) emancipação.
- (C) reestruturação.
- (D) manutenção.

**37 - De acordo com a Lei no 8.662, de 7 de junho de 1993, a qual dispõe sobre a profissão de assistente social e dá outras providências, constitui atribuição privativa do assistente social, entre outras:**

- (A) planejar, organizar e administrar benefícios e Serviços Sociais.
- (B) elaborar, implementar, executar e avaliar políticas sociais junto a órgãos da administração pública, direta ou indireta, empresas, entidades e organizações populares.
- (C) planejar, executar e avaliar pesquisas que possam contribuir para a análise da realidade social e para subsidiar ações profissionais
- (D) dirigir serviços técnicos de Serviço Social em entidades públicas ou privadas.

**38 - Os serviços de acolhimento institucional do Sistema Único de Assistência Social (SUAS) são aqueles que garantem proteção integral para famílias e indivíduos que se encontram sem referência, em situação de ameaça ou necessitando ser retirados de seu núcleo familiar ou comunitário. De acordo com a Tipificação Nacional dos Serviços Socioassistenciais, tais serviços integram a alta complexidade da Proteção Social Especial e podem ser estruturados em diferentes tipos de equipamentos. Em se tratando de acolhimento de mulheres, a normativa prevê a instalação desse serviço na modalidade de:**

- (A) unidade institucional.



## PREFEITURA MUNICIPAL DE JEQUITIBÁ

ESTADO DE MINAS GERAIS

- (B) república hospedeira.
- (C) unidade residencial.
- (D) centro dia.

**39 - A regulamentação e a execução das Medidas Socioeducativas destinadas a adolescentes que tenham praticado ato infracional é feita pela Lei no 12.594/2012, que instituiu o Sistema Nacional de Atendimento Socioeducativo (Sinase). De acordo a referida Lei, os municípios devem criar e manter programas de atendimento para a execução das medidas socioeducativas em meio aberto. Por sua vez, conforme prevê o artigo 13 (inciso I), a direção do programa de prestação de serviços à comunidade ou de liberdade assistida, para alcançar os objetivos de acompanhamento e avaliação do cumprimento da medida pelo adolescente, deve selecionar e credenciar:**

- (A) mediadores.
- (B) agentes sociais.
- (C) orientadores.
- (D) assistentes sociais.

**40 - Em se tratando dos Benefícios Eventuais, o artigo 14, VII (parágrafo 2º) do Protocolo de Gestão Integrada de Serviços, Benefícios e Transferências de Renda do Sistema Único de Assistência Social (SUAS) define a competência dos municípios. Dentre as competências preestabelecidas está o mapeamento periódico da incidência de beneficiários, a realização de estudos da realidade e o monitoramento da demanda, com vistas à sua:**

- (A) centralização.
- (B) racionalização.
- (C) equiparação.
- (D) universalização.





**PREFEITURA MUNICIPAL DE JEQUITIBÁ**  
ESTADO DE MINAS GERAIS

**PROCESSO SELETIVO SIMPLIFICADO 01/2021**  
**JEQUITIBÁ – MG**

**PROVA OBJETIVA**

**AUXILIAR DE ENFERMAGEM (ESF)**

**NOME**

**LEGÍVEL:** \_\_\_\_\_

**CPF:** \_\_\_\_\_

**Nº inscrição:** \_\_\_\_\_

**Cargo:** \_\_\_\_\_

- **Assinale apenas uma alternativa com caneta esferográfica preta**



# PREFEITURA MUNICIPAL DE JEQUITIBÁ

ESTADO DE MINAS GERAIS

## ENSINO MÉDIO COMPLETO – PORTUGUÊS

### TEXTO I

#### **São Demasiado Pobres os Nossos Ricos**

A maior desgraça de uma nação pobre é que, em vez de produzir riqueza, produz ricos. Mas ricos sem riqueza. Na realidade, melhor seria chamá-los não de ricos, mas de endinheirados. Rico é quem possui meios de produção. Rico é quem gera dinheiro e dá emprego. Endinheirado é quem simplesmente tem dinheiro. Ou que pensa que tem. Porque, na realidade, o dinheiro é que o tem a ele.

A verdade é esta: são demasiado pobres os nossos «ricos». Aquilo que têm, não detêm. Pior: aquilo que exibem como seu, é propriedade de outros. É produto de roubo e de negociatas. Não podem, porém, estes nossos endinheirados usufruir em tranquilidade de tudo quanto roubaram. Vivem na obsessão de poderem ser roubados. Necessitavam de forças policiais à altura. Mas forças policiais à altura acabariam por lançá-los a eles próprios na cadeia. Necessitavam de uma ordem social em que houvesse poucas razões para a criminalidade. Mas se eles enriqueceram foi graças a essa mesma desordem.

O maior sonho dos nossos novos-ricos é, afinal, muito pequenito: um carro de luxo, umas efêmeras cintilâncias. Mas a luxuosa viatura não pode sonhar muito, sacudida pelos buracos das avenidas. O Mercedes e o BMW não podem fazer inteiro uso dos seus brilhos, ocupados que estão em se esquivar entre chapas, muito convexos e estradas muito côncavas. A existência de estradas boas dependeria de outro tipo de riqueza. Uma riqueza que servisse a cidade. E a riqueza dos nossos novos-ricos nasceu de um movimento contrário: do empobrecimento da cidade e da sociedade.

As casas de luxo dos nossos falsos ricos são menos para serem habitadas do que para serem vistas. Fizeram-se para os olhos de quem passa. Mas ao exibirem-se, assim, cheias de folhos e chibantices, acabam atraindo alheias cobiças. Por mais guardas que tenham à porta, os nossos pobres-ricos não afastam o receio das invejas e dos feitiços que essas invejas convocam. O fausto das residências não os torna imunes. Pobres dos nossos riquinhos!

São como a cerveja tirada à pressão. São feitos num instante, mas a maior parte é só espuma. O que resta de verdadeiro é mais o copo que o conteúdo. Podiam criar gado ou vegetais. Mas não. Em vez disso, os nossos endinheirados feitos sob pressão criam amantes. Mas as amantes (e/ou os amantes) têm um grave inconveniente: necessitam de ser sustentadas com dispendiosos mimos. O maior inconveniente é ainda a ausência de garantia do produto. A amante de um pode ser, amanhã, amante de outro. O coração do criador de amantes não tem sossego: quem traiu sabe que pode ser traído.

Mia Couto, in 'Pensatempos'

<http://www.citador.pt/textos/sao-demasiado-pobres-os-nossosricos-mia-couto..>



# PREFEITURA MUNICIPAL DE JEQUITIBÁ

ESTADO DE MINAS GERAIS

**01. De acordo com Mia Couto, os desejos de consumo dos endinheirados são vazios e acabam frustrados porque:**

- A) São desejos passageiros que logo perdem o sentido de ser.
- B) Não são frutos de um planejamento e de decisões cautelosas e prudentes.
- C) Vão de encontro à realidade desigual e à falta de estrutura do país.
- D) Apesar de ricos não sabem aplicar o dinheiro e logo perdem o poder aquisitivo.

**02. Por que, na opinião do autor Mia Couto, “são demasiado pobres os nossos «ricos»?**

- A) Porque não sabem utilizar o dinheiro que ganham com inteligência.
- B) Porque não almejam a riqueza do país, mas apenas a aquisição, a qualquer custo, de dinheiro fácil.
- C) Porque não aceitam que pessoas pobres tenham a oportunidade de também vencerem na vida.
- D) Porque investem muito em segurança e acabam ficando enclausurados em suas residências.

**03. Os verbos “vivem” e “torna” presentes nos períodos abaixo são classificados, de acordo com a regência verbal que exercem nessas orações, como sendo:**

- I. “Vivem na obsessão de poderem ser roubados”.
  - II. “O fausto das residências não os torna imunes”.
- A) I. Intransitivo; II. Transitivo direto.
  - B) I. Transitivo indireto; II. Transitivo direto.
  - C) I. Intransitivo; II. Transitivo direto e indireto.
  - D) I. Transitivo indireto; II. Transitivo direto e indireto.



## PREFEITURA MUNICIPAL DE JEQUITIBÁ

ESTADO DE MINAS GERAIS

**04. Em “São demasiado pobres os nossos ricos”, o termo destacado pode ser classificado gramaticalmente como sendo:**

- A) Um substantivo.
- B) Um adjetivo.
- C) Um advérbio.
- D) Uma conjunção.

**05. Assinale a alternativa que preenche corretamente as lacunas abaixo:**

Ao analisar a coesão entre as orações “O coração do criador de amantes não tem sossego: quem traiu sabe que pode ser traído”, pode-se perceber que, no lugar dos dois pontos, poderia ter sido usada a conjunção..... Para manter a ideia de.....

- A) por isso – conclusão.
- B) pois – conclusão.
- C) mas – contradição.
- D) pois – explicação.

**06. Ao observar a concordância dos verbos destacados em “Fizeram-se para os olhos de quem passa. Mas ao exibirem-se, assim, cheias de folhos e chibantices, acabam atraindo alheias cobiças”, pode-se afirmar que:**

- I. “Fizeram” está no plural concordando com “olhos”.
- II. Ambos estão concordando com “casas de luxo”.
- III. “Exibirem” está no plural concordando com “folhos e chibantices”.
- IV. Cada um está realizando a concordância com o seu respectivo sujeito.
- V. Os dois estão concordando com um sujeito mencionado na oração anterior.
- VI. Os dois verbos poderiam estar na 3ª pessoa do singular concordando com o sujeito mais próximo.



# PREFEITURA MUNICIPAL DE JEQUITIBÁ

ESTADO DE MINAS GERAIS

**Assinale a alternativa correta:**

- A) Apenas I, III e VI estão corretos.
- B) Apenas II e V estão corretos.
- C) Apenas II, V e VI estão corretos.
- D) Apenas I, III e IV estão corretos.

**7. Mia Couto, em sua frase “O fausto das residências não os torna imunes”, usou a palavra fausto” para simbolizar:**

- A) Luxo.
- B) Segurança.
- C) Bom gosto.
- D) Discrição.

**08. “São demasiado pobres<sup>1</sup> os nossos ricos<sup>2</sup>”. Ao analisar a função gramatical dos termos grifados nesse período, percebe-se que “pobres” e “ricos” estão desempenhando função de:**

- A) 1. Substantivo e 2. Substantivo.
- B) 1. Adjetivo e 2. Substantivo.
- C) 1. Substantivo e 2. Adjetivo.
- D) 1. Adjetivo e 2. Adjetivo.

**09. Em “São como a cerveja tirada à pressão”, ocorreu a crase por se tratar de uma locução adverbial feminina de modo.**

Assim como essa, outras locuções adverbiais femininas também recebem crase. Assinale a alternativa em que a crase ocorreu por se tratar de uma locução adverbial feminina.

- A) Por mais guardas que tenham à porta, os nossos pobres-ricos não afastam...
- B) Os endinheirados dedicam-se apenas à gastar sem medida.
- C) É uma riqueza que faz referência à ausência de sentimentos humanitários.
- D) A população mais carente assiste atônita à derrocada de seus direitos.



# PREFEITURA MUNICIPAL DE JEQUITIBÁ

ESTADO DE MINAS GERAIS

**10. “Aquilo que têm, não detêm”. Os verbos “têm” e “detêm” recebem acento circunflexo porquê?**

- A) São palavras oxítonas terminam em “EM”.
- B) São palavras paroxítonas terminadas em “EM”.
- C) Estão no singular e precisam ser diferenciadas da forma verbal no plural.
- D) Estão no plural e precisam ser diferenciados da forma verbal no singular.

## **TEXTO II**

### **Fábula: O leão apaixonado**

Certa vez um leão se apaixonou pela filha de um lenhador e foi pedir a mão dela em casamento. O lenhador não ficou muito animado com a ideia de ver a filha com um marido perigoso daqueles e disse ao leão que era muita honra, mas muito obrigado, não queria. O leão se irritou; sentindo o perigo, o homem foi esperto e fingiu que concordava:

- É uma honra, meu senhor. Mas que dentes o senhor tem! Que garras compridas! Qualquer moça ia ficar com medo. Se o senhor quer casar com minha filha, vai ter que arrancar os dentes e cortar as garras.

O leão apaixonado foi correndo fazer o que o outro tinha mandado; depois voltou à casa do pai da moça e repetiu seu pedido de casamento. Mas o lenhador, que já não sentia medo daquele leão manso e desarmado, pegou um pau e tocou o leão para fora de sua casa.

Moral: Quem perde a cabeça por amor sempre acaba mal.

### **11. A fábula de Esopo:**

- A) Não trata de nenhum tema específico.
- B) Pretende mostrar a estratificação social.
- C) Se utiliza de animais para denunciar o preconceito.
- D) Trata uma história de amor impossível.



## PREFEITURA MUNICIPAL DE JEQUITIBÁ

ESTADO DE MINAS GERAIS

**12. A fábula começa apresentando o leão e logo nos vêm à mente todas as características tradicionalmente atribuídas ao animal. Ao final da narrativa, porém, percebemos que o leão foi:**

- A) Submisso
- B) Corajoso
- C) Cruel
- D) Justo

**13. Aponte a alternativa que contém uma característica pertinente ao texto:**

- A) O tempo e o espaço em que os fatos se dão estão bem definidos.
- B) É uma narrativa curta, por isso não apresenta os elementos básicos da narrativa.
- C) Título insignificante para a trama.
- D) Encerra em si uma linguagem simples, pois dirige-se ao povo.

**14. Considere as três afirmações abaixo acerca do texto lido:**

- I. Apesar de tratar-se de uma narrativa é possível que consideremos algumas passagens argumentativas.
- II. Apresenta uma situação problemática, ou seja, existe um conflito.
- III. É narrado em 3ª pessoa.

**Diante da análise acima, podemos afirmar que:**

- A) I e II estão corretas.
- B) Apenas III está correta.
- C) I, II e III estão corretas.
- D) Apenas I está correta.



## PREFEITURA MUNICIPAL DE JEQUITIBÁ

ESTADO DE MINAS GERAIS

**15. O texto está repleto de adjetivos. Qual o papel fundamental deles na fábula?**

- A) Caracterizar os personagens e a partir disso permear as ações sendo determinantes para o conflito e o desfecho da narrativa.
- B) Construir o próprio sentido do texto, sem adjetivos para sustentar a fábula, ela não se realiza como gênero textual.
- C) Nenhum, pois os adjetivos formam uma classe gramatical meramente alegórica.
- D) Mostrar a constância nas atitudes e pensamentos das personagens, fluindo para um desfecho claro e previsível.





**PREFEITURA MUNICIPAL DE JEQUITIBÁ**  
ESTADO DE MINAS GERAIS

**ENSINO MÉDIO COMPLETO – MATEMÁTICA**

16. O sistema ordenado  $(x, y)$   $\begin{cases} 3x + 4y = 72 \\ 5x + 2y = 64 \end{cases}$  de equações tem como solução o par

Sendo assim,  $8x - 5y$  é igual a:

- A) 8
- B) 12
- C) 4
- D) 20

17. Uma bola de tênis custa o triplo do preço de uma bola de golf. Essa bola de golf custa o dobro do preço da bola de baseball. Carlos comprou uma bola de cada e pagou pelas três R\$180,00. O preço da bola de tênis é:

- A) R\$60,00
- B) R\$90,00
- C) R\$20,00
- D) R\$120,00

18. Qual é a raiz cúbica de 5832?

- a) 12
- b) 17
- c) 19
- d) 18

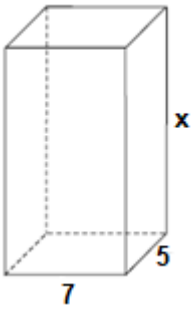
19. O gráfico da função  $f(x) = 18 - 35x$  é uma:

- A) Parábola com concavidade para cima
- B) Uma reta crescente
- C) Parábola com concavidade para baixo
- D) Uma reta decrescente

20. Um tanque de água, com capacidade máxima para  $455 \text{ m}^3$ , tem a forma de um prisma reto de base retangular, cujas medidas internas, em metros, estão indicadas na figura.



**PREFEITURA MUNICIPAL DE JEQUITIBÁ**  
ESTADO DE MINAS GERAIS



a altura desse reservatório, indicada na figura pela letra x, é igual a

- A) 10 m.
- B) 12 m.
- C) 13 m.
- D) 15 m.

**21. Quantos anagramas é possível fazer com a palavra JEQUITIBA**

A) 9!

B)  $\frac{9!}{2!}$

C)  $\frac{2!}{9!}$

D) Nenhuma das alternativas

**22. Um médico realiza, em cinco dias úteis de uma determinada semana, respectivamente, 15, 20, 25, 27 e 28 atendimentos diários. A média diária de atendimentos é de:**

- A) 23.
- B) 25.
- C) 27.
- D) 28.

**23. Uma moto com velocidade constante de 90 km/h faz determinado percurso em 80 minutos. Qual foi a velocidade da moto sabendo que em outro momento ela fez esse mesmo percurso em 1h 40minutos?**

- (A) 112,5km/h.
- (B) 72km/h.
- (C) 82km/h.
- (D) 80km/h.



**PREFEITURA MUNICIPAL DE JEQUITIBÁ**  
ESTADO DE MINAS GERAIS

**24. Foi aplicado à taxa de juros simples de 30% a.m. um capital de R\$160.000,00 durante o período de 5 meses. Quanto foi o juro obtido nessa aplicação?**

- A) R\$48.000,00.
- B) R\$400.000,00
- C) R\$240.000,00
- D) Nenhuma das alternativas

**25. A sequência numérica (15, 30, 60, 120, 240, 480) é uma Progressão:**

- A) Aritmética de razão 2.
- B) Aritmética de razão 4.
- C) Aritmética de razão 6.
- D) Geométrica de razão 2.

**26. A soma dos ângulos internos de um triângulo é:**

- A) 90°
- B) 360°
- C) 180°
- D) 270°

**27. Quais os valores de x na equação  $x^2 + 7x + 10 = 0$**

- A) 2 e 5
- B) 7 e 10.
- C) -2 e -5.
- D) 2 e 5

**28. Certo produto que custava R\$380,00 teve um aumento de 25%. Com esse aumento o produto passou a custar:**

- A) R\$405,00
- B) R\$457,00
- C) R\$475,00
- D) nenhuma das alternativas

**29. André toma 3 tipos de remédios, toma um de 4 em 4 horas, toma outro de 6 em 6 horas e por fim toma o último de 8 em 8 horas. Às 7 horas da manhã de uma quarta-feira ele tomou os 3 remédios ao mesmo tempo. Quando André irá tomar os remédios juntos novamente?**

- A) Às 7 horas da manhã de uma quinta-feira
- B) Às 7 horas da manhã de um sexta-feira
- C) Às 19h de uma quinta-feira
- D) Às 19h de uma sexta-feira



# PREFEITURA MUNICIPAL DE JEQUITIBÁ

ESTADO DE MINAS GERAIS

**30. Qual é o perímetro de um triângulo retângulo sabendo que seu cateto adjacente mede 16 cm e seu cosseno é igual a 0,8.**

- A) 36.
- B) 48.
- C) 60.
- D) 72.



# PREFEITURA MUNICIPAL DE JEQUITIBÁ

ESTADO DE MINAS GERAIS

## **CONHECIMENTOS ESPECÍFICOS – AUXILIAR DE ENFERMAGEM (ESF)**

**31. No que se refere à administração de medicamentos por via intramuscular (IM), analise os itens a seguir e, ao final, assinale a alternativa incorreta:**

I – Só é permitido a aplicação de no máximo de 1ml de líquido no músculo deltoide;

II – O ângulo de introdução para uma injeção intramuscular é 60°;

III – O medicamento IM na região dorso glútea deverá ser administrado no quadrante superior externo do glúteo.

a-) I;

b-) II;

c-) III;

d-) I e II.

**32. Que nome se dá ao método que promove a eliminação ou destruição de todos os microrganismos, patogênicos ou não, na forma vegetativa, presentes em artigos e objetos inanimados?**

a-) assepsia;

b-) degermação;

c-) esterilização;

d-) desinfecção.

**33. No que se refere às técnicas básicas de curativo, analise os itens a seguir e, ao final, assinale a alternativa incorreta:**

I – Para incisões cirúrgicas, a oclusão deverá ser por 24h, mantendo o curativo seco;

II – O leito de feridas não cirúrgicas deve ser mantido úmido;

III – Em feridas sépticas, a limpeza deve ser iniciada primeiro na lesão e, em seguida, na pele limpa.

a-) I;

b-) II;

c-) III;

d-) II e III.



## **PREFEITURA MUNICIPAL DE JEQUITIBÁ**

ESTADO DE MINAS GERAIS

**34. Como se sabe, o Auxiliar de Enfermagem tem papel fundamental nas atividades educativas desenvolvidas com a gestante durante o pré-natal na atenção primária à saúde, assinale a alternativa correta:**

I – Cuidar das mamas, que deve incluir o uso de sutiãs largos para evitar lesões na pele e a aplicação de pomadas, lubrificantes e esponjas nos mamilos;

II – Realizar o teste anti-HIV antes do pré-natal, reforçando que um teste negativo dispensa o uso de preservativos durante as relações sexuais na gestação;

III – Orientar a mulher a realizar todas as vacinas do calendário da gestante.

a-) I;

b-) II;

c-) III;

d-) Todos os itens são verdadeiros.

**35. Dentre as competências do Auxiliar de Enfermagem na Equipe de Estratégia da Família;**

I- Acompanha as visitas domiciliares com maior frequência e, entre as atribuições está às ações educativas na unidade;

II- Planejar, gerenciar, coordenar e avaliar as ações desenvolvidas pelos ACS e demais membros da equipe;

III- Indicar a necessidade de internação hospitalar ou domiciliar, mantendo a responsabilização pelo acompanhamento do usuário.

É correto afirmar:

a) I e II;

b) II;

c) III;

d) I;

**36. Com relação às competências técnicas e legais, segundo o Decreto Federal nº 94.406, de 08 de junho de 1987, são atribuições do Auxiliar de Enfermagem:**

I. Participar de atividades de educação em saúde, inclusive, orientar os pacientes na pós-consulta, quanto ao cumprimento das prescrições de enfermagem e médicas;



## PREFEITURA MUNICIPAL DE JEQUITIBÁ

ESTADO DE MINAS GERAIS

II. Assistir ao Enfermeiro na prevenção e controle sistemáticos de danos físicos que possam ser causados a pacientes durante a assistência de saúde;

III. Executar tratamentos especificamente prescritos, ou de rotina, além de outras atividades de Enfermagem, tais como executar atividades de desinfecção e esterilização.

Marque a alternativa INCORRETA.

- a) Somente as afirmativas I e II;
- b) Somente as afirmativas I e III;
- c) Somente a afirmativa II;
- d) Somente a afirmativa III.

**37. A alternativa correta que completa a frase abaixo é: “Visando o diagnóstico precoce da Hanseníase, deve-se intensificar a \_\_\_\_\_ de doentes, através do exame de todos os contatos do caso diagnosticado, e das outras formas de detecção ativa”.**

- a-) Confirmação;
- b-) Prevenção;
- c-) Alta;
- d-) Busca ativa.

**38. A busca ativa realizada na comunidade, que identifica Sintomáticos Respiratórios está relacionada a qual patologia?**

- a-) Dengue;
- b-) Tuberculose;
- c-) Esquistossomose;
- d) Sarampo.



## **PREFEITURA MUNICIPAL DE JEQUITIBÁ**

**ESTADO DE MINAS GERAIS**

**39. O cliente cirúrgico recebe assistência da enfermagem nos períodos pré, trans e pós-operatório. O período que abrange desde o momento da colocação na mesa cirúrgica até a transferência para a Sala de Recuperação Pós Anestésica é chamado de:**

- a-) pré-operatório;
- b-) transoperatório;
- c-) periperatório;
- d-) pós-operatório.

**40. Durante a assistência ao recém-nascido ainda na maternidade imediatamente após o nascimento, o procedimento para a prevenção da doença hemorrágica no período neonatal é realizado pela administração da seguinte vitamina:**

- a-) K;
- b-) A;
- c-) D;
- d-) B.





**PREFEITURA MUNICIPAL DE JEQUITIBÁ**  
ESTADO DE MINAS GERAIS

**PROCESSO SELETIVO SIMPLIFICADO 01/2021**  
**JEQUITIBÁ – MG**

**PROVA OBJETIVA**

**DENTISTA (ESF)**  
**DENTISTA**

**NOME**

**LEGÍVEL:** \_\_\_\_\_

**CPF:** \_\_\_\_\_

**Nº inscrição:** \_\_\_\_\_

**Cargo:** \_\_\_\_\_

- Assinale apenas uma alternativa com caneta esferográfica preta



# PREFEITURA MUNICIPAL DE JEQUITIBÁ

ESTADO DE MINAS GERAIS

## ENSINO MÉDIO COMPLETO – PORTUGUÊS

### TEXTO I

#### **São Demasiado Pobres os Nossos Ricos**

A maior desgraça de uma nação pobre é que, em vez de produzir riqueza, produz ricos. Mas ricos sem riqueza. Na realidade, melhor seria chamá-los não de ricos, mas de endinheirados. Rico é quem possui meios de produção. Rico é quem gera dinheiro e dá emprego. Endinheirado é quem simplesmente tem dinheiro. Ou que pensa que tem. Porque, na realidade, o dinheiro é que o tem a ele.

A verdade é esta: são demasiado pobres os nossos «ricos». Aquilo que têm, não detêm. Pior: aquilo que exibem como seu, é propriedade de outros. É produto de roubo e de negociatas. Não podem, porém, estes nossos endinheirados usufruir em tranquilidade de tudo quanto roubaram. Vivem na obsessão de poderem ser roubados. Necessitavam de forças policiais à altura. Mas forças policiais à altura acabariam por lançá-los a eles próprios na cadeia. Necessitavam de uma ordem social em que houvesse poucas razões para a criminalidade. Mas se eles enriqueceram foi graças a essa mesma desordem.

O maior sonho dos nossos novos-ricos é, afinal, muito pequenito: um carro de luxo, umas efêmeras cintilâncias. Mas a luxuosa viatura não pode sonhar muito, sacudida pelos buracos das avenidas. O Mercedes e o BMW não podem fazer inteiro uso dos seus brilhos, ocupados que estão em se esquivar entre chapas, muito convexos e estradas muito côncavas. A existência de estradas boas dependeria de outro tipo de riqueza. Uma riqueza que servisse a cidade. E a riqueza dos nossos novos-ricos nasceu de um movimento contrário: do empobrecimento da cidade e da sociedade.

As casas de luxo dos nossos falsos ricos são menos para serem habitadas do que para serem vistas. Fizeram-se para os olhos de quem passa. Mas ao exibirem-se, assim, cheias de folhos e chibantices, acabam atraindo alheias cobiças. Por mais guardas que tenham à porta, os nossos pobres-ricos não afastam o receio das invejas e dos feitiços que essas invejas convocam. O fausto das residências não os torna imunes. Pobres dos nossos riquinhos!

São como a cerveja tirada à pressão. São feitos num instante, mas a maior parte é só espuma. O que resta de verdadeiro é mais o copo que o conteúdo. Podiam criar gado ou vegetais. Mas não. Em vez disso, os nossos endinheirados feitos sob pressão criam amantes. Mas as amantes (e/ou os amantes) têm um grave inconveniente: necessitam de ser sustentadas com dispendiosos mimos. O maior inconveniente é ainda a ausência de garantia do produto. A amante de um pode ser, amanhã, amante de outro. O coração do criador de amantes não tem sossego: quem traiu sabe que pode ser traído.



# PREFEITURA MUNICIPAL DE JEQUITIBÁ

ESTADO DE MINAS GERAIS

Mia Couto, in 'Pensatempos'

<http://www.citador.pt/textos/sao-demasiado-pobres-os-nossosricos-mia-couto..>

**01. De acordo com Mia Couto, os desejos de consumo dos endinheirados são vazios e acabam frustrados porque:**

- A) São desejos passageiros que logo perdem o sentido de ser.
- B) Não são frutos de um planejamento e de decisões cautelosas e prudentes.
- C) Vão de encontro à realidade desigual e à falta de estrutura do país.
- D) Apesar de ricos não sabem aplicar o dinheiro e logo perdem o poder aquisitivo.

**02. Por que, na opinião do autor Mia Couto, “são demasiado pobres os nossos «ricos»?**

- A) Porque não sabem utilizar o dinheiro que ganham com inteligência.
- B) Porque não almejam a riqueza do país, mas apenas a aquisição, a qualquer custo, de dinheiro fácil.
- C) Porque não aceitam que pessoas pobres tenham a oportunidade de também vencerem na vida.
- D) Porque investem muito em segurança e acabam ficando enclausurados em suas residências.

**03. Os verbos “vivem” e “torna” presentes nos períodos abaixo são classificados, de acordo com a regência verbal que exercem nessas orações, como sendo:**

- I. “Vivem na obsessão de poderem ser roubados”.
  - II. “O fausto das residências não os torna imunes”.
- A) I. Intransitivo; II. Transitivo direto.
  - B) I. Transitivo indireto; II. Transitivo direto.
  - C) I. Intransitivo; II. Transitivo direto e indireto.
  - D) I. Transitivo indireto; II. Transitivo direto e indireto.



## PREFEITURA MUNICIPAL DE JEQUITIBÁ

ESTADO DE MINAS GERAIS

**04. Em “São demasiado pobres os nossos ricos”, o termo destacado pode ser classificado gramaticalmente como sendo:**

- A) Um substantivo.
- B) Um adjetivo.
- C) Um advérbio.
- D) Uma conjunção.

**05. Assinale a alternativa que preenche corretamente as lacunas abaixo:**

Ao analisar a coesão entre as orações “O coração do criador de amantes não tem sossego: quem traiu sabe que pode ser traído”, pode-se perceber que, no lugar dos dois pontos, poderia ter sido usada a conjunção..... Para manter a ideia de.....

- A) por isso – conclusão.
- B) pois – conclusão.
- C) mas – contradição.
- D) pois – explicação.

**06. Ao observar a concordância dos verbos destacados em “Fizeram-se para os olhos de quem passa. Mas ao exibirem-se, assim, cheias de folhos e chibantices, acabam atraindo alheias cobiças”, pode-se afirmar que:**

- I. “Fizeram” está no plural concordando com “olhos”.
- II. Ambos estão concordando com “casas de luxo”.
- III. “Exibirem” está no plural concordando com “folhos e chibantices”.
- IV. Cada um está realizando a concordância com o seu respectivo sujeito.
- V. Os dois estão concordando com um sujeito mencionado na oração anterior.
- VI. Os dois verbos poderiam estar na 3ª pessoa do singular concordando com o sujeito mais próximo.



# PREFEITURA MUNICIPAL DE JEQUITIBÁ

ESTADO DE MINAS GERAIS

**Assinale a alternativa correta:**

- A) Apenas I, III e VI estão corretos.
- B) Apenas II e V estão corretos.
- C) Apenas II, V e VI estão corretos.
- D) Apenas I, III e IV estão corretos.

**7. Mia Couto, em sua frase “O fausto das residências não os torna imunes”, usou a palavra fausto” para simbolizar:**

- A) Luxo.
- B) Segurança.
- C) Bom gosto.
- D) Discrição.

**08. “São demasiado pobres<sup>1</sup> os nossos ricos<sup>2</sup>”. Ao analisar a função gramatical dos termos grifados nesse período, percebe-se que “pobres” e “ricos” estão desempenhando função de:**

- A) 1. Substantivo e 2. Substantivo.
- B) 1. Adjetivo e 2. Substantivo.
- C) 1. Substantivo e 2. Adjetivo.
- D) 1. Adjetivo e 2. Adjetivo.

**09. Em “São como a cerveja tirada à pressão”, ocorreu a crase por se tratar de uma locução adverbial feminina de modo.**

Assim como essa, outras locuções adverbiais femininas também recebem crase. Assinale a alternativa em que a crase ocorreu por se tratar de uma locução adverbial feminina.

- A) Por mais guardas que tenham à porta, os nossos pobres-ricos não afastam...
- B) Os endinheirados dedicam-se apenas à gastar sem medida.
- C) É uma riqueza que faz referência à ausência de sentimentos humanitários.



# PREFEITURA MUNICIPAL DE JEQUITIBÁ

ESTADO DE MINAS GERAIS

D) A população mais carente assiste atônita à derrocada de seus direitos.

**10. “Aquilo que têm, não detêm”. Os verbos “têm” e “detêm” recebem acento circunflexo porquê?**

A) São palavras oxítonas terminam em “EM”.

B) São palavras paroxítonas terminadas em “EM”.

C) Estão no singular e precisam ser diferenciadas da forma verbal no plural.

D) Estão no plural e precisam ser diferenciados da forma verbal no singular.

## TEXTO II

### Fábula: O leão apaixonado

Certa vez um leão se apaixonou pela filha de um lenhador e foi pedir a mão dela em casamento. O lenhador não ficou muito animado com a ideia de ver a filha com um marido perigoso daqueles e disse ao leão que era muita honra, mas muito obrigado, não queria. O leão se irritou; sentindo o perigo, o homem foi esperto e fingiu que concordava:

- É uma honra, meu senhor. Mas que dentes o senhor tem! Que garras compridas! Qualquer moça ia ficar com medo. Se o senhor quer casar com minha filha, vai ter que arrancar os dentes e cortar as garras.

O leão apaixonado foi correndo fazer o que o outro tinha mandado; depois voltou à casa do pai da moça e repetiu seu pedido de casamento. Mas o lenhador, que já não sentia medo daquele leão manso e desarmado, pegou um pau e tocou o leão para fora de sua casa.

Moral: Quem perde a cabeça por amor sempre acaba mal.

### 11. A fábula de Esopo:

A) Não trata de nenhum tema específico.

B) Pretende mostrar a estratificação social.

C) Se utiliza de animais para denunciar o preconceito.

D) Trata uma história de amor impossível.



## PREFEITURA MUNICIPAL DE JEQUITIBÁ

ESTADO DE MINAS GERAIS

**12. A fábula começa apresentando o leão e logo nos vêm à mente todas as características tradicionalmente atribuídas ao animal. Ao final da narrativa, porém, percebemos que o leão foi:**

- A) Submisso
- B) Corajoso
- C) Cruel
- D) Justo

**13. Aponte a alternativa que contém uma característica pertinente ao texto:**

- A) O tempo e o espaço em que os fatos se dão estão bem definidos.
- B) É uma narrativa curta, por isso não apresenta os elementos básicos da narrativa.
- C) Título insignificante para a trama.
- D) Encerra em si uma linguagem simples, pois dirige-se ao povo.

**14. Considere as três afirmações abaixo acerca do texto lido:**

- I. Apesar de tratar-se de uma narrativa é possível que consideremos algumas passagens argumentativas.
- II. Apresenta uma situação problemática, ou seja, existe um conflito.
- III. É narrado em 3ª pessoa.

**Diante da análise acima, podemos afirmar que:**

- A) I e II estão corretas.
- B) Apenas III está correta.
- C) I, II e III estão corretas.
- D) Apenas I está correta.



## PREFEITURA MUNICIPAL DE JEQUITIBÁ

ESTADO DE MINAS GERAIS

**15. O texto está repleto de adjetivos. Qual o papel fundamental deles na fábula?**

- A) Caracterizar os personagens e a partir disso permear as ações sendo determinantes para o conflito e o desfecho da narrativa.
- B) Construir o próprio sentido do texto, sem adjetivos para sustentar a fábula, ela não se realiza como gênero textual.
- C) Nenhum, pois os adjetivos formam uma classe gramatical meramente alegórica.
- D) Mostrar a constância nas atitudes e pensamentos das personagens, fluindo para um desfecho claro e previsível.





**PREFEITURA MUNICIPAL DE JEQUITIBÁ**  
ESTADO DE MINAS GERAIS

**ENSINO MÉDIO COMPLETO – MATEMÁTICA**

16. O sistema ordenado  $(x, y)$  de equações  $\begin{cases} 3x + 4y = 72 \\ 5x + 2y = 64 \end{cases}$  tem como solução o par

Sendo assim,  $8x - 5y$  é igual a:

- A) 8
- B) 12
- C) 4
- D) 20

17. Uma bola de tênis custa o triplo do preço de uma bola de golf. Essa bola de golf custa o dobro do preço da bola de baseball. Carlos comprou uma bola de cada e pagou pelas três R\$180,00. O preço da bola de tênis é:

- A) R\$60,00
- B) R\$90,00
- C) R\$20,00
- D) R\$120,00

18. Qual é a raiz cúbica de 5832?

- a) 12
- b) 17
- c) 19
- d) 18

19. O gráfico da função  $f(x) = 18 - 35x$  é uma:

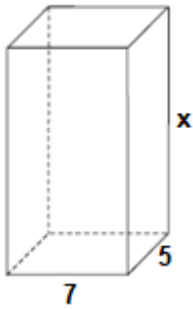
- A) Parábola com concavidade para cima
- B) Uma reta crescente
- C) Parábola com concavidade para baixo
- D) Uma reta decrescente

20. Um tanque de água, com capacidade máxima para  $455 \text{ m}^3$ , tem a forma de um prisma reto de base retangular, cujas medidas internas, em metros, estão indicadas na figura.



# PREFEITURA MUNICIPAL DE JEQUITIBÁ

ESTADO DE MINAS GERAIS



a altura desse reservatório, indicada na figura pela letra x, é igual a

- A) 10 m.
- B) 12 m.
- C) 13 m.
- D) 15 m.

**21. Quantos anagramas é possível fazer com a palavra JEQUITIBA**

A) 9!

B)  $\frac{9!}{2!}$

C)  $\frac{2!}{9!}$

D) Nenhuma das alternativas

**22. Um médico realiza, em cinco dias úteis de uma determinada semana, respectivamente, 15, 20, 25, 27 e 28 atendimentos diários. A média diária de atendimentos é de:**

- A) 23.
- B) 25.
- C) 27.
- D) 28.

**23. Uma moto com velocidade constante de 90 km/h faz determinado percurso em 80 minutos. Qual foi a velocidade da moto sabendo que em outro momento ela fez esse mesmo percurso em 1h 40minutos?**

- (A) 112,5km/h.
- (B) 72km/h.
- (C) 82km/h.
- (D) 80km/h.



**PREFEITURA MUNICIPAL DE JEQUITIBÁ**  
ESTADO DE MINAS GERAIS

**24. Foi aplicado à taxa de juros simples de 30% a.m. um capital de R\$160.000,00 durante o período de 5 meses. Quanto foi o juro obtido nessa aplicação?**

- A) R\$48.000,00.
- B) R\$400.000,00
- C) R\$240.000,00
- D) Nenhuma das alternativas

**25. A sequência numérica (15, 30, 60, 120, 240, 480) é uma Progressão:**

- A) Aritmética de razão 2.
- B) Aritmética de razão 4.
- C) Aritmética de razão 6.
- D) Geométrica de razão 2.

**26. A soma dos ângulos internos de um triângulo é:**

- A) 90°
- B) 360°
- C) 180°
- D) 270°

**27. Quais os valores de x na equação  $x^2 + 7x + 10 = 0$**

- A) 2 e 5
- B) 7 e 10.
- C) -2 e -5.
- D) 2 e 5

**28. Certo produto que custava R\$380,00 teve um aumento de 25%. Com esse aumento o produto passou a custar:**

- A) R\$405,00
- B) R\$457,00
- C) R\$475,00
- D) nenhuma das alternativas

**29. André toma 3 tipos de remédios, toma um de 4 em 4 horas, toma outro de 6 em 6 horas e por fim toma o último de 8 em 8 horas. Às 7 horas da manhã de uma quarta-feira ele tomou os 3 remédios ao mesmo tempo. Quando André irá tomar os remédios juntos novamente?**

- A) Às 7 horas da manhã de uma quinta-feira
- B) Às 7 horas da manhã de um sexta-feira
- C) Às 19h de uma quinta-feira
- d) Às 19h de uma sexta-feira



# PREFEITURA MUNICIPAL DE JEQUITIBÁ

ESTADO DE MINAS GERAIS

**30. Qual é o perímetro de um triângulo retângulo sabendo que seu cateto adjacente mede 16 cm e seu cosseno é igual a 0,8.**

- A) 36.
- B) 48.
- C) 60.
- D) 72.



# PREFEITURA MUNICIPAL DE JEQUITIBÁ

ESTADO DE MINAS GERAIS

## CONHECIMENTOS ESPECÍFICOS – DENTISTA (ESF), DENTISTA

**31. Sabemos que o SUS, sistema único de saúde, possui 03 princípios básicos que garantem a democratização da saúde brasileira, assinale a resposta correta que contém os três princípios:**

- a) Descentralização, participação da comunidade, integral;
- b) Centralização, individualização, direito á saúde;
- c) Universalidade, integralidade, equidade;
- d) Integralidade, universalidade, direito á saúde;

**32. Paciente L. Silva, de 07 anos, sexo masculino, compareceu a UBS acompanhado de um responsável na qual relatou que o dente 51 havia caído a mais de seis meses e que o permanente ainda não havia irrompido ate o presente momento. Ao examinar clinicamente o paciente percebe-se ausência do dente 11 e que em seu lugar a gengiva estava edemaciada, com coloração avermelhada, na palpação percebe que o tecido esta espeço e endurecido, quais procedimentos deve m ser realizados para solução da queixa do paciente?**

- a) Proservar e pedir para que o responsável retorne após um mês;
- b) Radiografar, identificar a posição do dente 11 e realizar a ulectomia;
- c) Pedir para o responsável incentivar a criança comer alimentos duros como a maçã, para incentivar o nascimento do dente permanente;
- d) realizar ulectomia, suturar a ferida e pedir retorno do paciente;

**33. O procedimento que pode ser enquadrado no 4º nível de prevenção da cárie dental é o(a):**

- a) capeamento pulpar direto;
- b) selamento de fossas e fissuras;
- c) fluoretação da água;
- d) nutrição adequada no período de formação dos dentes;

**34. Na tomada radiográfica intrabucal, através da técnica da bisettriz, a angulação horizontal média do feixe de rios-x para radiografia dos caninos inferiores é de:**

- a) 0°;
- b) 45° a 50°;
- c) 55° a 60°;
- d) 65° a 70°;



# PREFEITURA MUNICIPAL DE JEQUITIBÁ

ESTADO DE MINAS GERAIS

**35. Uma lesão primária que se apresenta como uma alteração achatada e circunscrita de mucosa que varia em tamanho, cor e forma é classificada como:**

- a) úlcera;
- b) pápula;
- c) nódulo;
- d) mácula;

**36. A estratégia de Saúde da Família (ESF) é um programa que prioriza as ações de promoção, proteção e recuperação da saúde dos indivíduos e da família, do recém nascido ao idoso, sadios ou doentes, de forma integral e contínua. A inclusão das ações de saúde bucal na Estratégia de Saúde da Família tem como principais objetivos, exceto:**

- a) Melhorar as condições de saúde bucal da população brasileira;
- b) Orientar as práticas de atenção à saúde bucal, por meio da estratégia de organização da Atenção Básica preconizada pela Estratégia da Saúde da Família;
- c) Assegurar o acesso progressivo de todas as famílias residentes nas áreas cobertas pelas equipes de saúde da família às ações de promoção, de prevenção e de assistência em saúde bucal;
- d) Avaliar os padrões de qualidade e o impacto das ações de saúde bucal desenvolvidas, independente dos princípios da ESF da Atenção Básica à Saúde, com a inclusão de equipes de saúde bucal na Estratégia de Saúde da Família;

**37. Um homem com 49 anos de idade procura atendimento odontológico com queixa de dor intolerável, pulsátil, constante e difusa na região de molares inferiores, lado esquerdo. O paciente mostra-se debilitado, com febre alta nos últimos dois dias, dores no corpo e “atrás dos olhos”, apresentando um quadro sistêmico compatível com dengue. Após exame clínico, foi estabelecido diagnóstico de pulpíte irreversível no dente 36 e realizado o alívio da dor através da abertura coronária. Considerando a opção de prescrição medicamentosa para conforto e controle da dor pós o procedimento, qual é o fármaco de eleição?**

- a) Ácido acetilsalicílico;
- b) Ibuprofeno;
- c) Dipirona;
- d) Nimesulida;



# PREFEITURA MUNICIPAL DE JEQUITIBÁ

ESTADO DE MINAS GERAIS

**38. Com relação às lesões de alteração de cor da mucosa bucal, assinale a alternativa que corresponde a seguinte afirmação:**

"É uma linha branca de queratinização friccional, localizada na mucosa da bochecha paralela à linha de oclusão, relacionada a áreas dentadas. Assintomática, apresenta-se, em geral, bilateralmente, com extensão variável e não é removível à raspagem. Constitui uma reação à pressão ou sucção da mucosa decorrente da atividade dos dentes posteriores. Os efeitos dos traumatismos produzidos no nível do plano oclusal e a textura dos alimentos refletem-se no grau de queratinização observado, logo, a linha é mais ou menos evidente em diferentes indivíduos."

- a) Língua geográfica.
- b) Linha alba.
- c) Leucoplasia pilosa.
- d) Linha de Fordyce.

**39. Na radiografia periapical do dente 13, observa-se canal radicular não tratado e presença de imagem radiolúcida circunscrita no ápice, sugestiva de granuloma. Clinicamente este dente não responde aos testes de vitalidade pulpar. A etiologia desta lesão está ligada a fatores que levam a:**

- a) Necrose parcial da polpa dental, atuando rápido e intensamente sobre os tecidos periapicais e o tratamento é a cirurgia paraendodôntica com apicctomia e obturação retrógrada;
- b) Necrose da polpa dental, atuando lenta e concomitantemente sobre os tecidos periapicais e o tratamento é a exodontia do dente;
- c) Decomposição e necrose da polpa dental, atuando com alta intensidade sobre os tecidos periapicais e o tratamento consiste na limpeza e obturação do canal radicular e observação radiográfica periódica;
- d) Decomposição e necrose da polpa dental, atuando com baixa intensidade sobre os tecidos periapicais e o tratamento consiste na limpeza e obturação do canal radicular e observação radiográfica periódica;

**40. Paciente feminino, 13 anos de idade, compareceu a UBS para uma consulta de rotina com o cirurgião dentista. No exame clínico observou-se um pequeno aumento de volume sésil na gengiva vestibular da maxila, em região do elemento 53. No exame radiográfico notou-se a presença de uma lesão radiolúcida circunscrita com calcificações em aspecto de flocos de neve, envolvendo a coroa do elemento 13 e se estendendo apicalmente ao longo da raiz, passando pela junção amelocementária. O paciente não sente sintomatologia. Qual hipótese de diagnóstico?**

- a) Odontoblastoma;
- b) Cisto dentífero;
- c) Tumor odontogênico adenomatóide;
- d) Displasia cemento óssea periapical;]



**PREFEITURA MUNICIPAL DE JEQUITIBÁ**  
ESTADO DE MINAS GERAIS

**PROCESSO SELETIVO SIMPLIFICADO 01/2021**  
**JEQUITIBÁ – MG**

**PROVA OBJETIVA**

**EDUCADOR FÍSICO (NASF)**

**NOME**

**LEGÍVEL:** \_\_\_\_\_

**CPF:** \_\_\_\_\_

**Nº inscrição:** \_\_\_\_\_

**Cargo:** \_\_\_\_\_

- Assinale apenas uma alternativa com caneta esferográfica preta





# PREFEITURA MUNICIPAL DE JEQUITIBÁ

ESTADO DE MINAS GERAIS

## ENSINO MÉDIO COMPLETO – PORTUGUÊS

### TEXTO I

#### **São Demasiado Pobres os Nossos Ricos**

A maior desgraça de uma nação pobre é que, em vez de produzir riqueza, produz ricos. Mas ricos sem riqueza. Na realidade, melhor seria chamá-los não de ricos, mas de endinheirados. Rico é quem possui meios de produção. Rico é quem gera dinheiro e dá emprego. Endinheirado é quem simplesmente tem dinheiro. Ou que pensa que tem. Porque, na realidade, o dinheiro é que o tem a ele.

A verdade é esta: são demasiado pobres os nossos «ricos». Aquilo que têm, não detêm. Pior: aquilo que exibem como seu, é propriedade de outros. É produto de roubo e de negociatas. Não podem, porém, estes nossos endinheirados usufruir em tranquilidade de tudo quanto roubaram. Vivem na obsessão de poderem ser roubados. Necessitavam de forças policiais à altura. Mas forças policiais à altura acabariam por lançá-los a eles próprios na cadeia. Necessitavam de uma ordem social em que houvesse poucas razões para a criminalidade. Mas se eles enriqueceram foi graças a essa mesma desordem.

O maior sonho dos nossos novos-ricos é, afinal, muito pequenito: um carro de luxo, umas efêmeras cintilâncias. Mas a luxuosa viatura não pode sonhar muito, sacudida pelos buracos das avenidas. O Mercedes e o BMW não podem fazer inteiro uso dos seus brilhos, ocupados que estão em se esquivar entre chapas, muito convexos e estradas muito côncavas. A existência de estradas boas dependeria de outro tipo de riqueza. Uma riqueza que servisse a cidade. E a riqueza dos nossos novos-ricos nasceu de um movimento contrário: do empobrecimento da cidade e da sociedade.

As casas de luxo dos nossos falsos ricos são menos para serem habitadas do que para serem vistas. Fizeram-se para os olhos de quem passa. Mas ao exibirem-se, assim, cheias de folhos e chibantices, acabam atraindo alheias cobiças. Por mais guardas que tenham à porta, os nossos pobres-ricos não afastam o receio das invejas e dos feitiços que essas invejas convocam. O fausto das residências não os torna imunes. Pobres dos nossos riquinhos!

São como a cerveja tirada à pressão. São feitos num instante, mas a maior parte é só espuma. O que resta de verdadeiro é mais o copo que o conteúdo. Podiam criar gado ou vegetais. Mas não. Em vez disso, os nossos endinheirados feitos sob pressão criam amantes. Mas as amantes (e/ou os amantes) têm um grave inconveniente: necessitam de ser sustentadas com dispendiosos mimos. O maior inconveniente é ainda a ausência de garantia do produto. A amante de um pode ser, amanhã, amante de outro. O coração do criador de amantes não tem sossego: quem traiu sabe que pode ser traído.

Mia Couto, in 'Pensatempos'

<http://www.citador.pt/textos/sao-demasiado-pobres-os-nossosricos-mia-couto..>



# PREFEITURA MUNICIPAL DE JEQUITIBÁ

ESTADO DE MINAS GERAIS

**01. De acordo com Mia Couto, os desejos de consumo dos endinheirados são vazios e acabam frustrados porque:**

- A) São desejos passageiros que logo perdem o sentido de ser.
- B) Não são frutos de um planejamento e de decisões cautelosas e prudentes.
- C) Vão de encontro à realidade desigual e à falta de estrutura do país.
- D) Apesar de ricos não sabem aplicar o dinheiro e logo perdem o poder aquisitivo.

**02. Por que, na opinião do autor Mia Couto, “são demasiado pobres os nossos «ricos»?**

- A) Porque não sabem utilizar o dinheiro que ganham com inteligência.
- B) Porque não almejam a riqueza do país, mas apenas a aquisição, a qualquer custo, de dinheiro fácil.
- C) Porque não aceitam que pessoas pobres tenham a oportunidade de também vencerem na vida.
- D) Porque investem muito em segurança e acabam ficando enclausurados em suas residências.

**03. Os verbos “vivem” e “torna” presentes nos períodos abaixo são classificados, de acordo com a regência verbal que exercem nessas orações, como sendo:**

- I. “Vivem na obsessão de poderem ser roubados”.
  - II. “O fausto das residências não os torna imunes”.
- A) I. Intransitivo; II. Transitivo direto.
  - B) I. Transitivo indireto; II. Transitivo direto.
  - C) I. Intransitivo; II. Transitivo direto e indireto.
  - D) I. Transitivo indireto; II. Transitivo direto e indireto.



## PREFEITURA MUNICIPAL DE JEQUITIBÁ

ESTADO DE MINAS GERAIS

**04. Em “São demasiado pobres os nossos ricos”, o termo destacado pode ser classificado gramaticalmente como sendo:**

- A) Um substantivo.
- B) Um adjetivo.
- C) Um advérbio.
- D) Uma conjunção.

**05. Assinale a alternativa que preenche corretamente as lacunas abaixo:**

Ao analisar a coesão entre as orações “O coração do criador de amantes não tem sossego: quem traiu sabe que pode ser traído”, pode-se perceber que, no lugar dos dois pontos, poderia ter sido usada a conjunção..... Para manter a ideia de.....

- A) por isso – conclusão.
- B) pois – conclusão.
- C) mas – contradição.
- D) pois – explicação.

**06. Ao observar a concordância dos verbos destacados em “Fizeram-se para os olhos de quem passa. Mas ao exibirem-se, assim, cheias de folhos e chibantices, acabam atraindo alheias cobiças”, pode-se afirmar que:**

- I. “Fizeram” está no plural concordando com “olhos”.
- II. Ambos estão concordando com “casas de luxo”.
- III. “Exibirem” está no plural concordando com “folhos e chibantices”.
- IV. Cada um está realizando a concordância com o seu respectivo sujeito.
- V. Os dois estão concordando com um sujeito mencionado na oração anterior.
- VI. Os dois verbos poderiam estar na 3ª pessoa do singular concordando com o sujeito mais próximo.



# PREFEITURA MUNICIPAL DE JEQUITIBÁ

ESTADO DE MINAS GERAIS

**Assinale a alternativa correta:**

- A) Apenas I, III e VI estão corretos.
- B) Apenas II e V estão corretos.
- C) Apenas II, V e VI estão corretos.
- D) Apenas I, III e IV estão corretos.

**7. Mia Couto, em sua frase “O fausto das residências não os torna imunes”, usou a palavra fausto” para simbolizar:**

- A) Luxo.
- B) Segurança.
- C) Bom gosto.
- D) Discrição.

**08. “São demasiado pobres<sup>1</sup> os nossos ricos<sup>2</sup>”. Ao analisar a função gramatical dos termos grifados nesse período, percebe-se que “pobres” e “ricos” estão desempenhando função de:**

- A) 1. Substantivo e 2. Substantivo.
- B) 1. Adjetivo e 2. Substantivo.
- C) 1. Substantivo e 2. Adjetivo.
- D) 1. Adjetivo e 2. Adjetivo.

**09. Em “São como a cerveja tirada à pressão”, ocorreu a crase por se tratar de uma locução adverbial feminina de modo.**

Assim como essa, outras locuções adverbiais femininas também recebem crase. Assinale a alternativa em que a crase ocorreu por se tratar de uma locução adverbial feminina.

- A) Por mais guardas que tenham à porta, os nossos pobres-ricos não afastam...
- B) Os endinheirados dedicam-se apenas à gastar sem medida.
- C) É uma riqueza que faz referência à ausência de sentimentos humanitários.
- D) A população mais carente assiste atônita à derrocada de seus direitos.



# PREFEITURA MUNICIPAL DE JEQUITIBÁ

ESTADO DE MINAS GERAIS

**10. “Aquilo que têm, não detêm”. Os verbos “têm” e “detêm” recebem acento circunflexo porquê?**

- A) São palavras oxítonas terminam em “EM”.
- B) São palavras paroxítonas terminadas em “EM”.
- C) Estão no singular e precisam ser diferenciadas da forma verbal no plural.
- D) Estão no plural e precisam ser diferenciados da forma verbal no singular.

## **TEXTO II**

### **Fábula: O leão apaixonado**

Certa vez um leão se apaixonou pela filha de um lenhador e foi pedir a mão dela em casamento. O lenhador não ficou muito animado com a ideia de ver a filha com um marido perigoso daqueles e disse ao leão que era muita honra, mas muito obrigado, não queria. O leão se irritou; sentindo o perigo, o homem foi esperto e fingiu que concordava:

- É uma honra, meu senhor. Mas que dentes o senhor tem! Que garras compridas! Qualquer moça ia ficar com medo. Se o senhor quer casar com minha filha, vai ter que arrancar os dentes e cortar as garras.

O leão apaixonado foi correndo fazer o que o outro tinha mandado; depois voltou à casa do pai da moça e repetiu seu pedido de casamento. Mas o lenhador, que já não sentia medo daquele leão manso e desarmado, pegou um pau e tocou o leão para fora de sua casa.

Moral: Quem perde a cabeça por amor sempre acaba mal.

### **11. A fábula de Esopo:**

- A) Não trata de nenhum tema específico.
- B) Pretende mostrar a estratificação social.
- C) Se utiliza de animais para denunciar o preconceito.
- D) Trata uma história de amor impossível.



## PREFEITURA MUNICIPAL DE JEQUITIBÁ

ESTADO DE MINAS GERAIS

**12. A fábula começa apresentando o leão e logo nos vêm à mente todas as características tradicionalmente atribuídas ao animal. Ao final da narrativa, porém, percebemos que o leão foi:**

- A) Submisso
- B) Corajoso
- C) Cruel
- D) Justo

**13. Aponte a alternativa que contém uma característica pertinente ao texto:**

- A) O tempo e o espaço em que os fatos se dão estão bem definidos.
- B) É uma narrativa curta, por isso não apresenta os elementos básicos da narrativa.
- C) Título insignificante para a trama.
- D) Encerra em si uma linguagem simples, pois dirige-se ao povo.

**14. Considere as três afirmações abaixo acerca do texto lido:**

- I. Apesar de tratar-se de uma narrativa é possível que consideremos algumas passagens argumentativas.
- II. Apresenta uma situação problemática, ou seja, existe um conflito.
- III. É narrado em 3ª pessoa.

**Diante da análise acima, podemos afirmar que:**

- A) I e II estão corretas.
- B) Apenas III está correta.
- C) I, II e III estão corretas.
- D) Apenas I está correta.



## PREFEITURA MUNICIPAL DE JEQUITIBÁ

ESTADO DE MINAS GERAIS

**15. O texto está repleto de adjetivos. Qual o papel fundamental deles na fábula?**

- A) Caracterizar os personagens e a partir disso permear as ações sendo determinantes para o conflito e o desfecho da narrativa.
- B) Construir o próprio sentido do texto, sem adjetivos para sustentar a fábula, ela não se realiza como gênero textual.
- C) Nenhum, pois os adjetivos formam uma classe gramatical meramente alegórica.
- D) Mostrar a constância nas atitudes e pensamentos das personagens, fluindo para um desfecho claro e previsível.



**PREFEITURA MUNICIPAL DE JEQUITIBÁ**  
ESTADO DE MINAS GERAIS

**ENSINO MÉDIO COMPLETO – MATEMÁTICA**

16. O sistema ordenado  $(x, y)$  de equações  $\begin{cases} 3x + 4y = 72 \\ 5x + 2y = 64 \end{cases}$  tem como solução o par

Sendo assim,  $8x - 5y$  é igual a:

- A) 8
- B) 12
- C) 4
- D) 20

17. Uma bola de tênis custa o triplo do preço de uma bola de golf. Essa bola de golf custa o dobro do preço da bola de baseball. Carlos comprou uma bola de cada e pagou pelas três R\$180,00. O preço da bola de tênis é:

- A) R\$60,00
- B) R\$90,00
- C) R\$20,00
- D) R\$120,00

18. Qual é a raiz cúbica de 5832?

- a) 12
- b) 17
- c) 19
- d) 18

19. O gráfico da função  $f(x) = 18 - 35x$  é uma:

- A) Parábola com concavidade para cima
- B) Uma reta crescente
- C) Parábola com concavidade para baixo
- D) Uma reta decrescente

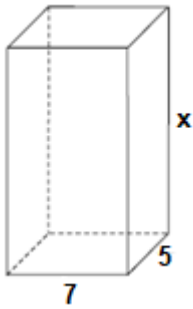
20. Um tanque de água, com capacidade máxima para  $455 \text{ m}^3$ , tem a forma de um prisma reto de base retangular, cujas medidas internas, em metros, estão indicadas na figura.





# PREFEITURA MUNICIPAL DE JEQUITIBÁ

ESTADO DE MINAS GERAIS



a altura desse reservatório, indicada na figura pela letra x, é igual a

- A) 10 m.
- B) 12 m.
- C) 13 m.
- D) 15 m.

**21. Quantos anagramas é possível fazer com a palavra JEQUITIBA**

A) 9!

B)  $\frac{9!}{2!}$

C)  $\frac{2!}{9!}$

D) Nenhuma das alternativas

**22. Um médico realiza, em cinco dias úteis de uma determinada semana, respectivamente, 15, 20, 25, 27 e 28 atendimentos diários. A média diária de atendimentos é de:**

- A) 23.
- B) 25.
- C) 27.
- D) 28.

**23. Uma moto com velocidade constante de 90 km/h faz determinado percurso em 80 minutos. Qual foi a velocidade da moto sabendo que em outro momento ela fez esse mesmo percurso em 1h 40minutos?**

- (A) 112,5km/h.
- (B) 72km/h.
- (C) 82km/h.
- (D) 80km/h.



# PREFEITURA MUNICIPAL DE JEQUITIBÁ

ESTADO DE MINAS GERAIS

**24. Foi aplicado à taxa de juros simples de 30% a.m. um capital de R\$160.000,00 durante o período de 5 meses. Quanto foi o juro obtido nessa aplicação?**

- A) R\$48.000,00.
- B) R\$400.000,00
- C) R\$240.000,00
- D) Nenhuma das alternativas

**25. A sequência numérica (15, 30, 60, 120, 240, 480) é uma Progressão:**

- A) Aritmética de razão 2.
- B) Aritmética de razão 4.
- C) Aritmética de razão 6.
- D) Geométrica de razão 2.

**26. A soma dos ângulos internos de um triângulo é:**

- A) 90°
- B) 360°
- C) 180°
- D) 270°

**27. Quais os valores de x na equação  $x^2 + 7x + 10 = 0$**

- A) 2 e 5
- B) 7 e 10.
- C) -2 e -5.
- D) 2 e 5

**28. Certo produto que custava R\$380,00 teve um aumento de 25%. Com esse aumento o produto passou a custar:**

- A) R\$405,00
- B) R\$457,00
- C) R\$475,00
- D) nenhuma das alternativas

**29. André toma 3 tipos de remédios, toma um de 4 em 4 horas, toma outro de 6 em 6 horas e por fim toma o último de 8 em 8 horas. Às 7 horas da manhã de uma quarta-feira ele tomou os 3 remédios ao mesmo tempo. Quando André irá tomar os remédios juntos novamente?**

- A) Às 7 horas da manhã de uma quinta-feira
- B) Às 7 horas da manhã de um sexta-feira
- C) Às 19h de uma quinta-feira
- D) Às 19h de uma sexta-feira



# PREFEITURA MUNICIPAL DE JEQUITIBÁ

ESTADO DE MINAS GERAIS

**30. Qual é o perímetro de um triângulo retângulo sabendo que seu cateto adjacente mede 16 cm e seu cosseno é igual a 0,8.**

- A) 36.
- B) 48.
- C) 60.
- D) 72.



# PREFEITURA MUNICIPAL DE JEQUITIBÁ

ESTADO DE MINAS GERAIS

## CONHECIMENTOS ESPECÍFICOS – EDUCADOR FÍSICO (ESF)

**31. Sabemos que a resistência é caracterizada como a capacidade de se submeter a esforços de longa duração e de intensidade moderada, sem causar fadiga no indivíduo e que deve possibilitar ao atleta aumentar a sua capacidade de suportar as cargas de treinamento e de competição, tanto em volume como em intensidade, acelerar a sua recuperação entre as fases do esforço e estabilizar a sua técnica. Considerando um tempo de esforço, a resistência de média duração de 15 a 90 segundos, podemos afirmar que há a predominância do sistema:**

- a-) energético de ATP e ATP-CP;
- b-) da glicólise anaeróbia;
- c-) aeróbio com a degradação do glicogênio;
- d-) aeróbio e com a degradação das gorduras.

**32. É sabido que nos últimos anos, a população de idosos cresceu significativamente. Dados do Ministério da Saúde sugerem que, em 2025, o Brasil será o 6º país com maior população idosa do mundo. Com o envelhecimento, a tendência é que as pessoas se tornem cada vez menos ativas, com base na ideia de que a prática de atividade física é uma tarefa para os mais jovens. Assinale a alternativa incorreta com base na prática de atividade física pelo idoso:**

- a) Aumenta o VO<sub>2</sub> máximo
- b) Melhora do perfil lipídico
- c) Melhor controle da pressão arterial de repouso.
- d) Aumenta a dependência para realização de atividades diárias.

**33. A prática regular de atividade física, orientada por um educador físico, pode contribuir para**

- a) aumentar a prevalência de doenças crônicas.
- b) prevenir diabetes, hipertensão e dengue.
- c) melhora condições metabólicas e qualidade de vida
- d) controlar apenas a obesidade mórbida.



## PREFEITURA MUNICIPAL DE JEQUITIBÁ

ESTADO DE MINAS GERAIS

**34. Para localizar as partes do corpo e defini-las, é necessário partirmos do indivíduo na posição em pé e anatômica. Esse plano vertical é perpendicular ao plano sagital e divide o corpo em partes anterior e posterior. O termo anterior refere-se às localizações que estão mais perto à frente do corpo, enquanto a posterior refere-se na direção da parte de trás. Diante disso trata-se:**

- a-) Do plano frontal;
- b-) Do plano horizontal;
- c-) Do plano lateral;
- d-) Do plano medial.

**35. Em relação aos benefícios dos exercícios aeróbios, assinale a alternativa correta:**

- I – Minimiza a pressão sanguínea;
  - II – Ajuda na qualidade do sono;
  - III – Diminui a gordura no corpo;
  - IV – Regula os níveis de colesterol.
- a-) Apenas os itens I e II são verdadeiros.
  - b-) Apenas os itens II e IV são verdadeiros.
  - c-) Apenas os itens II e III são verdadeiros;
  - d-) Todos os itens são verdadeiros.

**36. A periodização no treinamento desportivo é uma importante ferramenta na organização profissional de Educação Física, para proporcionar efetividade nos resultados, marque de forma correta os componentes que compõem a periodização:**

- a -) Macrociclos, mesociclos e Microciclos;
- b-) Adaptação, resistência e hipertrofia;
- c-) Competição, preparação e pré-competitiva;
- d-) Iniciação, aperfeiçoamento e alto-nível.

**37. Assinale a alternativa incorreta acerca das diretrizes dos NASF para atuação do profissional de Educação Física.**

- a-) Fortalecer e promover o direito constitucional ao lazer;
- b-) Primar por intervenções que favoreçam a individualidade mais que a coletividade;



## PREFEITURA MUNICIPAL DE JEQUITIBÁ

ESTADO DE MINAS GERAIS

- c-) Desenvolver ações que promovam a inclusão social e que tenham a integralidade do sujeito, o cuidado integral e a abrangência dos ciclos da vida como princípios de organização e fomento das práticas corporais/atividade física;
- d-) Divulgar informações que possam contribuir para adoção de modos de vida saudáveis por parte da comunidade.

**38. Durante a prática de atividade física do NASF, um dos alunos, portador de diabetes mellitus, que faz uso de insulina, apresentou sintomas de fraqueza, tremor, transpiração anormal e formigamento dos dedos. Nesse caso, podemos afirmar que o referido aluno apresentou um quadro clássico de:**

- a-) Hipotensão;
- b-) Hipoglicemia;
- c-) Hiperinsulinemia;
- e-) Taquicardia.

**39. Acerca das doenças crônicas não transmissíveis, é CORRETO afirmar:**

- I – Mudanças no estilo de vida das pessoas contribuem para o predomínio dessas doenças
- II – Tabagismo, alimentação não saudável, sedentarismo e consumo excessivo de álcool são fatores de risco comuns para o desenvolvimento de doenças crônicas.
- III – A obesidade e o sobrepeso não podem ser relacionados à a doenças crônicas não transmissíveis, pois influenciam apenas no surgimento da hipertensão arterial e do diabetes.
- IV – A automedicação e o auto cuidado não podem ser considerados uma medida efetiva no controle das doenças crônicas, pois a pessoa não pode se responsabilizar unicamente pelo tratamento, prevenção e controle de um problema de saúde que deve ser oferecido de forma integral pela atenção primária em saúde.

Assinale a alternativa CORRETA.

- a-) Estão corretas somente as afirmativas I e II;
- b-) Estão corretas somente as afirmativas I, III e IV;
- c-) Estão corretas somente as afirmativas II e IV;
- d-) Estão corretas somente as afirmativas I, II e IV.



## PREFEITURA MUNICIPAL DE JEQUITIBÁ

ESTADO DE MINAS GERAIS

**40. Durante a prática de exercícios físicos o organismo apresenta adaptações de ordem aguda que desaparece logo após o término da atividade se encerrar ou adaptações crônicas que persistem no organismo, mesmo após o fim da atividade. Diante disso, assinale a alternativa que melhor representa essas adaptações:**

- a-) Aumento do débito cardíaco e volume de oxigênio durante o exercício são exemplos de adaptações crônicas;
- b-) Aumento na Razão de troca respiratória e volume de oxigênio durante o exercício são exemplos de adaptações crônicas;
- c-) Aumento da frequência cardíaca e respiratória durante o exercício são exemplos de adaptações agudas;
- d-) Aumento do volume máximo de oxigênio e volume de oxigênio durante o exercício são exemplos de adaptações crônicas



**PREFEITURA MUNICIPAL DE JEQUITIBÁ**  
ESTADO DE MINAS GERAIS

**PROCESSO SELETIVO SIMPLIFICADO 01/2021**  
**JEQUITIBÁ – MG**

**PROVA OBJETIVA**

- ENFERMEIRO I
- ENFERMEIRO PLANTONISTA
- ENFERMEIRA (ESF)

**NOME**

**LEGÍVEL:** \_\_\_\_\_

**CPF:** \_\_\_\_\_

**Nº inscrição:** \_\_\_\_\_

**Cargo:** \_\_\_\_\_

- Assinale apenas uma alternativa com caneta esferográfica preta





# PREFEITURA MUNICIPAL DE JEQUITIBÁ

ESTADO DE MINAS GERAIS

## ENSINO MÉDIO COMPLETO – PORTUGUÊS

### TEXTO I

#### **São Demasiado Pobres os Nossos Ricos**

A maior desgraça de uma nação pobre é que, em vez de produzir riqueza, produz ricos. Mas ricos sem riqueza. Na realidade, melhor seria chamá-los não de ricos, mas de endinheirados. Rico é quem possui meios de produção. Rico é quem gera dinheiro e dá emprego. Endinheirado é quem simplesmente tem dinheiro. Ou que pensa que tem. Porque, na realidade, o dinheiro é que o tem a ele.

A verdade é esta: são demasiado pobres os nossos «ricos». Aquilo que têm, não detêm. Pior: aquilo que exibem como seu, é propriedade de outros. É produto de roubo e de negociatas. Não podem, porém, estes nossos endinheirados usufruir em tranquilidade de tudo quanto roubaram. Vivem na obsessão de poderem ser roubados. Necessitavam de forças policiais à altura. Mas forças policiais à altura acabariam por lançá-los a eles próprios na cadeia. Necessitavam de uma ordem social em que houvesse poucas razões para a criminalidade. Mas se eles enriqueceram foi graças a essa mesma desordem.

O maior sonho dos nossos novos-ricos é, afinal, muito pequenito: um carro de luxo, umas efêmeras cintilâncias. Mas a luxuosa viatura não pode sonhar muito, sacudida pelos buracos das avenidas. O Mercedes e o BMW não podem fazer inteiro uso dos seus brilhos, ocupados que estão em se esquivar entre chapas, muito convexos e estradas muito côncavas. A existência de estradas boas dependeria de outro tipo de riqueza. Uma riqueza que servisse a cidade. E a riqueza dos nossos novos-ricos nasceu de um movimento contrário: do empobrecimento da cidade e da sociedade.

As casas de luxo dos nossos falsos ricos são menos para serem habitadas do que para serem vistas. Fizeram-se para os olhos de quem passa. Mas ao exibirem-se, assim, cheias de folhos e chibantices, acabam atraindo alheias cobiças. Por mais guardas que tenham à porta, os nossos pobres-ricos não afastam o receio das invejas e dos feitiços que essas invejas convocam. O fausto das residências não os torna imunes. Pobres dos nossos riquinhos!

São como a cerveja tirada à pressão. São feitos num instante, mas a maior parte é só espuma. O que resta de verdadeiro é mais o copo que o conteúdo. Podiam criar gado ou vegetais. Mas não. Em vez disso, os nossos endinheirados feitos sob pressão criam amantes. Mas as amantes (e/ou os amantes) têm um grave inconveniente: necessitam de ser sustentadas com dispendiosos mimos. O maior inconveniente é ainda a ausência de garantia do produto. A amante de um pode ser, amanhã, amante de outro. O coração do criador de amantes não tem sossego: quem traiu sabe que pode ser traído.

Mia Couto, in 'Pensatempos'



# PREFEITURA MUNICIPAL DE JEQUITIBÁ

ESTADO DE MINAS GERAIS

<http://www.citador.pt/textos/sao-demasiado-pobres-os-nossosricos-mia-couto..>

**01. De acordo com Mia Couto, os desejos de consumo dos endinheirados são vazios e acabam frustrados porque:**

- A) São desejos passageiros que logo perdem o sentido de ser.
- B) Não são frutos de um planejamento e de decisões cautelosas e prudentes.
- C) Vão de encontro à realidade desigual e à falta de estrutura do país.
- D) Apesar de ricos não sabem aplicar o dinheiro e logo perdem o poder aquisitivo.

**02. Por que, na opinião do autor Mia Couto, “são demasiado pobres os nossos «ricos»?**

- A) Porque não sabem utilizar o dinheiro que ganham com inteligência.
- B) Porque não almejam a riqueza do país, mas apenas a aquisição, a qualquer custo, de dinheiro fácil.
- C) Porque não aceitam que pessoas pobres tenham a oportunidade de também vencerem na vida.
- D) Porque investem muito em segurança e acabam ficando enclausurados em suas residências.

**03. Os verbos “vivem” e “torna” presentes nos períodos abaixo são classificados, de acordo com a regência verbal que exercem nessas orações, como sendo:**

- I. “Vivem na obsessão de poderem ser roubados”.
  - II. “O fausto das residências não os torna imunes”.
- A) I. Intransitivo; II. Transitivo direto.
  - B) I. Transitivo indireto; II. Transitivo direto.
  - C) I. Intransitivo; II. Transitivo direto e indireto.
  - D) I. Transitivo indireto; II. Transitivo direto e indireto.



## PREFEITURA MUNICIPAL DE JEQUITIBÁ

ESTADO DE MINAS GERAIS

**04. Em “São demasiado pobres os nossos ricos”, o termo destacado pode ser classificado gramaticalmente como sendo:**

- A) Um substantivo.
- B) Um adjetivo.
- C) Um advérbio.
- D) Uma conjunção.

**05. Assinale a alternativa que preenche corretamente as lacunas abaixo:**

Ao analisar a coesão entre as orações “O coração do criador de amantes não tem sossego: quem traiu sabe que pode ser traído”, pode-se perceber que, no lugar dos dois pontos, poderia ter sido usada a conjunção..... Para manter a ideia de.....

- A) por isso – conclusão.
- B) pois – conclusão.
- C) mas – contradição.
- D) pois – explicação.

**06. Ao observar a concordância dos verbos destacados em “Fizeram-se para os olhos de quem passa. Mas ao exibirem-se, assim, cheias de folhos e chibantices, acabam atraindo alheias cobiças”, pode-se afirmar que:**

- I. “Fizeram” está no plural concordando com “olhos”.
- II. Ambos estão concordando com “casas de luxo”.
- III. “Exibirem” está no plural concordando com “folhos e chibantices”.
- IV. Cada um está realizando a concordância com o seu respectivo sujeito.
- V. Os dois estão concordando com um sujeito mencionado na oração anterior.
- VI. Os dois verbos poderiam estar na 3ª pessoa do singular concordando com o sujeito mais próximo.



# PREFEITURA MUNICIPAL DE JEQUITIBÁ

ESTADO DE MINAS GERAIS

**Assinale a alternativa correta:**

- A) Apenas I, III e VI estão corretos.
- B) Apenas II e V estão corretos.
- C) Apenas II, V e VI estão corretos.
- D) Apenas I, III e IV estão corretos.

**7. Mia Couto, em sua frase “O fausto das residências não os torna imunes”, usou a palavra fausto” para simbolizar:**

- A) Luxo.
- B) Segurança.
- C) Bom gosto.
- D) Discrição.

**08. “São demasiado pobres<sup>1</sup> os nossos ricos<sup>2</sup>”. Ao analisar a função gramatical dos termos grifados nesse período, percebe-se que “pobres” e “ricos” estão desempenhando função de:**

- A) 1. Substantivo e 2. Substantivo.
- B) 1. Adjetivo e 2. Substantivo.
- C) 1. Substantivo e 2. Adjetivo.
- D) 1. Adjetivo e 2. Adjetivo.

**09. Em “São como a cerveja tirada à pressão”, ocorreu a crase por se tratar de uma locução adverbial feminina de modo.**

Assim como essa, outras locuções adverbiais femininas também recebem crase. Assinale a alternativa em que a crase ocorreu por se tratar de uma locução adverbial feminina.

- A) Por mais guardas que tenham à porta, os nossos pobres-ricos não afastam...
- B) Os endinheirados dedicam-se apenas à gastar sem medida.
- C) É uma riqueza que faz referência à ausência de sentimentos humanitários.
- D) A população mais carente assiste atônita à derrocada de seus direitos.



# PREFEITURA MUNICIPAL DE JEQUITIBÁ

ESTADO DE MINAS GERAIS

**10. “Aquilo que têm, não detêm”. Os verbos “têm” e “detêm” recebem acento circunflexo porquê?**

- A) São palavras oxítonas terminam em “EM”.
- B) São palavras paroxítonas terminadas em “EM”.
- C) Estão no singular e precisam ser diferenciadas da forma verbal no plural.
- D) Estão no plural e precisam ser diferenciados da forma verbal no singular.

## **TEXTO II**

### **Fábula: O leão apaixonado**

Certa vez um leão se apaixonou pela filha de um lenhador e foi pedir a mão dela em casamento. O lenhador não ficou muito animado com a ideia de ver a filha com um marido perigoso daqueles e disse ao leão que era muita honra, mas muito obrigado, não queria. O leão se irritou; sentindo o perigo, o homem foi esperto e fingiu que concordava:

- É uma honra, meu senhor. Mas que dentes o senhor tem! Que garras compridas! Qualquer moça ia ficar com medo. Se o senhor quer casar com minha filha, vai ter que arrancar os dentes e cortar as garras.

O leão apaixonado foi correndo fazer o que o outro tinha mandado; depois voltou à casa do pai da moça e repetiu seu pedido de casamento. Mas o lenhador, que já não sentia medo daquele leão manso e desarmado, pegou um pau e tocou o leão para fora de sua casa.

Moral: Quem perde a cabeça por amor sempre acaba mal.

### **11. A fábula de Esopo:**

- A) Não trata de nenhum tema específico.
- B) Pretende mostrar a estratificação social.
- C) Se utiliza de animais para denunciar o preconceito.
- D) Trata uma história de amor impossível.



## PREFEITURA MUNICIPAL DE JEQUITIBÁ

ESTADO DE MINAS GERAIS

**12. A fábula começa apresentando o leão e logo nos vêm à mente todas as características tradicionalmente atribuídas ao animal. Ao final da narrativa, porém, percebemos que o leão foi:**

- A) Submisso
- B) Corajoso
- C) Cruel
- D) Justo

**13. Aponte a alternativa que contém uma característica pertinente ao texto:**

- A) O tempo e o espaço em que os fatos se dão estão bem definidos.
- B) É uma narrativa curta, por isso não apresenta os elementos básicos da narrativa.
- C) Título insignificante para a trama.
- D) Encerra em si uma linguagem simples, pois dirige-se ao povo.

**14. Considere as três afirmações abaixo acerca do texto lido:**

- I. Apesar de tratar-se de uma narrativa é possível que consideremos algumas passagens argumentativas.
- II. Apresenta uma situação problemática, ou seja, existe um conflito.
- III. É narrado em 3ª pessoa.

**Diante da análise acima, podemos afirmar que:**

- A) I e II estão corretas.
- B) Apenas III está correta.
- C) I, II e III estão corretas.
- D) Apenas I está correta.



## PREFEITURA MUNICIPAL DE JEQUITIBÁ

ESTADO DE MINAS GERAIS

**15. O texto está repleto de adjetivos. Qual o papel fundamental deles na fábula?**

- A) Caracterizar os personagens e a partir disso permear as ações sendo determinantes para o conflito e o desfecho da narrativa.
- B) Construir o próprio sentido do texto, sem adjetivos para sustentar a fábula, ela não se realiza como gênero textual.
- C) Nenhum, pois os adjetivos formam uma classe gramatical meramente alegórica.
- D) Mostrar a constância nas atitudes e pensamentos das personagens, fluindo para um desfecho claro e previsível.



**PREFEITURA MUNICIPAL DE JEQUITIBÁ**  
ESTADO DE MINAS GERAIS

**ENSINO MÉDIO COMPLETO – MATEMÁTICA**

16. O sistema ordenado  $(x, y)$  de equações  $\begin{cases} 3x + 4y = 72 \\ 5x + 2y = 64 \end{cases}$  tem como solução o par

Sendo assim,  $8x - 5y$  é igual a:

- A) 8
- B) 12
- C) 4
- D) 20

17. Uma bola de tênis custa o triplo do preço de uma bola de golf. Essa bola de golf custa o dobro do preço da bola de baseball. Carlos comprou uma bola de cada e pagou pelas três R\$180,00. O preço da bola de tênis é:

- A) R\$60,00
- B) R\$90,00
- C) R\$20,00
- D) R\$120,00

18. Qual é a raiz cúbica de 5832?

- a) 12
- b) 17
- c) 19
- d) 18

19. O gráfico da função  $f(x) = 18 - 35x$  é uma:

- A) Parábola com concavidade para cima
- B) Uma reta crescente
- C) Parábola com concavidade para baixo
- D) Uma reta decrescente

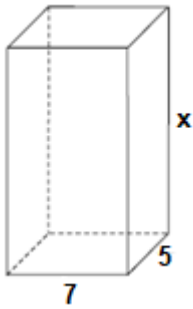
20. Um tanque de água, com capacidade máxima para  $455 \text{ m}^3$ , tem a forma de um prisma reto de base retangular, cujas medidas internas, em metros, estão indicadas na figura.





# PREFEITURA MUNICIPAL DE JEQUITIBÁ

ESTADO DE MINAS GERAIS



a altura desse reservatório, indicada na figura pela letra x, é igual a

- A) 10 m.
- B) 12 m.
- C) 13 m.
- D) 15 m.

**21. Quantos anagramas é possível fazer com a palavra JEQUITIBA**

A) 9!

B)  $\frac{9!}{2!}$

C)  $\frac{2!}{9!}$

D) Nenhuma das alternativas

**22. Um médico realiza, em cinco dias úteis de uma determinada semana, respectivamente, 15, 20, 25, 27 e 28 atendimentos diários. A média diária de atendimentos é de:**

- A) 23.
- B) 25.
- C) 27.
- D) 28.

**23. Uma moto com velocidade constante de 90 km/h faz determinado percurso em 80 minutos. Qual foi a velocidade da moto sabendo que em outro momento ela fez esse mesmo percurso em 1h 40minutos?**

- (A) 112,5km/h.
- (B) 72km/h.
- (C) 82km/h.
- (D) 80km/h.



# PREFEITURA MUNICIPAL DE JEQUITIBÁ

ESTADO DE MINAS GERAIS

**24. Foi aplicado à taxa de juros simples de 30% a.m. um capital de R\$160.000,00 durante o período de 5 meses. Quanto foi o juro obtido nessa aplicação?**

- A) R\$48.000,00.
- B) R\$400.000,00
- C) R\$240.000,00
- D) Nenhuma das alternativas

**25. A sequência numérica (15, 30, 60, 120, 240, 480) é uma Progressão:**

- A) Aritmética de razão 2.
- B) Aritmética de razão 4.
- C) Aritmética de razão 6.
- D) Geométrica de razão 2.

**26. A soma dos ângulos internos de um triângulo é:**

- A) 90°
- B) 360°
- C) 180°
- D) 270°

**27. Quais os valores de x na equação  $x^2 + 7x + 10 = 0$**

- A) 2 e 5
- B) 7 e 10.
- C) -2 e -5.
- D) 2 e 5

**28. Certo produto que custava R\$380,00 teve um aumento de 25%. Com esse aumento o produto passou a custar:**

- A) R\$405,00
- B) R\$457,00
- C) R\$475,00
- D) nenhuma das alternativas

**29. André toma 3 tipos de remédios, toma um de 4 em 4 horas, toma outro de 6 em 6 horas e por fim toma o último de 8 em 8 horas. Às 7 horas da manhã de uma quarta-feira ele tomou os 3 remédios ao mesmo tempo. Quando André irá tomar os remédios juntos novamente?**

- A) Às 7 horas da manhã de uma quinta-feira
- B) Às 7 horas da manhã de um sexta-feira
- C) Às 19h de uma quinta-feira
- D) Às 19h de uma sexta-feira



# PREFEITURA MUNICIPAL DE JEQUITIBÁ

ESTADO DE MINAS GERAIS

**30. Qual é o perímetro de um triângulo retângulo sabendo que seu cateto adjacente mede 16 cm e seu cosseno é igual a 0,8.**

- A) 36.
- B) 48.
- C) 60.
- D) 72.



# PREFEITURA MUNICIPAL DE JEQUITIBÁ

ESTADO DE MINAS GERAIS

## **CONHECIMENTOS ESPECÍFICOS – ENFERMEIRO I, ENFERMEIRO PLANTONISTA, ENFERMEIRA (ESF)**

**31. O Brasil possui o Programa Nacional de Imunização (PNI) do Ministério da Saúde, as vacinas que devem ser administradas nos bebês ao nascer e aos 2 meses, são:**

- a-) BCG, Hepatite B, Inativada Poliomelite (VIP);
- b-) Vacina Inativada Poliomelite (VIP), Pneumocócica 10, Febre Amarela;
- c-) BCG, Hepatite B, Pentavalente;
- d-) Hepatite A, Pentavalente, Pneumocócica 10.

**32. O Sistema Único de Saúde, criado sobre a Lei n.º 8.080, de 19 de setembro de 1990, dispõe sobre as condições para a promoção, proteção, recuperação da saúde, organização e funcionamento dos serviços de saúde em todo território brasileiro. Para que essas condições sejam possíveis de realização, o SUS possui três pilares essenciais, que são:**

- a-) regionalização, equidade e universalidade;
- b-) equidade, universalidade e integralidade;
- c-) integralidade, descentralização e participação popular;
- d-) regionalização, descentralização e participação popular.

**33. Em relação ao processo de enfermagem, analise as afirmativas abaixo.**

I - A implementação refere-se à realização do plano de cuidado proposto. O enfermeiro deve assumir a responsabilidade pela implementação, e a realização das intervenções deve ser feita exclusivamente por esse profissional;

II - A entrevista e o exame físico são etapas fundamentais para o levantamento de problemas, eles são realizados durante a fase de implementação do processo de enfermagem;

III - A aplicação efetiva do processo de enfermagem conduz à melhoria da qualidade dos cuidados de saúde e estimula a construção de conhecimentos teóricos e científicos com base na melhor prática clínica;

IV - O processo tem sido definido como uma forma sistemática e dinâmica de prestar cuidados de enfermagem, que é realizado por meio de cinco etapas interligadas: coleta de dados, diagnóstico, planejamento, implementação e avaliação.

Assinale a afirmativa INCORRETA.



## PREFEITURA MUNICIPAL DE JEQUITIBÁ

ESTADO DE MINAS GERAIS

- a-) II e III;
- b-) I e IV;
- c-) I e II;
- d-) III e IV.

**34. A terapia com insulina pode ser necessária para controlar o Diabetes mellitus. Durante o seu uso, é necessário a realização de rodízio dos locais de injeção, para prevenir qual agravo:**

- a-) hipoglicemia.
- b-) hiperglicemia.
- c-) lipodistrofia.
- d-) edema.

**35. O profissional de enfermagem deve estar bem atento quando se refere à administração de medicamentos, e para que diminuam os riscos envolvidos nesse procedimento há “Os cinco certos da medicação”, entretanto, é recente a inclusão de mais um “certo”, que se refere:**

- a-) à via de administração.
- b-) ao registro.
- c-) ao medicamento.
- d-) ao horário.

**36. Está listada como atribuição específica do enfermeiro que atua na Atenção Básica/Saúde da Família:**

- a-) diagnosticar e tratar precocemente os agravos/doenças conforme orientações preconizadas na vigilância em saúde;
- b-) encaminhar, quando necessário, os casos graves para a Unidade, respeitando fluxos locais;
- c-) enviar mensalmente, ao setor competente, as informações epidemiológicas de sua área de atuação.
- d-) planejar, gerenciar, coordenar e avaliar as ações desenvolvidas pelos Agentes Comunitários de Saúde.



## **PREFEITURA MUNICIPAL DE JEQUITIBÁ**

ESTADO DE MINAS GERAIS

**37. A intoxicação por ingestão de materiais tóxicos, inadvertida ou proposital, constitui um risco importante de saúde e uma situação de emergência. É uma das metas do início do tratamento de emergência:**

- a-) transportar imediatamente o paciente para o ar fresco;
- b-) remover ou inativar o tóxico antes que ele seja absorvido;
- c-) manter o paciente o mais quieto possível, imobilizando-o;
- d-) implementar a absorção do tóxico e a eliminação rápida;

**38. O Profissional de enfermagem possui lei que regulamenta o exercício do mesmo (Lei nº 7.498/86), e em seu Artigo 11º regulamenta uma atividade que é privativa do enfermeiro. Assinale a alternativa correta:**

- a-) participar da programação da assistência de enfermagem e cuidados de enfermagem indiretos;
- b-) prescrição da assistência de enfermagem à parturiente e prestação da assistência à parturiente;
- c-) prevenção e controle sistemático da infecção nosocomial e em projetos de reforma de unidades;
- d-) consulta de enfermagem e cuidados diretos de enfermagem a clientes graves em risco de vida.

**39. Com base na nova Política Nacional de Atenção Básica (Portaria 2436 de 21 de setembro de 2017), e em relação a Estratégia Saúde da Família, analise a alternativa correta:**

- I – É a estratégia prioritária de atenção à saúde;
- II – O Número de ACS depende da base populacional e o número máximo de pessoas por ACS é de 750;
- III – O Número de ACS depende da base populacional e o número máximo de pessoas por ACS é de 850;
- IV – Sua equipe mínima é composta por, pelo menos, Enfermeiro, Médico, Técnico ou Auxiliar de Enfermagem e Agente Comunitário de Saúde (ACS), com ou sem saúde bucal;
- V - Sua equipe mínima é composta por, pelo menos, Enfermeiro, Médico, Técnico ou Auxiliar



## PREFEITURA MUNICIPAL DE JEQUITIBÁ

ESTADO DE MINAS GERAIS

de Enfermagem e Agente de Endemias, com ou sem saúde bucal.  
Estão CORRETAS as afirmativas:

- a-) I, II e IV;
- b-) I, II e V;
- c-) I, III e IV;
- d-) I, III e V.

**40. A Política de Planejamento Familiar é a política pública que leva em consideração a saúde e os direitos sexuais e reprodutivos de homens e mulheres na fase adulta. A finalidade dessa política é a prevenção e a orientação dos métodos contraceptivos para planejamento familiar no âmbito do Sistema Único de Saúde-SUS. Frente a isso marque a alternativa INCORRETA:**

- a-) É muito importante oferecer diferentes opções de métodos anticoncepcionais para todas as etapas da vida reprodutiva, de modo que as pessoas tenham a possibilidade de escolher o método mais apropriado às suas necessidades e circunstâncias de vida;
- b-) O SUS, não deve garantir a atenção integral à saúde, que inclua a assistência à concepção e à contracepção, num contexto de respeito aos direitos sexuais e aos direitos reprodutivos.
- c-) O dispositivo intrauterino (DIU) é um método contraceptivo indicado pelo Ministério da Saúde;
- d-) Os métodos contraceptivos hormonais são classificados como reversíveis.



**PREFEITURA MUNICIPAL DE JEQUITIBÁ**  
ESTADO DE MINAS GERAIS

**PROCESSO SELETIVO SIMPLIFICADO 01/2021**  
**JEQUITIBÁ – MG**

**PROVA OBJETIVA**

**FISIOTERAPEUTA (NASF)**

**NOME**

**LEGÍVEL:** \_\_\_\_\_

**CPF:** \_\_\_\_\_

**N° inscrição:** \_\_\_\_\_

**Cargo:** \_\_\_\_\_

- Assinale apenas uma alternativa com caneta esferográfica preta





# PREFEITURA MUNICIPAL DE JEQUITIBÁ

## ESTADO DE MINAS GERAIS

### ENSINO MÉDIO COMPLETO – PORTUGUÊS

#### TEXTO I

#### **São Demasiado Pobres os Nossos Ricos**

A maior desgraça de uma nação pobre é que, em vez de produzir riqueza, produz ricos. Mas ricos sem riqueza. Na realidade, melhor seria chamá-los não de ricos, mas de endinheirados. Rico é quem possui meios de produção. Rico é quem gera dinheiro e dá emprego. Endinheirado é quem simplesmente tem dinheiro. Ou que pensa que tem. Porque, na realidade, o dinheiro é que o tem a ele.

A verdade é esta: são demasiado pobres os nossos «ricos». Aquilo que têm, não detêm. Pior: aquilo que exibem como seu, é propriedade de outros. É produto de roubo e de negociatas. Não podem, porém, estes nossos endinheirados usufruir em tranquilidade de tudo quanto roubaram. Vivem na obsessão de poderem ser roubados. Necessitavam de forças policiais à altura. Mas forças policiais à altura acabariam por lançá-los a eles próprios na cadeia. Necessitavam de uma ordem social em que houvesse poucas razões para a criminalidade. Mas se eles enriqueceram foi graças a essa mesma desordem.

O maior sonho dos nossos novos-ricos é, afinal, muito pequenito: um carro de luxo, umas efêmeras cintilâncias. Mas a luxuosa viatura não pode sonhar muito, sacudida pelos buracos das avenidas. O Mercedes e o BMW não podem fazer inteiro uso dos seus brilhos, ocupados que estão em se esquivar entre chapas, muito convexos e estradas muito côncavas. A existência de estradas boas dependeria de outro tipo de riqueza. Uma riqueza que servisse a cidade. E a riqueza dos nossos novos-ricos nasceu de um movimento contrário: do empobrecimento da cidade e da sociedade.

As casas de luxo dos nossos falsos ricos são menos para serem habitadas do que para serem vistas. Fizeram-se para os olhos de quem passa. Mas ao exibirem-se, assim, cheias de folhos e chibantices, acabam atraindo alheias cobiças. Por mais guardas que tenham à porta, os nossos pobres-ricos não afastam o receio das invejas e dos feitiços que essas invejas convocam. O fausto das residências não os torna imunes. Pobres dos nossos riquinhos!

São como a cerveja tirada à pressão. São feitos num instante, mas a maior parte é só espuma. O que resta de verdadeiro é mais o copo que o conteúdo. Podiam criar gado ou vegetais. Mas não. Em vez disso, os nossos endinheirados feitos sob pressão criam amantes. Mas as amantes (e/ou os amantes) têm um grave inconveniente: necessitam de ser sustentadas com dispendiosos mimos. O maior inconveniente é ainda a ausência de garantia do produto. A amante de um pode ser, amanhã, amante de outro. O coração do criador de amantes não tem sossego: quem traiu sabe que pode ser traído.

Mia Couto, in 'Pensatempos'



# PREFEITURA MUNICIPAL DE JEQUITIBÁ

ESTADO DE MINAS GERAIS

<http://www.citador.pt/textos/sao-demasiado-pobres-os-nossosricos-mia-couto..>

**01. De acordo com Mia Couto, os desejos de consumo dos endinheirados são vazios e acabam frustrados porque:**

- A) São desejos passageiros que logo perdem o sentido de ser.
- B) Não são frutos de um planejamento e de decisões cautelosas e prudentes.
- C) Vão de encontro à realidade desigual e à falta de estrutura do país.
- D) Apesar de ricos não sabem aplicar o dinheiro e logo perdem o poder aquisitivo.

**02. Por que, na opinião do autor Mia Couto, “são demasiado pobres os nossos «ricos»?**

- A) Porque não sabem utilizar o dinheiro que ganham com inteligência.
- B) Porque não almejam a riqueza do país, mas apenas a aquisição, a qualquer custo, de dinheiro fácil.
- C) Porque não aceitam que pessoas pobres tenham a oportunidade de também vencerem na vida.
- D) Porque investem muito em segurança e acabam ficando enclausurados em suas residências.

**03. Os verbos “vivem” e “torna” presentes nos períodos abaixo são classificados, de acordo com a regência verbal que exercem nessas orações, como sendo:**

- I. “Vivem na obsessão de poderem ser roubados”.
  - II. “O fausto das residências não os torna imunes”.
- A) I. Intransitivo; II. Transitivo direto.
  - B) I. Transitivo indireto; II. Transitivo direto.
  - C) I. Intransitivo; II. Transitivo direto e indireto.
  - D) I. Transitivo indireto; II. Transitivo direto e indireto.



## PREFEITURA MUNICIPAL DE JEQUITIBÁ

ESTADO DE MINAS GERAIS

**04. Em “São demasiado pobres os nossos ricos”, o termo destacado pode ser classificado gramaticalmente como sendo:**

- A) Um substantivo.
- B) Um adjetivo.
- C) Um advérbio.
- D) Uma conjunção.

**05. Assinale a alternativa que preenche corretamente as lacunas abaixo:**

Ao analisar a coesão entre as orações “O coração do criador de amantes não tem sossego: quem traiu sabe que pode ser traído”, pode-se perceber que, no lugar dos dois pontos, poderia ter sido usada a conjunção..... Para manter a ideia de.....

- A) por isso – conclusão.
- B) pois – conclusão.
- C) mas – contradição.
- D) pois – explicação.

**06. Ao observar a concordância dos verbos destacados em “Fizeram-se para os olhos de quem passa. Mas ao exibirem-se, assim, cheias de folhos e chibantices, acabam atraindo alheias cobiças”, pode-se afirmar que:**

- I. “Fizeram” está no plural concordando com “olhos”.
- II. Ambos estão concordando com “casas de luxo”.
- III. “Exibirem” está no plural concordando com “folhos e chibantices”.
- IV. Cada um está realizando a concordância com o seu respectivo sujeito.
- V. Os dois estão concordando com um sujeito mencionado na oração anterior.
- VI. Os dois verbos poderiam estar na 3ª pessoa do singular concordando com o sujeito mais próximo.



## PREFEITURA MUNICIPAL DE JEQUITIBÁ

ESTADO DE MINAS GERAIS

**Assinale a alternativa correta:**

- A) Apenas I, III e VI estão corretos.
- B) Apenas II e V estão corretos.
- C) Apenas II, V e VI estão corretos.
- D) Apenas I, III e IV estão corretos.

**7. Mia Couto, em sua frase “O fausto das residências não os torna imunes”, usou a palavra fausto” para simbolizar:**

- A) Luxo.
- B) Segurança.
- C) Bom gosto.
- D) Discrição.

**08. “São demasiado pobres<sup>1</sup> os nossos ricos<sup>2</sup>”. Ao analisar a função gramatical dos termos grifados nesse período, percebe-se que “pobres” e “ricos” estão desempenhando função de:**

- A) 1. Substantivo e 2. Substantivo.
- B) 1. Adjetivo e 2. Substantivo.
- C) 1. Substantivo e 2. Adjetivo.
- D) 1. Adjetivo e 2. Adjetivo.

**09. Em “São como a cerveja tirada à pressão”, ocorreu a crase por se tratar de uma locução adverbial feminina de modo.**

Assim como essa, outras locuções adverbiais femininas também recebem crase. Assinale a alternativa em que a crase ocorreu por se tratar de uma locução adverbial feminina.

- A) Por mais guardas que tenham à porta, os nossos pobres-ricos não afastam...
- B) Os endinheirados dedicam-se apenas à gastar sem medida.
- C) É uma riqueza que faz referência à ausência de sentimentos humanitários.
- D) A população mais carente assiste atônita à derrocada de seus direitos.



# PREFEITURA MUNICIPAL DE JEQUITIBÁ

ESTADO DE MINAS GERAIS

**10. “Aquilo que têm, não detêm”. Os verbos “têm” e “detêm” recebem acento circunflexo porquê?**

- A) São palavras oxítonas terminam em “EM”.
- B) São palavras paroxítonas terminadas em “EM”.
- C) Estão no singular e precisam ser diferenciadas da forma verbal no plural.
- D) Estão no plural e precisam ser diferenciados da forma verbal no singular.

## **TEXTO II**

### **Fábula: O leão apaixonado**

Certa vez um leão se apaixonou pela filha de um lenhador e foi pedir a mão dela em casamento. O lenhador não ficou muito animado com a ideia de ver a filha com um marido perigoso daqueles e disse ao leão que era muita honra, mas muito obrigado, não queria. O leão se irritou; sentindo o perigo, o homem foi esperto e fingiu que concordava:

- É uma honra, meu senhor. Mas que dentes o senhor tem! Que garras compridas! Qualquer moça ia ficar com medo. Se o senhor quer casar com minha filha, vai ter que arrancar os dentes e cortar as garras.

O leão apaixonado foi correndo fazer o que o outro tinha mandado; depois voltou à casa do pai da moça e repetiu seu pedido de casamento. Mas o lenhador, que já não sentia medo daquele leão manso e desarmado, pegou um pau e tocou o leão para fora de sua casa.

Moral: Quem perde a cabeça por amor sempre acaba mal.

### **11. A fábula de Esopo:**

- A) Não trata de nenhum tema específico.
- B) Pretende mostrar a estratificação social.
- C) Se utiliza de animais para denunciar o preconceito.
- D) Trata uma história de amor impossível.



## PREFEITURA MUNICIPAL DE JEQUITIBÁ

ESTADO DE MINAS GERAIS

**12. A fábula começa apresentando o leão e logo nos vêm à mente todas as características tradicionalmente atribuídas ao animal. Ao final da narrativa, porém, percebemos que o leão foi:**

- A) Submisso
- B) Corajoso
- C) Cruel
- D) Justo

**13. Aponte a alternativa que contém uma característica pertinente ao texto:**

- A) O tempo e o espaço em que os fatos se dão estão bem definidos.
- B) É uma narrativa curta, por isso não apresenta os elementos básicos da narrativa.
- C) Título insignificante para a trama.
- D) Encerra em si uma linguagem simples, pois dirige-se ao povo.

**14. Considere as três afirmações abaixo acerca do texto lido:**

- I. Apesar de tratar-se de uma narrativa é possível que consideremos algumas passagens argumentativas.
- II. Apresenta uma situação problemática, ou seja, existe um conflito.
- III. É narrado em 3ª pessoa.

**Diante da análise acima, podemos afirmar que:**

- A) I e II estão corretas.
- B) Apenas III está correta.
- C) I, II e III estão corretas.
- D) Apenas I está correta.



## PREFEITURA MUNICIPAL DE JEQUITIBÁ

ESTADO DE MINAS GERAIS

**15. O texto está repleto de adjetivos. Qual o papel fundamental deles na fábula?**

- A) Caracterizar os personagens e a partir disso permear as ações sendo determinantes para o conflito e o desfecho da narrativa.
- B) Construir o próprio sentido do texto, sem adjetivos para sustentar a fábula, ela não se realiza como gênero textual.
- C) Nenhum, pois os adjetivos formam uma classe gramatical meramente alegórica.
- D) Mostrar a constância nas atitudes e pensamentos das personagens, fluindo para um desfecho claro e previsível.



**PREFEITURA MUNICIPAL DE JEQUITIBÁ**  
ESTADO DE MINAS GERAIS

**ENSINO MÉDIO COMPLETO – MATEMÁTICA**

16. O sistema ordenado  $(x, y)$  de equações  $\begin{cases} 3x + 4y = 72 \\ 5x + 2y = 64 \end{cases}$  tem como solução o par

Sendo assim,  $8x - 5y$  é igual a:

- A) 8
- B) 12
- C) 4
- D) 20

17. Uma bola de tênis custa o triplo do preço de uma bola de golf. Essa bola de golf custa o dobro do preço da bola de baseball. Carlos comprou uma bola de cada e pagou pelas três R\$180,00. O preço da bola de tênis é:

- A) R\$60,00
- B) R\$90,00
- C) R\$20,00
- D) R\$120,00

18. Qual é a raiz cúbica de 5832?

- a) 12
- b) 17
- c) 19
- d) 18

19. O gráfico da função  $f(x) = 18 - 35x$  é uma:

- A) Parábola com concavidade para cima
- B) Uma reta crescente
- C) Parábola com concavidade para baixo
- D) Uma reta decrescente

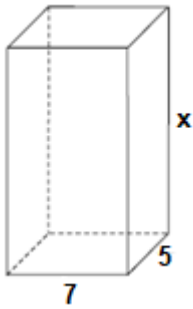
20. Um tanque de água, com capacidade máxima para  $455 \text{ m}^3$ , tem a forma de um prisma reto de base retangular, cujas medidas internas, em metros, estão indicadas na figura.





# PREFEITURA MUNICIPAL DE JEQUITIBÁ

ESTADO DE MINAS GERAIS



a altura desse reservatório, indicada na figura pela letra x, é igual a

- A) 10 m.
- B) 12 m.
- C) 13 m.
- D) 15 m.

**21. Quantos anagramas é possível fazer com a palavra JEQUITIBA**

A) 9!

B)  $\frac{9!}{2!}$

C)  $\frac{2!}{9!}$

D) Nenhuma das alternativas

**22. Um médico realiza, em cinco dias úteis de uma determinada semana, respectivamente, 15, 20, 25, 27 e 28 atendimentos diários. A média diária de atendimentos é de:**

- A) 23.
- B) 25.
- C) 27.
- D) 28.

**23. Uma moto com velocidade constante de 90 km/h faz determinado percurso em 80 minutos. Qual foi a velocidade da moto sabendo que em outro momento ela fez esse mesmo percurso em 1h 40minutos?**

- (A) 112,5km/h.
- (B) 72km/h.
- (C) 82km/h.
- (D) 80km/h.



**PREFEITURA MUNICIPAL DE JEQUITIBÁ**  
ESTADO DE MINAS GERAIS

**24. Foi aplicado à taxa de juros simples de 30% a.m. um capital de R\$160.000,00 durante o período de 5 meses. Quanto foi o juro obtido nessa aplicação?**

- A) R\$48.000,00.
- B) R\$400.000,00
- C) R\$240.000,00
- D) Nenhuma das alternativas

**25. A sequência numérica (15, 30, 60, 120, 240, 480) é uma Progressão:**

- A) Aritmética de razão 2.
- B) Aritmética de razão 4.
- C) Aritmética de razão 6.
- D) Geométrica de razão 2.

**26. A soma dos ângulos internos de um triângulo é:**

- A) 90°
- B) 360°
- C) 180°
- D) 270°

**27. Quais os valores de x na equação  $x^2 + 7x + 10 = 0$**

- A) 2 e 5
- B) 7 e 10.
- C) -2 e -5.
- D) 2 e 5

**28. Certo produto que custava R\$380,00 teve um aumento de 25%. Com esse aumento o produto passou a custar:**

- A) R\$405,00
- B) R\$457,00
- C) R\$475,00
- D) nenhuma das alternativas

**29. André toma 3 tipos de remédios, toma um de 4 em 4 horas, toma outro de 6 em 6 horas e por fim toma o último de 8 em 8 horas. Às 7 horas da manhã de uma quarta-feira ele tomou os 3 remédios ao mesmo tempo. Quando André irá tomar os remédios juntos novamente?**

- A) Às 7 horas da manhã de uma quinta-feira
- B) Às 7 horas da manhã de um sexta-feira
- C) Às 19h de uma quinta-feira
- d) Às 19h de uma sexta-feira



# PREFEITURA MUNICIPAL DE JEQUITIBÁ

ESTADO DE MINAS GERAIS

**30. Qual é o perímetro de um triângulo retângulo sabendo que seu cateto adjacente mede 16 cm e seu cosseno é igual a 0,8.**

- A) 36.
- B) 48.
- C) 60.
- D) 72.



# PREFEITURA MUNICIPAL DE JEQUITIBÁ

ESTADO DE MINAS GERAIS

## CONHECIMENTOS ESPECÍFICOS – FISIOTERAPEUTA (NASF)

**31. O Sistema Único de Saúde (SUS) é um sistema hierarquizado que integra o conjunto de ações e serviços de saúde prestados por órgãos e instituições públicas federais, estaduais e municipais, da administração direta e indireta e das fundações mantidas pelo poder público. De acordo com os princípios do SUS, assinale a alternativa que indique corretamente os seus princípios:**

- a) Equidade, ofensividade, integralidade, individualidade e regionalização.
- b) Universalidade, coletividade, descentralização, equidade e ofensividade.
- c) Universalidade, equidade, descentralização, regionalização e integralidade.
- d) Descentralização, integralidade, individualidade, equidade e universalidade.

**32. Em relação aos objetivos do SUS conforme a lei 8080/90 em seu artigo 5º, leia as afirmativas abaixo:**

- I- Identificação e divulgação de fatores condicionantes e determinantes da saúde.
- II- Formulação de política de saúde destinada a promover, nos campos econômico e social, o acesso individual e igualitário.
- III- Assistência às pessoas por intermédio de ações de promoção, proteção e recuperação da saúde, com a realização das ações assistenciais e preventivas.

Estão corretas:

- a) Afirmativas I e II.
- b) Afirmativas I e III.
- c) Afirmativa III.
- d) Afirmativas II e III.

**33. De acordo com o capítulo 5 do código de ética, que diz respeito às responsabilidades no exercício da fisioterapia, assinale a INCORRETA:**

- a) Deve atuar em consonância à política nacional de saúde, promovendo os preceitos da saúde coletiva no desempenho das suas funções, cargos e cidadania, independentemente de exercer a profissão no setor público ou privado.
- b) Concorrer, de qualquer modo para que outrem exerça ilegalmente atividade própria do fisioterapeuta.
- c) Trabalhar ou ser colaborador de entidade na qual sejam desrespeitados os princípios éticos, bioéticos e a autonomia profissional, bem como condições de adequada assistência ao cliente/paciente/usuário.



## PREFEITURA MUNICIPAL DE JEQUITIBÁ

ESTADO DE MINAS GERAIS

- d) Empenha-se na melhoria das condições da assistência fisioterapêutica e nos padrões de qualidade dos serviços de Fisioterapia, no que concerne às políticas públicas, à educação sanitária e às respectivas legislações.

### **34. De acordo com o código de ética e deontologia é dever do fisioterapeuta:**

- a) Autorizar a utilização ou não coibi-la, mesmo a título gratuito, de seu nome ou de sociedade que seja sócio, para atos que impliquem na mercantilização da saúde e da Fisioterapia em detrimento da responsabilidade social e sócio-ambiental.
- b) Exercer sua atividade com zelo, probidade e decoro e obedecer aos preceitos da ética profissional, da moral, do civismo e das leis em vigor, preservando a honra, o prestígio e as tradições de sua profissão.
- c) Prescrever tratamento fisioterapêutico sem realização de consulta, exceto em caso de indubitável urgência.
- d) Não manter segredo sobre fato sigiloso de que tenha conhecimento em razão de sua atividade profissional e exigir o mesmo comportamento do pessoal sob sua direção, salvo situações previstas em lei.

### **35. É uma doença degenerativa articular que acomete a cartilagem articular e, posteriormente, o osso subcondral, de forma progressiva e irreversível, que leva à incapacidade funcional progressiva. Assinale a alternativa que corresponde a patologia:**

- a) Osteoporose.
- b) Impacto femoroacetabular.
- c) Osteoartrose.
- d) Necrose avascular da cabeça do fêmur.

### **36. A ventilação mecânica ou suporte ventilatório, consiste em um método de suporte para o tratamento de pacientes com insuficiência respiratória aguda ou crônica agudizada. De acordo com os objetivos da VM assinale a alternativa INCORRETA:**

- a) Correção da hipoxemia.
- b) Aumentar o trabalho da musculatura respiratória.
- c) Evitar fadiga da musculatura respiratória.
- d) Diminuir o consumo de oxigênio.



## PREFEITURA MUNICIPAL DE JEQUITIBÁ

ESTADO DE MINAS GERAIS

**37. Uma fratura é a perda da continuidade óssea, que divide em dois ou mais fragmentos, acompanhada de vários graus de lesões dos tecidos moles adjacentes. Fazem parte dos objetivos do tratamento conservador de fraturas:**

- a) Redução de edema, analgesia e fortalecimento.
- b) Ganho de amplitude de movimento, coordenação motora e fixação.
- c) Redução de edema, fortalecimento muscular e alinhamento dos segmentos ósseos.
- d) Reeducação da marcha, fixação e analgesia.

**38. Paciente em decúbito dorsal, coloca-se o calcanhar do membro inferior em questão sobre o joelho do lado oposto; o examinador aplica então uma força sobre o joelho fletido e outra sobre a espinha ilíaca anterô-superior oposta, como se estivesse abrindo um livro. Se a dor for referida na região posterior, pode haver patologia na articulação sacroilíaca.**

O texto acima se refere ao teste de:

- a) Thomas.
- b) Lachman.
- c) Ober.
- d) Fabere.

**39. Taquipnéia, uso da musculatura acessória, cianose e alteração da consciência. De acordo com os sinais e sintomas descritos, assinale a alternativa correta que indique a patologia:**

- a) Insuficiência Respiratória.
- b) Síndrome da Angústia Respiratória Aguda.
- c) Asma.
- d) Enfisema.

**40. Ao percorrer a superfície plantar do pé, desde o calcâneo ao longo da borda lateral do pé até a porção anterior do pé, com um instrumento de ponta afilada, realizamos o teste do sinal de Babinsk. Na reação positiva, o hálux se estenderá, enquanto os outros dedos se afastam uns dos outros e fletem em direção plantar. A presença do sinal de Babinsk positivo indica:**



# PREFEITURA MUNICIPAL DE JEQUITIBÁ

ESTADO DE MINAS GERAIS

- a) Compressão da raiz posterior da medula.
- b) Neuropatia periférica.
- c) Lesão do neurônio motor superior.
- d) Lesão do neurônio motor inferior.



**PREFEITURA MUNICIPAL DE JEQUITIBÁ**  
ESTADO DE MINAS GERAIS

**PROCESSO SELETIVO SIMPLIFICADO 01/2021**  
**JEQUITIBÁ – MG**

**PROVA OBJETIVA**

**MÉDICO - ESF**

**NOME**

**LEGÍVEL:** \_\_\_\_\_

**CPF:** \_\_\_\_\_

**Nº inscrição:** \_\_\_\_\_

**Cargo:** \_\_\_\_\_

- Assinale apenas uma alternativa com caneta esferográfica preta





# PREFEITURA MUNICIPAL DE JEQUITIBÁ

ESTADO DE MINAS GERAIS

## ENSINO MÉDIO COMPLETO – PORTUGUÊS

### TEXTO I

#### **São Demasiado Pobres os Nossos Ricos**

A maior desgraça de uma nação pobre é que, em vez de produzir riqueza, produz ricos. Mas ricos sem riqueza. Na realidade, melhor seria chamá-los não de ricos, mas de endinheirados. Rico é quem possui meios de produção. Rico é quem gera dinheiro e dá emprego. Endinheirado é quem simplesmente tem dinheiro. Ou que pensa que tem. Porque, na realidade, o dinheiro é que o tem a ele.

A verdade é esta: são demasiado pobres os nossos «ricos». Aquilo que têm, não detêm. Pior: aquilo que exibem como seu, é propriedade de outros. É produto de roubo e de negociatas. Não podem, porém, estes nossos endinheirados usufruir em tranquilidade de tudo quanto roubaram. Vivem na obsessão de poderem ser roubados. Necessitavam de forças policiais à altura. Mas forças policiais à altura acabariam por lançá-los a eles próprios na cadeia. Necessitavam de uma ordem social em que houvesse poucas razões para a criminalidade. Mas se eles enriqueceram foi graças a essa mesma desordem.

O maior sonho dos nossos novos-ricos é, afinal, muito pequenito: um carro de luxo, umas efêmeras cintilâncias. Mas a luxuosa viatura não pode sonhar muito, sacudida pelos buracos das avenidas. O Mercedes e o BMW não podem fazer inteiro uso dos seus brilhos, ocupados que estão em se esquivar entre chapas, muito convexos e estradas muito côncavas. A existência de estradas boas dependeria de outro tipo de riqueza. Uma riqueza que servisse a cidade. E a riqueza dos nossos novos-ricos nasceu de um movimento contrário: do empobrecimento da cidade e da sociedade.

As casas de luxo dos nossos falsos ricos são menos para serem habitadas do que para serem vistas. Fizeram-se para os olhos de quem passa. Mas ao exibirem-se, assim, cheias de folhos e chibantices, acabam atraindo alheias cobiças. Por mais guardas que tenham à porta, os nossos pobres-ricos não afastam o receio das invejas e dos feitiços que essas invejas convocam. O fausto das residências não os torna imunes. Pobres dos nossos riquinhos!

São como a cerveja tirada à pressão. São feitos num instante, mas a maior parte é só espuma. O que resta de verdadeiro é mais o copo que o conteúdo. Podiam criar gado ou vegetais. Mas não. Em vez disso, os nossos endinheirados feitos sob pressão criam amantes. Mas as amantes (e/ou os amantes) têm um grave inconveniente: necessitam de ser sustentadas com dispendiosos mimos. O maior inconveniente é ainda a ausência de garantia do produto. A amante de um pode ser, amanhã, amante de outro. O coração do criador de amantes não tem sossego: quem traiu sabe que pode ser traído.

Mia Couto, in 'Pensatempos'

<http://www.citador.pt/textos/sao-demasiado-pobres-os-nossosricos-mia-couto..>



# PREFEITURA MUNICIPAL DE JEQUITIBÁ

ESTADO DE MINAS GERAIS

**01. De acordo com Mia Couto, os desejos de consumo dos endinheirados são vazios e acabam frustrados porque:**

- A) São desejos passageiros que logo perdem o sentido de ser.
- B) Não são frutos de um planejamento e de decisões cautelosas e prudentes.
- C) Vão de encontro à realidade desigual e à falta de estrutura do país.
- D) Apesar de ricos não sabem aplicar o dinheiro e logo perdem o poder aquisitivo.

**02. Por que, na opinião do autor Mia Couto, “são demasiado pobres os nossos «ricos»?**

- A) Porque não sabem utilizar o dinheiro que ganham com inteligência.
- B) Porque não almejam a riqueza do país, mas apenas a aquisição, a qualquer custo, de dinheiro fácil.
- C) Porque não aceitam que pessoas pobres tenham a oportunidade de também vencerem na vida.
- D) Porque investem muito em segurança e acabam ficando enclausurados em suas residências.

**03. Os verbos “vivem” e “torna” presentes nos períodos abaixo são classificados, de acordo com a regência verbal que exercem nessas orações, como sendo:**

- I. “Vivem na obsessão de poderem ser roubados”.
  - II. “O fausto das residências não os torna imunes”.
- A) I. Intransitivo; II. Transitivo direto.
  - B) I. Transitivo indireto; II. Transitivo direto.
  - C) I. Intransitivo; II. Transitivo direto e indireto.
  - D) I. Transitivo indireto; II. Transitivo direto e indireto.



## PREFEITURA MUNICIPAL DE JEQUITIBÁ

ESTADO DE MINAS GERAIS

**04. Em “São demasiado pobres os nossos ricos”, o termo destacado pode ser classificado gramaticalmente como sendo:**

- A) Um substantivo.
- B) Um adjetivo.
- C) Um advérbio.
- D) Uma conjunção.

**05. Assinale a alternativa que preenche corretamente as lacunas abaixo:**

Ao analisar a coesão entre as orações “O coração do criador de amantes não tem sossego: quem traiu sabe que pode ser traído”, pode-se perceber que, no lugar dos dois pontos, poderia ter sido usada a conjunção..... Para manter a ideia de.....

- A) por isso – conclusão.
- B) pois – conclusão.
- C) mas – contradição.
- D) pois – explicação.

**06. Ao observar a concordância dos verbos destacados em “Fizeram-se para os olhos de quem passa. Mas ao exibirem-se, assim, cheias de folhos e chibantices, acabam atraindo alheias cobiças”, pode-se afirmar que:**

- I. “Fizeram” está no plural concordando com “olhos”.
- II. Ambos estão concordando com “casas de luxo”.
- III. “Exibirem” está no plural concordando com “folhos e chibantices”.
- IV. Cada um está realizando a concordância com o seu respectivo sujeito.
- V. Os dois estão concordando com um sujeito mencionado na oração anterior.
- VI. Os dois verbos poderiam estar na 3ª pessoa do singular concordando com o sujeito mais próximo.



# PREFEITURA MUNICIPAL DE JEQUITIBÁ

ESTADO DE MINAS GERAIS

**Assinale a alternativa correta:**

- A) Apenas I, III e VI estão corretos.
- B) Apenas II e V estão corretos.
- C) Apenas II, V e VI estão corretos.
- D) Apenas I, III e IV estão corretos.

**7. Mia Couto, em sua frase “O fausto das residências não os torna imunes”, usou a palavra fausto” para simbolizar:**

- A) Luxo.
- B) Segurança.
- C) Bom gosto.
- D) Discrição.

**08. “São demasiado pobres<sup>1</sup> os nossos ricos<sup>2</sup>”. Ao analisar a função gramatical dos termos grifados nesse período, percebe-se que “pobres” e “ricos” estão desempenhando função de:**

- A) 1. Substantivo e 2. Substantivo.
- B) 1. Adjetivo e 2. Substantivo.
- C) 1. Substantivo e 2. Adjetivo.
- D) 1. Adjetivo e 2. Adjetivo.

**09. Em “São como a cerveja tirada à pressão”, ocorreu a crase por se tratar de uma locução adverbial feminina de modo.**

Assim como essa, outras locuções adverbiais femininas também recebem crase. Assinale a alternativa em que a crase ocorreu por se tratar de uma locução adverbial feminina.

- A) Por mais guardas que tenham à porta, os nossos pobres-ricos não afastam...
- B) Os endinheirados dedicam-se apenas à gastar sem medida.
- C) É uma riqueza que faz referência à ausência de sentimentos humanitários.
- D) A população mais carente assiste atônita à derrocada de seus direitos.



# PREFEITURA MUNICIPAL DE JEQUITIBÁ

ESTADO DE MINAS GERAIS

**10. “Aquilo que têm, não detêm”. Os verbos “têm” e “detêm” recebem acento circunflexo porquê?**

- A) São palavras oxítonas terminam em “EM”.
- B) São palavras paroxítonas terminadas em “EM”.
- C) Estão no singular e precisam ser diferenciadas da forma verbal no plural.
- D) Estão no plural e precisam ser diferenciados da forma verbal no singular.

## **TEXTO II**

### **Fábula: O leão apaixonado**

Certa vez um leão se apaixonou pela filha de um lenhador e foi pedir a mão dela em casamento. O lenhador não ficou muito animado com a ideia de ver a filha com um marido perigoso daqueles e disse ao leão que era muita honra, mas muito obrigado, não queria. O leão se irritou; sentindo o perigo, o homem foi esperto e fingiu que concordava:

- É uma honra, meu senhor. Mas que dentes o senhor tem! Que garras compridas! Qualquer moça ia ficar com medo. Se o senhor quer casar com minha filha, vai ter que arrancar os dentes e cortar as garras.

O leão apaixonado foi correndo fazer o que o outro tinha mandado; depois voltou à casa do pai da moça e repetiu seu pedido de casamento. Mas o lenhador, que já não sentia medo daquele leão manso e desarmado, pegou um pau e tocou o leão para fora de sua casa.

Moral: Quem perde a cabeça por amor sempre acaba mal.

### **11. A fábula de Esopo:**

- A) Não trata de nenhum tema específico.
- B) Pretende mostrar a estratificação social.
- C) Se utiliza de animais para denunciar o preconceito.
- D) Trata uma história de amor impossível.



## PREFEITURA MUNICIPAL DE JEQUITIBÁ

ESTADO DE MINAS GERAIS

**12. A fábula começa apresentando o leão e logo nos vêm à mente todas as características tradicionalmente atribuídas ao animal. Ao final da narrativa, porém, percebemos que o leão foi:**

- A) Submisso
- B) Corajoso
- C) Cruel
- D) Justo

**13. Aponte a alternativa que contém uma característica pertinente ao texto:**

- A) O tempo e o espaço em que os fatos se dão estão bem definidos.
- B) É uma narrativa curta, por isso não apresenta os elementos básicos da narrativa.
- C) Título insignificante para a trama.
- D) Encerra em si uma linguagem simples, pois dirige-se ao povo.

**14. Considere as três afirmações abaixo acerca do texto lido:**

- I. Apesar de tratar-se de uma narrativa é possível que consideremos algumas passagens argumentativas.
- II. Apresenta uma situação problemática, ou seja, existe um conflito.
- III. É narrado em 3ª pessoa.

**Diante da análise acima, podemos afirmar que:**

- A) I e II estão corretas.
- B) Apenas III está correta.
- C) I, II e III estão corretas.
- D) Apenas I está correta.



## PREFEITURA MUNICIPAL DE JEQUITIBÁ

ESTADO DE MINAS GERAIS

**15. O texto está repleto de adjetivos. Qual o papel fundamental deles na fábula?**

- A) Caracterizar os personagens e a partir disso permear as ações sendo determinantes para o conflito e o desfecho da narrativa.
- B) Construir o próprio sentido do texto, sem adjetivos para sustentar a fábula, ela não se realiza como gênero textual.
- C) Nenhum, pois os adjetivos formam uma classe gramatical meramente alegórica.
- D) Mostrar a constância nas atitudes e pensamentos das personagens, fluindo para um desfecho claro e previsível.



**PREFEITURA MUNICIPAL DE JEQUITIBÁ**  
ESTADO DE MINAS GERAIS

**ENSINO MÉDIO COMPLETO – MATEMÁTICA**

16. O sistema ordenado  $(x, y)$   $\begin{cases} 3x + 4y = 72 \\ 5x + 2y = 64 \end{cases}$  de equações tem como solução o par

Sendo assim,  $8x - 5y$  é igual a:

- A) 8
- B) 12
- C) 4
- D) 20

17. Uma bola de tênis custa o triplo do preço de uma bola de golf. Essa bola de golf custa o dobro do preço da bola de baseball. Carlos comprou uma bola de cada e pagou pelas três R\$180,00. O preço da bola de tênis é:

- A) R\$60,00
- B) R\$90,00
- C) R\$20,00
- D) R\$120,00

18. Qual é a raiz cúbica de 5832?

- a) 12
- b) 17
- c) 19
- d) 18

19. O gráfico da função  $f(x) = 18 - 35x$  é uma:

- A) Parábola com concavidade para cima
- B) Uma reta crescente
- C) Parábola com concavidade para baixo
- D) Uma reta decrescente

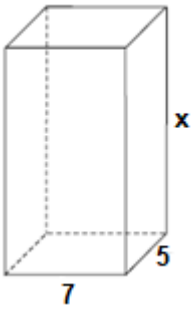
20. Um tanque de água, com capacidade máxima para  $455 \text{ m}^3$ , tem a forma de um prisma reto de base retangular, cujas medidas internas, em metros, estão indicadas na figura.





# PREFEITURA MUNICIPAL DE JEQUITIBÁ

ESTADO DE MINAS GERAIS



a altura desse reservatório, indicada na figura pela letra x, é igual a

- A) 10 m.
- B) 12 m.
- C) 13 m.
- D) 15 m.

**21. Quantos anagramas é possível fazer com a palavra JEQUITIBA**

A) 9!

B)  $\frac{9!}{2!}$

C)  $\frac{2!}{9!}$

D) Nenhuma das alternativas

**22. Um médico realiza, em cinco dias úteis de uma determinada semana, respectivamente, 15, 20, 25, 27 e 28 atendimentos diários. A média diária de atendimentos é de:**

- A) 23.
- B) 25.
- C) 27.
- D) 28.

**23. Uma moto com velocidade constante de 90 km/h faz determinado percurso em 80 minutos. Qual foi a velocidade da moto sabendo que em outro momento ela fez esse mesmo percurso em 1h 40minutos?**

- (A) 112,5km/h.
- (B) 72km/h.
- (C) 82km/h.
- (D) 80km/h.



**PREFEITURA MUNICIPAL DE JEQUITIBÁ**  
ESTADO DE MINAS GERAIS

**24. Foi aplicado à taxa de juros simples de 30% a.m. um capital de R\$160.000,00 durante o período de 5 meses. Quanto foi o juro obtido nessa aplicação?**

- A) R\$48.000,00.
- B) R\$400.000,00
- C) R\$240.000,00
- D) Nenhuma das alternativas

**25. A sequência numérica (15, 30, 60, 120, 240, 480) é uma Progressão:**

- A) Aritmética de razão 2.
- B) Aritmética de razão 4.
- C) Aritmética de razão 6.
- D) Geométrica de razão 2.

**26. A soma dos ângulos internos de um triângulo é:**

- A) 90°
- B) 360°
- C) 180°
- D) 270°

**27. Quais os valores de x na equação  $x^2 + 7x + 10 = 0$**

- A) 2 e 5
- B) 7 e 10.
- C) -2 e -5.
- D) 2 e 5

**28. Certo produto que custava R\$380,00 teve um aumento de 25%. Com esse aumento o produto passou a custar:**

- A) R\$405,00
- B) R\$457,00
- C) R\$475,00
- D) nenhuma das alternativas

**29. André toma 3 tipos de remédios, toma um de 4 em 4 horas, toma outro de 6 em 6 horas e por fim toma o último de 8 em 8 horas. Às 7 horas da manhã de uma quarta-feira ele tomou os 3 remédios ao mesmo tempo. Quando André irá tomar os remédios juntos novamente?**

- A) Às 7 horas da manhã de uma quinta-feira
- B) Às 7 horas da manhã de um sexta-feira
- C) Às 19h de uma quinta-feira
- D) Às 19h de uma sexta-feira



# PREFEITURA MUNICIPAL DE JEQUITIBÁ

ESTADO DE MINAS GERAIS

**30. Qual é o perímetro de um triângulo retângulo sabendo que seu cateto adjacente mede 16 cm e seu cosseno é igual a 0,8.**

- A) 36.
- B) 48.
- C) 60.
- D) 72.



# PREFEITURA MUNICIPAL DE JEQUITIBÁ

ESTADO DE MINAS GERAIS

## CONHECIMENTOS ESPECÍFICOS – MÉDICO ESF

**31. A toxicologia é uma ciência que pressupõe avaliar o risco químico e estudar os efeitos que esses agentes químicos podem gerar no organismo humano através de estudos de elementos básicos.**

É um dos elementos básicos da toxicologia a(o)

A) existência de um meio adequado através do qual os agentes químicos possam interagir.

B) biodisponibilidade do organismo a ser atingido por esse agente químico.

C) efeito resultante de proteção para o sistema biológico.

D) sistema biológico com o qual o agente químico irá interagir para produzir o efeito.

**32. No âmbito da toxicologia, existem conceitos que devem ser conhecidos para estudo do tema. Dentre os conceitos de toxicologia, julgue as afirmativas abaixo.**

I. Intoxicação é um processo patológico causado por substâncias químicas exógenas e caracterizado por equilíbrio fisiológico.

II. Xenofóbico é o termo usado para designar substâncias estranhas ao organismo. Substâncias químicas estranhas quantitativamente ao organismo não são consideradas xenofóbicas do ponto de vista toxicológico.

III. Antídoto é um agente incapaz de antagonizar os efeitos tóxicos de substâncias.

Está/estão incorreta(s) a(s) afirmativa(s):

A) III, apenas

B) I e II, apenas

C) II e III, apenas

D) I e III, apenas



## PREFEITURA MUNICIPAL DE JEQUITIBÁ

ESTADO DE MINAS GERAIS

**33. Os cuidados paliativos têm sido tema de destaque nos últimos anos, sendo pauta de programas televisivos e revistas de alto impacto social. Recentemente, o Ministério da Saúde publicou uma resolução que normatiza a oferta de cuidados paliativos como parte dos cuidados continuados integrados no âmbito do Sistema Único de Saúde (SUS).**

Sobre esse tema, podemos afirmar:

- A) São os cuidados prestados a pacientes em estágio terminal de vida;
- B) São baseados em controle de sintomas físicos, exclusivamente;
- C) São princípios norteadores para a organização dos cuidados paliativos, o início mais precocemente possível, juntamente com o tratamento modificador da doença;
- D) Só podem ser iniciados após autorização dos familiares dos pacientes;

**34. Em relação a atendimento domiciliar, internação domiciliar e acompanhamento á parturiente, avalie se as afirmativas a seguir são falsas (F) ou verdadeiras (V):**

- Na modalidade de assistência de atendimento e internação domiciliares incluem-se, principalmente, os procedimentos médicos, de enfermagem, fisioterapêuticos, psicológicos e de assistência social, entre outros necessários ao cuidado integral dos pacientes em seu domicílio.
- O atendimento e a internação domiciliares serão realizados por equipes multidisciplinares que atuarão nos níveis da medicina preventiva, terapêutica e reabilitadora.
- O atendimento e a internação domiciliares só poderão ser realizados por indicação médica, com expressa concordância do paciente e de sua família.
- Os serviços de saúde do Sistema Único de Saúde - SUS, da rede própria ou conveniada, ficam obrigados a permitir a presença, junto à parturiente, de 1 (um)



## PREFEITURA MUNICIPAL DE JEQUITIBÁ

ESTADO DE MINAS GERAIS

acompanhante, indicado pela parturiente, durante todo o período de trabalho de parto, parto e pós-parto imediato.

As afirmativas são respectivamente:

- A) F, V, F e V.
- B) V, F, V e F.
- C) F, F, F e V.
- D) V, V, V e F.

**35. "O acesso universal, igualitário e ordenado às ações e serviços de saúde se inicia pelas Portas de Entrada do SUS e se completa na rede regionalizada e hierarquizada, de acordo com a complexidade do serviço. "(Art. 8º, Decreto 7506/2011)**

Avalie se são Portas de Entrada às ações e aos serviços de saúde nas Redes de Atenção à Saúde os serviços:

- I - de atenção primária
- II - de atenção de urgência e emergência
- III - de atenção psicossocial
- IV - especiais de acesso restrito

Estão corretos:

- A) I e IV, apenas.
- B) II e III, apenas.
- C) I, II e III, apenas.



**PREFEITURA MUNICIPAL DE JEQUITIBÁ**  
ESTADO DE MINAS GERAIS

**36. Em relação às dermatoses de pacientes com HIV/SIDA, é correto afirmar que:**

- A) em geral há melhora do quadro de psoríase cutânea e articular associado ao estado de imunossupressão.
- B) quando há associação com hanseníase multibacilar, o tratamento deve ser realizado com PQT em 24 doses.
- C) infecção por herpes simples mucocutânea com duração de mais de um mês é doença definidora de AIDS.
- D) o sarcoma de Kaposi deve ser sempre tratado com quimioterapia.

**37. A causa MENOS frequente de desenvolvimento do delírio no pós-operatório é o uso de:**

- A) meperidina.
- B) benzodiazepínico.
- C) anticolinérgico.
- D) anti-histamínico.

**38. Um homem adulto em situação de rua é usuário de crack e possui ferida e queimaduras nos lábios causadas pelo uso do cachimbo de crack. A equipe de saúde ao realizar o atendimento, orienta ao paciente não compartilhar o cachimbo de crack, pois corre o risco de contrair doenças infectocontagiosas. Esta estratégia corresponde, na Atenção Básica, ao Programa:**

- A) Busca Ativa de Rua.
- B) de Redução de Danos.
- C) da Clínica Agrupada.
- D) Caminhos da Terapia.



## PREFEITURA MUNICIPAL DE JEQUITIBÁ

ESTADO DE MINAS GERAIS

**39. De acordo com estimativa recente de um órgão federal, existem 370 mil usuários de crack nas capitais brasileiras. Além disso, a cocaína é uma das drogas ilícitas mais utilizadas no mundo. A respeito do crack e da cocaína, é correto afirmar que**

- A) a cocaína é a droga de maior poder alucinógeno conhecida atualmente.
- B) a mescalina silobina, um dos subprodutos da metabolização da cocaína, pode ser detectada em teste rápido realizado em amostra de sangue.
- C) a cocaína também pode ser denominada como diacetilmorfina.
- D) o efeito do crack é percebido de forma mais lenta que a cocaína, porém é capaz de produzir mais danos.

**40. O Diabetes mellitus (DM) refere-se a um transtorno metabólico de etiologias heterogêneas, caracterizado por hiperglicemia e distúrbios no metabolismo de carboidratos, proteínas e gorduras, resultantes de defeitos da secreção e/ou da ação da insulina (WORLD HEALTHORGANIZATION, 1999). O DM vem aumentando sua importância pela sua crescente prevalência e habitualmente está associado à dislipidemia, à hipertensão arterial e à disfunção endotelial. É um problema de saúde considerado Condição Sensível à Atenção Primária, ou seja, evidências demonstram que o bom manejo deste problema ainda na Atenção Básica evita hospitalizações e mortes por complicações cardiovasculares e cerebrovasculares (ALFRADIQUE, 2009). Ministério da Saúde, Diabetes Mellitus, (Brasil,2013). Sobre o cuidado odontológico e o diabetes mellitus assinale a alternativa incorreta:**

- A) O Diabetes Mellitus pode desempenhar um papel fundamental no aparecimento de líquen plano.
- B) Dentre as complicações na odontologia que o diabetes pode ter influência estão as doenças periodontais, xerostomia, hipossalivação, candidíase oral, glossodínia, distúrbios de gustação, cárie, hipoplasia de esmalte, ambas com maior ou menor probabilidade.
- C) Anti-inflamatórios não esteróides e cefalexina potencializam o efeito de hipoglicemiantes.





# PREFEITURA MUNICIPAL DE JEQUITIBÁ

ESTADO DE MINAS GERAIS

D) Ácido Acetil Salicílico (AAS) podem competir com os hipoglicemiantes orais potencializando o efeito e causando um quadro de Hipoglicemia.



**PREFEITURA MUNICIPAL DE JEQUITIBÁ**  
ESTADO DE MINAS GERAIS

**PROCESSO SELETIVO SIMPLIFICADO 01/2021**  
**JEQUITIBÁ – MG**

**PROVA OBJETIVA**

**MOTORISTA CATEGORIA I e II**

**NOME**

**LEGÍVEL:** \_\_\_\_\_

**CPF:** \_\_\_\_\_

**Nº inscrição:** \_\_\_\_\_

**Cargo:** \_\_\_\_\_

- Assinale apenas uma alternativa com caneta esferográfica preta



# PREFEITURA MUNICIPAL DE JEQUITIBÁ

ESTADO DE MINAS GERAIS

## ENSINO FUNDAMENTAL INCOMPLETO – PORTUGUÊS

**1. Assinale a alternativa cujas palavras sejam formadas por apenas uma sílaba:**

- a) sol, rua, pé.
- b) baú, pá, sim.
- c) não, pé, flor.
- d) mar, quem, baú.

**2. Assinale a única alternativa que não é composta por três sílabas:**

- a) janeiro, beleza, planeta.
- b) pimenta, açougue, salada.
- c) beleza, camada, atração.
- d) subida, ourives, crescer.

**3. Marque a alternativa em que há uma palavra que apresenta grafia INCORRETA.**

- (A) Vaidoso; berinjela.
- (B) Monge; pedágio.
- (C) Talvez; paralizar.
- (D) Sarjeta; garagem.

**4. Assinale a alternativa em que a palavra destacada é adjetivo.**

- a) As goiabas doces eram vendidas pelos feirantes.
- b) Naquele sítio os visitantes comem muitos doces.
- c) Uma velha atendeu-me na porta.
- d) As pessoas acharam o homem estranho.

**5. Que tipo de frase é: - "Como se chama o teu gato?"**

- a) Frase exclamativa.
- b) Frase interrogativa.
- c) Frase imperativa.
- d) Frase imperativa.



## PREFEITURA MUNICIPAL DE JEQUITIBÁ

ESTADO DE MINAS GERAIS

### 6. Assinale a alternativa em que as palavras aparecem na ordem alfabética.

- a) fraca – líquido – água – plantas – morrer – apetite.
- b) apetite – morrer – fraca – água – plantas – líquido.
- c) morrer – água – plantas – fraca – líquido – apetite.
- d) água – apetite – fraca – líquido – morrer – plantas.

Leia o texto abaixo para responder as questões de número 7 a 9.

Folclore é mais do que se imagina. No calendário, o folclore tem data marcada para ser lembrado: dia 22 de agosto.

E na vida das pessoas, quando ele acontece? O folclore diz respeito à vida de cada um de nós, já que pertencemos a grupos sociais que levam adiante costumes, saberes e valores.

Da mais simples receita culinária ao mais complexo ritual de casamento, tudo é compartilhado por um grupo e levado adiante com o passar do tempo e das gerações. Isso acontece somente por uma razão: essas tradições continuam a fazer sentido, inclusive para os mais jovens.

### 7. Após leitura e compreensão do texto, podemos concluir que:

- (A) As tradições folclóricas não fazem mais sentido para os jovens.
- (B) O folclore não deve ser comemorado apenas no dia 22 de agosto.
- (C) O folclore está relacionado aos nossos costumes, saberes e valores.
- (D) Uma receita de comida nem sempre pertence ao folclore.

### 8. Por que o folclore permanece existindo ao longo das gerações?

- (A) Porque o folclore vai desde a mais simples receita culinária ao mais complexo ritual de casamento.
- (B) Porque as tradições permanecem fazendo sentido para as pessoas.
- (C) Porque ele tem data certa para ser lembrado.
- (D) Porque ele diz respeito à vida de cada um de nós.

**09. No trecho: “... tudo é compartilhado por um grupo e levado adiante com o passar do tempo e das gerações.”, a palavra “adiante” pode ser substituída, sem alterar o sentido da oração, por:**



**PREFEITURA MUNICIPAL DE JEQUITIBÁ**  
ESTADO DE MINAS GERAIS

- (A) Para cima.
- (B) Em frente.
- (C) Na medida em que.
- (D) Antes.

**10. Assinale a opção em que o encontro consonantal pertence a sílabas diferentes.**

- (A) Sublocar.
- (B) Sublime.
- (C) Aglutinar.
- (D) Banhar.

**11. Na oração “Chegando a noite, as estrelas brilharão”, a que classe morfológica pertence à palavra em destaque?**

- (A) Substantivo.
- (B) Adjetivo.
- (C) Verbo.
- (D) Conjunção.

**12. Em que alternativa a palavra grifada está escrita corretamente?**

- A) A orla da cidade de Augusto Corrêa é muinto bonita.
- B) Gosto de pexe frito com açai.
- C) O semitério da cidade é antigo.
- D) Depois daquela briga toda, o jeito foi fazer as pazes.

**13. Em que alternativa, o plural da palavra à esquerda está incorreto?**

- A) caminhão – caminhões
- B) armazém – armazéns
- C) luz - luzis
- D) difícil – difíceis



**PREFEITURA MUNICIPAL DE JEQUITIBÁ**  
ESTADO DE MINAS GERAIS

**14. A divisão silábica está corretamente feita em:**

- A) u-ni-ão
- B) fó-s-fo-ro
- C) va-ssou-ra
- D) câ-es

**15. A palavra que deve ser escrita com a consoante M é :**

- A) seme...te
- B) ge...te
- C) te...peratura
- D) ma...ga



**PREFEITURA MUNICIPAL DE JEQUITIBÁ**  
ESTADO DE MINAS GERAIS

**ENSINO FUNDAMENTAL INCOMPLETO – MATEMÁTICA**

**16. O quadrado é uma figura geométrica:**

- A) Que tem dois lados iguais e dois lados diferentes
- B) Que tem os quatros lados iguais
- C) De forma arredondada
- D) Que tem três lados e três ângulos

**17. O resultado da operação  $2 + 5 \times 3 + 12$  é:**

- A) 33
- B) 105
- C) 29
- D) 25

**18. 7 dúzias e meia corresponde a:**

- A) 76 unidades
- b) 84 unidades
- C) 90 unidades
- D) 13 unidades

**19. 3 arrobas é corresponde a:**

- A) 45kg
- B) 4500 gramas
- C) 45 gramas
- D 4,5 kg



**PREFEITURA MUNICIPAL DE JEQUITIBÁ**  
ESTADO DE MINAS GERAIS

**20. Uma pessoa deu três voltas de bicicleta em uma pista oval de 2 quilômetros, no total ela percorreu a distância de:**

- A) 2 metros
- B) 200 metros
- C) 2000 metros
- D) 6000 metros

**21. Um produto que custava R\$ 256,35 passou a custar R\$ 323,45, em comparação ao valor inicial o produto teve um aumento de:**

- A) R\$56,35
- B) R\$67,10
- C) R\$579,80
- D) Nenhuma das alternativas

**22. O resultado da operação  $4343 \div 43$  é:**

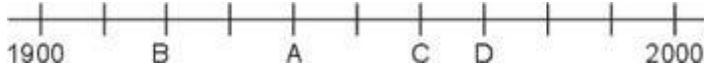
- A) 11
- B) 101
- C) 43
- D) 34





**PREFEITURA MUNICIPAL DE JEQUITIBÁ**  
ESTADO DE MINAS GERAIS

23. Uma professora pediu que uma aluna marcasse numa linha do tempo o ano de 1960.



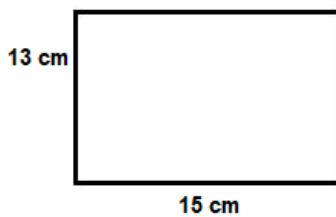
Que ponto a aluna deve marcar para acertar a tarefa pedida?

- A) A
- B) B
- C) C
- D) D

24. O número que representa 35 milésimos é:

- A) 0,35
- B) 0,0035
- C) 0,035
- D) 0,00035

25. Observe a figura abaixo:



A área dessa figura é:

- A)  $65 \text{ cm}^2$
- B)  $195 \text{ cm}^2$
- C)  $56 \text{ cm}^2$
- D)  $28 \text{ cm}^2$



**PREFEITURA MUNICIPAL DE JEQUITIBÁ**  
ESTADO DE MINAS GERAIS

**26. Uma hora tem quantos segundos?**

- A) 60
- B) 600
- C) 3600
- D) 360

**27. 5 metros equivale a:**

- A) 50 cm
- B) 0,5 km
- C) 5000 mm
- D) 500 mm

**28. Comprei uma televisão por R\$1500,00 de entrada mais 15 prestações de R\$75,00. Ao final dos 15 meses, quanto terei pago pela televisão?**

- A) R\$2625,00
- B) R\$2725,00
- C) R\$2825,00
- D) R\$3000,00

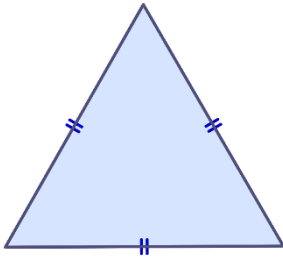
**29. Claudio fez um percurso de uma cidade A até a cidade B em 360 minutos, então podemos afirmar que Claudio fez esse trajeto em:**

- A) 36 horas
- B) 3600 segundos
- C) 6 horas
- D) 3,6 horas



**PREFEITURA MUNICIPAL DE JEQUITIBÁ**  
ESTADO DE MINAS GERAIS

30. O triângulo abaixo é um triângulo:



- A) Isósceles
- B) Retângulo
- C) Escaleno
- D) Equilátero



# PREFEITURA MUNICIPAL DE JEQUITIBÁ

ESTADO DE MINAS GERAIS

## CONHECIMENTOS ESPECÍFICOS – MOTORISTA CATEGORIA I e II

**31. Como deve ser feita a manutenção preventiva de verificar o nível de óleo do motor?**

- (a) Através de um reservatório de plástico
- (b) Com o veículo parado sobre uma superfície inclinada
- (c) Através da vareta de medição de óleo
- (d) Sempre com o motor quente

**32. A energia mecânica produzida pelo motor de um veículo é transmitida às rodas por meio do sistema de:**

- (a) Câmbio
- (b) Marchas
- (c) Embreagem
- (d) Transmissão

**33. Algumas atitudes de motoristas educados são:**

- (a) Fazer uso excessivo de buzina e dos faróis altos
- (b) Cultivar comportamentos de civilidade, tolerância e solidariedade
- (c) Agir sempre visando benefício próprio
- (d) Ser incompreensivo com os erros dos outros

**34. Ser solidário e cortês no trânsito significa:**

- (a) Respeitar somente os condutores de veículos novos
- (b) Buzinar seguidamente para que possa passar
- (c) Respeitar os direitos dos outros usuários das vias e ser tolerante com eventuais ações indevidas
- (d) Parar na faixa de pedestre

**35. O que fazer, se, em acidente de trânsito, houver vítima inconsciente e com cinto de segurança no veículo acidentado?**

- (a) Sinalizar o local e chamar o resgate
- (b) Reanimar a vítima
- (c) Alterar a posição do banco onde está a vítima



**PREFEITURA MUNICIPAL DE JEQUITIBÁ**  
ESTADO DE MINAS GERAIS

(d) Retirar o cinto de segurança

**36. As colisões frontais ocorrem com mais frequência nas vias:**

- (a) De mão única
- (b) De mão dupla
- (c) De trânsito rápido
- (d) Com canteiro central

**37. Alguns dos fatores de acidentes são: insônia, estresse, perda da capacidade auditiva e perda da concentração. Essas são condições adversas de:**

- (a) Veículo
- (b) Condutor
- (c) Trânsito
- (d) Pedestre

**38. De acordo com o ART 181 DO C.T.B, é proibido estacionar o veículo nas esquinas e:**

- (a) A menos de cinco metros do bordo do alinhamento da via transversal
- (b) A menos de três metros do alinhamento de construção
- (c) A menos de quatro metros do alinhamento de construção
- (d) A menos de seis metros do alinhamento de construção

**39. Quantos pontos são computados no prontuário do condutor a cada infração grave?**

- (a) Sete pontos
- (b) Cinco pontos
- (c) Três pontos
- (d) Dois pontos



# PREFEITURA MUNICIPAL DE JEQUITIBÁ

ESTADO DE MINAS GERAIS

**40. A velocidade máxima permitida em vias de trânsito rápido nas quais não exista sinalização regulamentadora é de:**

- (a) 90 km/h
- (b) 80 km/h
- (c) 70 km/h
- (d) 110 km/h



**PREFEITURA MUNICIPAL DE JEQUITIBÁ**  
ESTADO DE MINAS GERAIS

**PROCESSO SELETIVO SIMPLIFICADO 01/2021**  
**JEQUITIBÁ – MG**

**PROVA OBJETIVA**

**NUTRICIONISTA (NASF)**

**NOME**

**LEGÍVEL:** \_\_\_\_\_

**CPF:** \_\_\_\_\_

**N° inscrição:** \_\_\_\_\_

**Cargo:** \_\_\_\_\_

- Assinale apenas uma alternativa com caneta esferográfica preta



# PREFEITURA MUNICIPAL DE JEQUITIBÁ

## ESTADO DE MINAS GERAIS

### ENSINO MÉDIO COMPLETO – PORTUGUÊS

#### TEXTO I

#### **São Demasiado Pobres os Nossos Ricos**

A maior desgraça de uma nação pobre é que, em vez de produzir riqueza, produz ricos. Mas ricos sem riqueza. Na realidade, melhor seria chamá-los não de ricos, mas de endinheirados. Rico é quem possui meios de produção. Rico é quem gera dinheiro e dá emprego. Endinheirado é quem simplesmente tem dinheiro. Ou que pensa que tem. Porque, na realidade, o dinheiro é que o tem a ele.

A verdade é esta: são demasiado pobres os nossos «ricos». Aquilo que têm, não detêm. Pior: aquilo que exibem como seu, é propriedade de outros. É produto de roubo e de negociatas. Não podem, porém, estes nossos endinheirados usufruir em tranquilidade de tudo quanto roubaram. Vivem na obsessão de poderem ser roubados. Necessitavam de forças policiais à altura. Mas forças policiais à altura acabariam por lançá-los a eles próprios na cadeia. Necessitavam de uma ordem social em que houvesse poucas razões para a criminalidade. Mas se eles enriqueceram foi graças a essa mesma desordem.

O maior sonho dos nossos novos-ricos é, afinal, muito pequenito: um carro de luxo, umas efêmeras cintilâncias. Mas a luxuosa viatura não pode sonhar muito, sacudida pelos buracos das avenidas. O Mercedes e o BMW não podem fazer inteiro uso dos seus brilhos, ocupados que estão em se esquivar entre chapas, muito convexos e estradas muito côncavas. A existência de estradas boas dependeria de outro tipo de riqueza. Uma riqueza que servisse a cidade. E a riqueza dos nossos novos-ricos nasceu de um movimento contrário: do empobrecimento da cidade e da sociedade.

As casas de luxo dos nossos falsos ricos são menos para serem habitadas do que para serem vistas. Fizeram-se para os olhos de quem passa. Mas ao exibirem-se, assim, cheias de folhos e chibantices, acabam atraindo alheias cobiças. Por mais guardas que tenham à porta, os nossos pobres-ricos não afastam o receio das invejas e dos feitiços que essas invejas convocam. O fausto das residências não os torna imunes. Pobres dos nossos riquinhos!

São como a cerveja tirada à pressão. São feitos num instante, mas a maior parte é só espuma. O que resta de verdadeiro é mais o copo que o conteúdo. Podiam criar gado ou vegetais. Mas não. Em vez disso, os nossos endinheirados feitos sob pressão criam amantes. Mas as amantes (e/ou os amantes) têm um grave inconveniente: necessitam de ser sustentadas com dispendiosos mimos. O maior inconveniente é ainda a ausência de garantia do produto. A amante de um pode ser, amanhã, amante de outro. O coração do criador de amantes não tem sossego: quem traiu sabe que pode ser traído.

Mia Couto, in 'Pensatempos'





# PREFEITURA MUNICIPAL DE JEQUITIBÁ

ESTADO DE MINAS GERAIS

<http://www.citador.pt/textos/sao-demasiado-pobres-os-nossosricos-mia-couto..>

**01. De acordo com Mia Couto, os desejos de consumo dos endinheirados são vazios e acabam frustrados porque:**

- A) São desejos passageiros que logo perdem o sentido de ser.
- B) Não são frutos de um planejamento e de decisões cautelosas e prudentes.
- C) Vão de encontro à realidade desigual e à falta de estrutura do país.
- D) Apesar de ricos não sabem aplicar o dinheiro e logo perdem o poder aquisitivo.

**02. Por que, na opinião do autor Mia Couto, “são demasiado pobres os nossos «ricos»?**

- A) Porque não sabem utilizar o dinheiro que ganham com inteligência.
- B) Porque não almejam a riqueza do país, mas apenas a aquisição, a qualquer custo, de dinheiro fácil.
- C) Porque não aceitam que pessoas pobres tenham a oportunidade de também vencerem na vida.
- D) Porque investem muito em segurança e acabam ficando enclausurados em suas residências.

**03. Os verbos “vivem” e “torna” presentes nos períodos abaixo são classificados, de acordo com a regência verbal que exercem nessas orações, como sendo:**

- I. “Vivem na obsessão de poderem ser roubados”.
  - II. “O fausto das residências não os torna imunes”.
- A) I. Intransitivo; II. Transitivo direto.
  - B) I. Transitivo indireto; II. Transitivo direto.
  - C) I. Intransitivo; II. Transitivo direto e indireto.
  - D) I. Transitivo indireto; II. Transitivo direto e indireto.



## PREFEITURA MUNICIPAL DE JEQUITIBÁ

ESTADO DE MINAS GERAIS

**04. Em “São demasiado pobres os nossos ricos”, o termo destacado pode ser classificado gramaticalmente como sendo:**

- A) Um substantivo.
- B) Um adjetivo.
- C) Um advérbio.
- D) Uma conjunção.

**05. Assinale a alternativa que preenche corretamente as lacunas abaixo:**

Ao analisar a coesão entre as orações “O coração do criador de amantes não tem sossego: quem traiu sabe que pode ser traído”, pode-se perceber que, no lugar dos dois pontos, poderia ter sido usada a conjunção..... Para manter a ideia de.....

- A) por isso – conclusão.
- B) pois – conclusão.
- C) mas – contradição.
- D) pois – explicação.

**06. Ao observar a concordância dos verbos destacados em “Fizeram-se para os olhos de quem passa. Mas ao exibirem-se, assim, cheias de folhos e chibantices, acabam atraindo alheias cobiças”, pode-se afirmar que:**

- I. “Fizeram” está no plural concordando com “olhos”.
- II. Ambos estão concordando com “casas de luxo”.
- III. “Exibirem” está no plural concordando com “folhos e chibantices”.
- IV. Cada um está realizando a concordância com o seu respectivo sujeito.
- V. Os dois estão concordando com um sujeito mencionado na oração anterior.
- VI. Os dois verbos poderiam estar na 3ª pessoa do singular concordando com o sujeito mais próximo.



# PREFEITURA MUNICIPAL DE JEQUITIBÁ

ESTADO DE MINAS GERAIS

**Assinale a alternativa correta:**

- A) Apenas I, III e VI estão corretos.
- B) Apenas II e V estão corretos.
- C) Apenas II, V e VI estão corretos.
- D) Apenas I, III e IV estão corretos.

**7. Mia Couto, em sua frase “O fausto das residências não os torna imunes”, usou a palavra fausto” para simbolizar:**

- A) Luxo.
- B) Segurança.
- C) Bom gosto.
- D) Discrição.

**08. “São demasiado pobres<sup>1</sup> os nossos ricos<sup>2</sup>”. Ao analisar a função gramatical dos termos grifados nesse período, percebe-se que “pobres” e “ricos” estão desempenhando função de:**

- A) 1. Substantivo e 2. Substantivo.
- B) 1. Adjetivo e 2. Substantivo.
- C) 1. Substantivo e 2. Adjetivo.
- D) 1. Adjetivo e 2. Adjetivo.

**09. Em “São como a cerveja tirada à pressão”, ocorreu a crase por se tratar de uma locução adverbial feminina de modo.**

Assim como essa, outras locuções adverbiais femininas também recebem crase. Assinale a alternativa em que a crase ocorreu por se tratar de uma locução adverbial feminina.

- A) Por mais guardas que tenham à porta, os nossos pobres-ricos não afastam...
- B) Os endinheirados dedicam-se apenas à gastar sem medida.
- C) É uma riqueza que faz referência à ausência de sentimentos humanitários.
- D) A população mais carente assiste atônita à derrocada de seus direitos.



# PREFEITURA MUNICIPAL DE JEQUITIBÁ

ESTADO DE MINAS GERAIS

**10. “Aquilo que têm, não detêm”. Os verbos “têm” e “detêm” recebem acento circunflexo porquê?**

- A) São palavras oxítonas terminam em “EM”.
- B) São palavras paroxítonas terminadas em “EM”.
- C) Estão no singular e precisam ser diferenciadas da forma verbal no plural.
- D) Estão no plural e precisam ser diferenciados da forma verbal no singular.

## **TEXTO II**

### **Fábula: O leão apaixonado**

Certa vez um leão se apaixonou pela filha de um lenhador e foi pedir a mão dela em casamento. O lenhador não ficou muito animado com a ideia de ver a filha com um marido perigoso daqueles e disse ao leão que era muita honra, mas muito obrigado, não queria. O leão se irritou; sentindo o perigo, o homem foi esperto e fingiu que concordava:

- É uma honra, meu senhor. Mas que dentes o senhor tem! Que garras compridas! Qualquer moça ia ficar com medo. Se o senhor quer casar com minha filha, vai ter que arrancar os dentes e cortar as garras.

O leão apaixonado foi correndo fazer o que o outro tinha mandado; depois voltou à casa do pai da moça e repetiu seu pedido de casamento. Mas o lenhador, que já não sentia medo daquele leão manso e desarmado, pegou um pau e tocou o leão para fora de sua casa.

Moral: Quem perde a cabeça por amor sempre acaba mal.

### **11. A fábula de Esopo:**

- A) Não trata de nenhum tema específico.
- B) Pretende mostrar a estratificação social.
- C) Se utiliza de animais para denunciar o preconceito.
- D) Trata uma história de amor impossível.



## PREFEITURA MUNICIPAL DE JEQUITIBÁ

ESTADO DE MINAS GERAIS

**12. A fábula começa apresentando o leão e logo nos vêm à mente todas as características tradicionalmente atribuídas ao animal. Ao final da narrativa, porém, percebemos que o leão foi:**

- A) Submisso
- B) Corajoso
- C) Cruel
- D) Justo

**13. Aponte a alternativa que contém uma característica pertinente ao texto:**

- A) O tempo e o espaço em que os fatos se dão estão bem definidos.
- B) É uma narrativa curta, por isso não apresenta os elementos básicos da narrativa.
- C) Título insignificante para a trama.
- D) Encerra em si uma linguagem simples, pois dirige-se ao povo.

**14. Considere as três afirmações abaixo acerca do texto lido:**

- I. Apesar de tratar-se de uma narrativa é possível que consideremos algumas passagens argumentativas.
- II. Apresenta uma situação problemática, ou seja, existe um conflito.
- III. É narrado em 3ª pessoa.

**Diante da análise acima, podemos afirmar que:**

- A) I e II estão corretas.
- B) Apenas III está correta.
- C) I, II e III estão corretas.
- D) Apenas I está correta.



## PREFEITURA MUNICIPAL DE JEQUITIBÁ

ESTADO DE MINAS GERAIS

**15. O texto está repleto de adjetivos. Qual o papel fundamental deles na fábula?**

- A) Caracterizar os personagens e a partir disso permear as ações sendo determinantes para o conflito e o desfecho da narrativa.
- B) Construir o próprio sentido do texto, sem adjetivos para sustentar a fábula, ela não se realiza como gênero textual.
- C) Nenhum, pois os adjetivos formam uma classe gramatical meramente alegórica.
- D) Mostrar a constância nas atitudes e pensamentos das personagens, fluindo para um desfecho claro e previsível.



**PREFEITURA MUNICIPAL DE JEQUITIBÁ**  
ESTADO DE MINAS GERAIS

**ENSINO MÉDIO COMPLETO – MATEMÁTICA**

16. O sistema ordenado  $(x, y)$  de equações  $\begin{cases} 3x + 4y = 72 \\ 5x + 2y = 64 \end{cases}$  tem como solução o par

Sendo assim,  $8x - 5y$  é igual a:

- A) 8
- B) 12
- C) 4
- D) 20

17. Uma bola de tênis custa o triplo do preço de uma bola de golf. Essa bola de golf custa o dobro do preço da bola de baseball. Carlos comprou uma bola de cada e pagou pelas três R\$180,00. O preço da bola de tênis é:

- A) R\$60,00
- B) R\$90,00
- C) R\$20,00
- D) R\$120,00

18. Qual é a raiz cúbica de 5832?

- a) 12
- b) 17
- c) 19
- d) 18

19. O gráfico da função  $f(x) = 18 - 35x$  é uma:

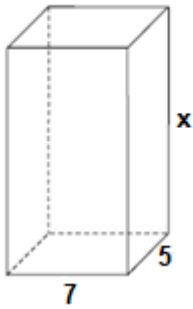
- A) Parábola com concavidade para cima
- B) Uma reta crescente
- C) Parábola com concavidade para baixo
- D) Uma reta decrescente

20. Um tanque de água, com capacidade máxima para  $455 \text{ m}^3$ , tem a forma de um prisma reto de base retangular, cujas medidas internas, em metros, estão indicadas na figura.



# PREFEITURA MUNICIPAL DE JEQUITIBÁ

ESTADO DE MINAS GERAIS



a altura desse reservatório, indicada na figura pela letra x, é igual a

- A) 10 m.
- B) 12 m.
- C) 13 m.
- D) 15 m.

**21. Quantos anagramas é possível fazer com a palavra JEQUITIBA**

A) 9!

B)  $\frac{9!}{2!}$

C)  $\frac{2!}{9!}$

D) Nenhuma das alternativas

**22. Um médico realiza, em cinco dias úteis de uma determinada semana, respectivamente, 15, 20, 25, 27 e 28 atendimentos diários. A média diária de atendimentos é de:**

- A) 23.
- B) 25.
- C) 27.
- D) 28.

**23. Uma moto com velocidade constante de 90 km/h faz determinado percurso em 80 minutos. Qual foi a velocidade da moto sabendo que em outro momento ela fez esse mesmo percurso em 1h 40minutos?**

- (A) 112,5km/h.
- (B) 72km/h.
- (C) 82km/h.
- (D) 80km/h.





**PREFEITURA MUNICIPAL DE JEQUITIBÁ**  
ESTADO DE MINAS GERAIS

**24. Foi aplicado à taxa de juros simples de 30% a.m. um capital de R\$160.000,00 durante o período de 5 meses. Quanto foi o juro obtido nessa aplicação?**

- A) R\$48.000,00.
- B) R\$400.000,00
- C) R\$240.000,00
- D) Nenhuma das alternativas

**25. A sequência numérica (15, 30, 60, 120, 240, 480) é uma Progressão:**

- A) Aritmética de razão 2.
- B) Aritmética de razão 4.
- C) Aritmética de razão 6.
- D) Geométrica de razão 2.

**26. A soma dos ângulos internos de um triângulo é:**

- A) 90°
- B) 360°
- C) 180°
- D) 270°

**27. Quais os valores de x na equação  $x^2 + 7x + 10 = 0$**

- A) 2 e 5
- B) 7 e 10.
- C) -2 e -5.
- D) 2 e 5

**28. Certo produto que custava R\$380,00 teve um aumento de 25%. Com esse aumento o produto passou a custar:**

- A) R\$405,00
- B) R\$457,00
- C) R\$475,00
- D) nenhuma das alternativas

**29. André toma 3 tipos de remédios, toma um de 4 em 4 horas, toma outro de 6 em 6 horas e por fim toma o último de 8 em 8 horas. Às 7 horas da manhã de uma quarta-feira ele tomou os 3 remédios ao mesmo tempo. Quando André irá tomar os remédios juntos novamente?**

- A) Às 7 horas da manhã de uma quinta-feira
- B) Às 7 horas da manhã de um sexta-feira
- C) Às 19h de uma quinta-feira
- d) Às 19h de uma sexta-feira



# PREFEITURA MUNICIPAL DE JEQUITIBÁ

ESTADO DE MINAS GERAIS

**30. Qual é o perímetro de um triângulo retângulo sabendo que seu cateto adjacente mede 16 cm e seu cosseno é igual a 0,8.**

- A) 36.
- B) 48.
- C) 60.
- D) 72.



# PREFEITURA MUNICIPAL DE JEQUITIBÁ

ESTADO DE MINAS GERAIS

## CONHECIMENTOS ESPECÍFICOS – NUTRICIONISTA (NASF)

### **31. Sobre o processamento do leite fresco assinale a alternativa correta:**

- ( ) Leite tipo C: obtido somente do leite em pó sem alteração no seu teor de gordura;
  - ( ) Leite tipo A: leite natural, obtido por ordenha mecânica, obedecendo-se todas as regras de higiene no seu processamento: extração, pasteurização, engarrafamento mecânico, distribuição com prioridade de tempo;
  - ( ) Leite longa vida: o leite de ótima qualidade, homogeneizado, é submetido à temperatura de ultraelevada (UHT – *ultra high temperature*), 135 a 150° C, durante duas a 4 horas;
  - ( ) Leite tipo B: leite natural, integral, pasteurizado;
- (a) V,V,V,F
  - (b) F,V,V,F
  - (c) F,V,F,V
  - (d) F,F,V,F

### **32- Sobre desidratação, assinale a alternativa que não corresponde aos aspectos que devem ser observados durante o exame físico nutricional:**

- (a) salivação
- (b) icterícia
- (c) elasticidade da pele
- (d) umidade das mucosas

### **33 - Sobre os deveres do nutricionista assinale a alternativa correta:**

- (a) Fazer publicidade ou propaganda em meios de comunicação com fins comerciais, de marcas de produtos alimentícios, suplementos nutricionais, fitoterápicos, utensílios, equipamentos, serviços ou nomes de empresas ou indústrias ligadas às atividades de alimentação e nutrição.
- (b) valer-se de posição ocupada em entidades da categoria para obter vantagens pessoais ou financeiras, diretamente ou por intermédio de terceiros, bem como para expressar superioridade ou exercer poder que exceda sua atribuição.



## PREFEITURA MUNICIPAL DE JEQUITIBÁ

ESTADO DE MINAS GERAIS

(c) condicionar, subordinar ou sujeitar sua atividade profissional à venda casada de produtos alimentícios, suplementos nutricionais, fitoterápicos, utensílios ou equipamentos ligados à área de alimentação e nutrição.

(d) adequar condutas e práticas profissionais às necessidades dos indivíduos, coletividades e serviços visando à promoção da saúde, não cedendo a apelos de modismos, a pressões mercadológicas ou midiáticas e a interesses financeiros para si ou terceiros.

### **34- Assinale a alternativa que diz respeito a dieta enteral oligomérica:**

(a) é aquela em que os macronutrientes, em especial a proteína, apresentam-se de forma parcialmente hidrolisada;

(b) é aquela em que os macronutrientes, em especial a proteína, apresentam-se de forma intacta;

(c) é aquela em que os macronutrientes, em especial a proteína, apresentam-se de forma totalmente hidrolisada

(d) é aquela que pretende suprir as necessidades nutricionais do paciente de forma a manter ou melhorar seu estado nutricional.

### **35- Assinale a alternativa incorreta: são as ações de responsabilidade de todos os profissionais que compõem os NASF, a serem desenvolvidas em conjunto com as Equipes de Saúde da Família - ESF**

(a) atuar, de forma integrada e planejada, nas atividades desenvolvidas pelas ESF e de Internação Domiciliar, quando estas existirem, acompanhando e atendendo a casos, de acordo com os critérios previamente estabelecidos;

(b) elaborar estratégias de comunicação para divulgação e sensibilização das atividades dos NASF por meio de cartazes, jornais, informativos, faixas, folders e outros veículos de informação;

(c) avaliar, em conjunto com as ESF e os Conselhos de Saúde, o desenvolvimento e a implementação das ações e a medida de seu impacto sobre a situação de saúde, por meio de indicadores previamente estabelecidos;

(d) cabe somente ao NASF elaborar e divulgar material educativo e informativo nas áreas de atenção.



## PREFEITURA MUNICIPAL DE JEQUITIBÁ

ESTADO DE MINAS GERAIS

**36- Relacione as colunas das doenças com os seus sintomas e assinale a alternativa correta:**

- 1- Dispepsia
- 2- Úlcera gástrica
- 3- Acalasia
- 4- Câncer de cavidade oral, esôfago ou estômago
- 5- Gastroparesia

( ) distensão abdominal, diminuição do apetite/ anorexia e vômitos, sensação de plenitude, saciedade precoce halitose e hipoglicemia pós-prandial;

( ) desconforto epigástrico vago, associado a alimentação;

( ) aperistalse; relaxamento tardio ou incompleto do esfíncter inferior em resposta à deglutição, disfagia;

( ) assintomático ou associado a dificuldade de mastigação, deglutição, desconforto epigástrico, retardo do esvaziamento;

( ) desconforto abdominal superior, inchaço especialmente após as refeições.

- (a) 1,3,5,4,1
- (b) 5,3,2,1,4
- (c) 5,2,3,4,1
- (d) 1,2,4,5,3

**37 – A síndrome de dumping ou do esvaziamento rápido é uma resposta gastrointestinal vasomotora complexa à presença de quantidades maiores que o normal de alimentos e líquidos hipertônicos no intestino delgado proximal. Sobre as orientações básicas para a síndrome do esvaziamento rápido está incorreto:**

- (a) alimentos sólidos, sem necessidade de alteração na consistência dos alimentos;
- (b) refeições pequenas, em maior frequência;



## PREFEITURA MUNICIPAL DE JEQUITIBÁ

ESTADO DE MINAS GERAIS

- (c) mais fibras solúveis;
- (d) quantidade aumentada de lipídeo na dieta;

**38- Retenção da alimentação oral e enteral, apoio com líquidos intravenoso, caso a nutrição oral não possa ser iniciada dentro 5 a 7 dias, inicie alimentação por tubo, a nutrição oral reestabelecida ofereça alimentos facilmente digestíveis, dieta com baixo teor de gordura, refeições pequenas, ingestão adequada de proteína, aumento de calorias. São orientações nutricionais para a seguinte doença:**

- (a) Esteatose hepática;
- (b) Pancreatite aguda;
- (c) Encefalopatia hepática
- (d) Doença de Wilson

**39- Xeroftalmia; raquitismo, osteomálacia; alteração de reflexos e coordenação; hemorragia. São complicações causadas pela deficiência das seguintes vitaminas respectivamente:**

- (a) Tiamina, Vitamina A, Riboflavina, Vitamina K;
- (b) Folato, Vitamina D, Vitamina K, Vitamina B12;
- (c) Vitamina D, Tiamina, Vitamina K, Folato;
- (d) Vitamina A, Vitamina D, Vitamina E, Vitamina K.

**40- Sistema de distribuição de refeição centralizado é aquele em que a refeição é preparada, distribuída, porcionada e identificada na cozinha. Dentre as alternativas a seguir assinale a incorreta:**

- (a) Menor manipulação de alimentos e conseqüentemente menor contaminação;
- (b) maior possibilidade de trocas e enganos na montagem e distribuição das refeições;
- (c) melhor supervisão e controle por parte do nutricionista;
- (d) melhor conservação e temperatura dos alimentos, pela rapidez e racionalização do próprio sistema



**PREFEITURA MUNICIPAL DE JEQUITIBÁ**  
ESTADO DE MINAS GERAIS

**PROCESSO SELETIVO SIMPLIFICADO 01/2021**  
**JEQUITIBÁ – MG**

**PROVA OBJETIVA**

**ENSINO FUNDAMENTAL INCOMPLETO**

**PORTUGUÊS E MATEMÁTICA**

- Coveiro
- Operário
- Operador de Máquinas
- Pintor
- Vigia
- Auxiliar de Serviços Gerais

**NOME**

**LEGÍVEL:** \_\_\_\_\_

**CPF:** \_\_\_\_\_

**Nº inscrição:** \_\_\_\_\_

**Cargo:** \_\_\_\_\_

- Assinale apenas uma alternativa com caneta esferográfica preta



# PREFEITURA MUNICIPAL DE JEQUITIBÁ

ESTADO DE MINAS GERAIS

## ENSINO FUNDAMENTAL INCOMPLETO – PORTUGUÊS

**1. Assinale a alternativa cujas palavras sejam formadas por apenas uma sílaba:**

- a) sol, rua, pé.
- b) baú, pá, sim.
- c) não, pé, flor.
- d) mar, quem, baú.

**2. Assinale a única alternativa que não é composta por três sílabas:**

- a) janeiro, beleza, planeta.
- b) pimenta, açougue, salada.
- c) beleza, camada, atração.
- d) subida, ourives, crescer.

**3. Marque a alternativa em que há uma palavra que apresenta grafia INCORRETA.**

- (A) Vaidoso; berinjela.
- (B) Monge; pedágio.
- (C) Talvez; paralizar.
- (D) Sarjeta; garagem.

**4. Assinale a alternativa em que a palavra destacada é adjetivo.**

- a) As goiabas doces eram vendidas pelos feirantes.
- b) Naquele sítio os visitantes comem muitos doces.
- c) Uma velha atendeu-me na porta.
- d) As pessoas acharam o homem estranho.

**5. Que tipo de frase é: - "Como se chama o teu gato?"**

- a) Frase exclamativa.
- b) Frase interrogativa.
- c) Frase imperativa.
- d) Frase imperativa.





# PREFEITURA MUNICIPAL DE JEQUITIBÁ

ESTADO DE MINAS GERAIS

## 6. Assinale a alternativa em que as palavras aparecem na ordem alfabética.

- a) fraca – líquido – água – plantas – morrer – apetite.
- b) apetite – morrer – fraca – água – plantas – líquido.
- c) morrer – água – plantas – fraca – líquido – apetite.
- d) água – apetite – fraca – líquido – morrer – plantas.

Leia o texto abaixo para responder as questões de número 7 a 9.

Folclore é mais do que se imagina. No calendário, o folclore tem data marcada para ser lembrado: dia 22 de agosto.

E na vida das pessoas, quando ele acontece? O folclore diz respeito à vida de cada um de nós, já que pertencemos a grupos sociais que levam adiante costumes, saberes e valores.

Da mais simples receita culinária ao mais complexo ritual de casamento, tudo é compartilhado por um grupo e levado adiante com o passar do tempo e das gerações. Isso acontece somente por uma razão: essas tradições continuam a fazer sentido, inclusive para os mais jovens.

## 7. Após leitura e compreensão do texto, podemos concluir que:

- (A) As tradições folclóricas não fazem mais sentido para os jovens.
- (B) O folclore não deve ser comemorado apenas no dia 22 de agosto.
- (C) O folclore está relacionado aos nossos costumes, saberes e valores.
- (D) Uma receita de comida nem sempre pertence ao folclore.

## 8. Por que o folclore permanece existindo ao longo das gerações?

- (A) Porque o folclore vai desde a mais simples receita culinária ao mais complexo ritual de casamento.
- (B) Porque as tradições permanecem fazendo sentido para as pessoas.
- (C) Porque ele tem data certa para ser lembrado.
- (D) Porque ele diz respeito à vida de cada um de nós.

**09. No trecho: “... tudo é compartilhado por um grupo e levado adiante com o passar do tempo e das gerações.”, a palavra “adiante” pode ser substituída, sem alterar o sentido da oração, por:**



**PREFEITURA MUNICIPAL DE JEQUITIBÁ**  
ESTADO DE MINAS GERAIS

- (A) Para cima.
- (B) Em frente.
- (C) Na medida em que.
- (D) Antes.

**10. Assinale a opção em que o encontro consonantal pertence a sílabas diferentes.**

- (A) Sublocar.
- (B) Sublime.
- (C) Aglutinar.
- (D) Banhar.

**11. Na oração “Chegando a noite, as estrelas brilharão”, a que classe morfológica pertence à palavra em destaque?**

- (A) Substantivo.
- (B) Adjetivo.
- (C) Verbo.
- (D) Conjunção.

**12. Em que alternativa a palavra grifada está escrita corretamente?**

- A) A orla da cidade de Augusto Corrêa é muinto bonita.
- B) Gosto de pexe frito com açai.
- C) O semitério da cidade é antigo.
- D) Depois daquela briga toda, o jeito foi fazer as pazes.

**13. Em que alternativa, o plural da palavra à esquerda está incorreto?**

- A) caminhão – caminhões
- B) armazém – armazéns
- C) luz - luzis
- D) difícil – difíceis



**PREFEITURA MUNICIPAL DE JEQUITIBÁ**  
ESTADO DE MINAS GERAIS

**14. A divisão silábica está corretamente feita em:**

- A) u-ni-ão
- B) fó-s-fo-ro
- C) va-ssou-ra
- D) câ-es

**15. A palavra que deve ser escrita com a consoante M é :**

- A) seme...te
- B) ge...te
- C) te...peratura
- D) ma...ga



**PREFEITURA MUNICIPAL DE JEQUITIBÁ**  
ESTADO DE MINAS GERAIS

**ENSINO FUNDAMENTAL INCOMPLETO – MATEMÁTICA**

**16. O quadrado é uma figura geométrica:**

- A) Que tem dois lados iguais e dois lados diferentes
- B) Que tem os quatros lados iguais
- C) De forma arredondada
- D) Que tem três lados e três ângulos

**17. O resultado da operação  $2 + 5 \times 3 + 12$  é:**

- A) 33
- B) 105
- C) 29
- D) 25

**18. 7 dúzias e meia corresponde a:**

- A) 76 unidades
- b) 84 unidades
- C) 90 unidades
- D) 13 unidades

**19. 3 arrobas é corresponde a:**

- A) 45kg
- B) 4500 gramas
- C) 45 gramas
- D 4,5 kg



**PREFEITURA MUNICIPAL DE JEQUITIBÁ**  
ESTADO DE MINAS GERAIS

**20. Uma pessoa deu três voltas de bicicleta em uma pista oval de 2 quilômetros, no total ela percorreu a distância de:**

- A) 2 metros
- B) 200 metros
- C) 2000 metros
- D) 6000 metros

**21. Um produto que custava R\$ 256,35 passou a custar R\$ 323,45, em comparação ao valor inicial o produto teve um aumento de:**

- A) R\$56,35
- B) R\$67,10
- C) R\$579,80
- D) Nenhuma das alternativas

**22. O resultado da operação  $4343 \div 43$  é:**

- A) 11
- B) 101
- C) 43
- D) 34

**23. Uma professora pediu que uma aluna marcasse numa linha do tempo o ano de 1960.**





**PREFEITURA MUNICIPAL DE JEQUITIBÁ**  
ESTADO DE MINAS GERAIS

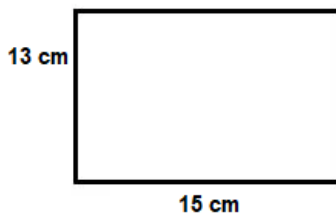
**Que ponto a aluna deve marcar para acertar a tarefa pedida?**

- A) A
- B) B
- C) C
- D) D

**24. O número que representa 35 milésimos é:**

- A) 0,35
- B) 0,0035
- C) 0,035
- D) 0,00035

**25. Observe a figura abaixo:**



A área dessa figura é:

- A)  $65 \text{ cm}^2$
- B)  $195 \text{ cm}^2$
- C)  $56 \text{ cm}^2$
- D)  $28 \text{ cm}^2$



**PREFEITURA MUNICIPAL DE JEQUITIBÁ**  
ESTADO DE MINAS GERAIS

**26. Uma hora tem quantos segundos?**

- A) 60
- B) 600
- C) 3600
- D) 360

**27. 5 metros equivale a:**

- A) 50 cm
- B) 0,5 km
- C) 5000 mm
- D) 500 mm

**28. Comprei uma televisão por R\$1500,00 de entrada mais 15 prestações de R\$75,00. Ao final dos 15 meses, quanto terei pago pela televisão?**

- A) R\$2625,00
- B) R\$2725,00
- C) R\$2825,00
- D) R\$3000,00

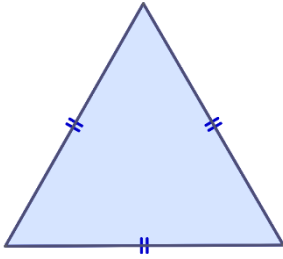
**29. Claudio fez um percurso de uma cidade A até a cidade B em 360 minutos, então podemos afirmar que Claudio fez esse trajeto em:**

- A) 36 horas
- B) 3600 segundos
- C) 6 horas
- D) 3,6 horas



**PREFEITURA MUNICIPAL DE JEQUITIBÁ**  
ESTADO DE MINAS GERAIS

30. O triângulo abaixo é um triângulo:



- A) Isósceles
- B) Retângulo
- C) Escaleno
- D) Equilátero





**PREFEITURA MUNICIPAL DE JEQUITIBÁ**  
ESTADO DE MINAS GERAIS

**PROCESSO SELETIVO SIMPLIFICADO 01/2021**  
**JEQUITIBÁ – MG**

**PROVA OBJETIVA**

**ENSINO MÉDIO COMPLETO**

**PORTUGUÊS E MATEMÁTICA**

- **AUXILIAR ADMINISTRATIVO**
- **MONITOR DE ALFABETIZAÇÃO**
- **MONITOR DE TRANSPORTE ESCOLAR**
- **OFICIAL DE FISCALIZAÇÃO**
- **RECEPCIONISTA**
- **AGENTE DE APOIO ADMINISTRATIVO**
- **AGENTE SOCIAL**

**NOME**

**LEGÍVEL:** \_\_\_\_\_

**CPF:** \_\_\_\_\_

**Nº inscrição:** \_\_\_\_\_

**Cargo:** \_\_\_\_\_

- **Assinale apenas uma alternativa com caneta esferográfica preta**



# PREFEITURA MUNICIPAL DE JEQUITIBÁ

## ESTADO DE MINAS GERAIS

### ENSINO MÉDIO COMPLETO – PORTUGUÊS

#### TEXTO I

#### **São Demasiado Pobres os Nossos Ricos**

A maior desgraça de uma nação pobre é que, em vez de produzir riqueza, produz ricos. Mas ricos sem riqueza. Na realidade, melhor seria chamá-los não de ricos, mas de endinheirados. Rico é quem possui meios de produção. Rico é quem gera dinheiro e dá emprego. Endinheirado é quem simplesmente tem dinheiro. Ou que pensa que tem. Porque, na realidade, o dinheiro é que o tem a ele.

A verdade é esta: são demasiado pobres os nossos «ricos». Aquilo que têm, não detêm. Pior: aquilo que exibem como seu, é propriedade de outros. É produto de roubo e de negociatas. Não podem, porém, estes nossos endinheirados usufruir em tranquilidade de tudo quanto roubaram. Vivem na obsessão de poderem ser roubados. Necessitavam de forças policiais à altura. Mas forças policiais à altura acabariam por lançá-los a eles próprios na cadeia. Necessitavam de uma ordem social em que houvesse poucas razões para a criminalidade. Mas se eles enriqueceram foi graças a essa mesma desordem.

O maior sonho dos nossos novos-ricos é, afinal, muito pequenito: um carro de luxo, umas efêmeras cintilâncias. Mas a luxuosa viatura não pode sonhar muito, sacudida pelos buracos das avenidas. O Mercedes e o BMW não podem fazer inteiro uso dos seus brilhos, ocupados que estão em se esquivar entre chapas, muito convexos e estradas muito côncavas. A existência de estradas boas dependeria de outro tipo de riqueza. Uma riqueza que servisse a cidade. E a riqueza dos nossos novos-ricos nasceu de um movimento contrário: do empobrecimento da cidade e da sociedade.

As casas de luxo dos nossos falsos ricos são menos para serem habitadas do que para serem vistas. Fizeram-se para os olhos de quem passa. Mas ao exibirem-se, assim, cheias de folhos e chibantices, acabam atraindo alheias cobiças. Por mais guardas que tenham à porta, os nossos pobres-ricos não afastam o receio das invejas e dos feitiços que essas invejas convocam. O fausto das residências não os torna imunes. Pobres dos nossos riquinhos!

São como a cerveja tirada à pressão. São feitos num instante, mas a maior parte é só espuma. O que resta de verdadeiro é mais o copo que o conteúdo. Podiam criar gado ou vegetais. Mas não. Em vez disso, os nossos endinheirados feitos sob pressão criam amantes. Mas as amantes (e/ou os amantes) têm um grave inconveniente: necessitam de ser sustentadas com dispendiosos mimos. O maior inconveniente é ainda a ausência de garantia do produto. A amante de um pode ser, amanhã, amante de outro. O coração do criador de amantes não tem sossego: quem traiu sabe que pode ser traído.

Mia Couto, in 'Pensatempos'



# PREFEITURA MUNICIPAL DE JEQUITIBÁ

ESTADO DE MINAS GERAIS

<http://www.citador.pt/textos/sao-demasiado-pobres-os-nossosricos-mia-couto..>

**01. De acordo com Mia Couto, os desejos de consumo dos endinheirados são vazios e acabam frustrados porque:**

- A) São desejos passageiros que logo perdem o sentido de ser.
- B) Não são frutos de um planejamento e de decisões cautelosas e prudentes.
- C) Vão de encontro à realidade desigual e à falta de estrutura do país.
- D) Apesar de ricos não sabem aplicar o dinheiro e logo perdem o poder aquisitivo.

**02. Por que, na opinião do autor Mia Couto, “são demasiado pobres os nossos «ricos»?”**

- A) Porque não sabem utilizar o dinheiro que ganham com inteligência.
- B) Porque não almejam a riqueza do país, mas apenas a aquisição, a qualquer custo, de dinheiro fácil.
- C) Porque não aceitam que pessoas pobres tenham a oportunidade de também vencerem na vida.
- D) Porque investem muito em segurança e acabam ficando enclausurados em suas residências.

**03. Os verbos “vivem” e “torna” presentes nos períodos abaixo são classificados, de acordo com a regência verbal que exercem nessas orações, como sendo:**

- I. “Vivem na obsessão de poderem ser roubados”.
  - II. “O fausto das residências não os torna imunes”.
- A) I. Intransitivo; II. Transitivo direto.
  - B) I. Transitivo indireto; II. Transitivo direto.
  - C) I. Intransitivo; II. Transitivo direto e indireto.
  - D) I. Transitivo indireto; II. Transitivo direto e indireto.



## PREFEITURA MUNICIPAL DE JEQUITIBÁ

ESTADO DE MINAS GERAIS

**04. Em “São demasiado pobres os nossos ricos”, o termo destacado pode ser classificado gramaticalmente como sendo:**

- A) Um substantivo.
- B) Um adjetivo.
- C) Um advérbio.
- D) Uma conjunção.

**05. Assinale a alternativa que preenche corretamente as lacunas abaixo:**

Ao analisar a coesão entre as orações “O coração do criador de amantes não tem sossego: quem traiu sabe que pode ser traído”, pode-se perceber que, no lugar dos dois pontos, poderia ter sido usada a conjunção..... Para manter a ideia de.....

- A) por isso – conclusão.
- B) pois – conclusão.
- C) mas – contradição.
- D) pois – explicação.

**06. Ao observar a concordância dos verbos destacados em “Fizeram-se para os olhos de quem passa. Mas ao exibirem-se, assim, cheias de folhos e chibantices, acabam atraindo alheias cobiças”, pode-se afirmar que:**

- I. “Fizeram” está no plural concordando com “olhos”.
- II. Ambos estão concordando com “casas de luxo”.
- III. “Exibirem” está no plural concordando com “folhos e chibantices”.
- IV. Cada um está realizando a concordância com o seu respectivo sujeito.
- V. Os dois estão concordando com um sujeito mencionado na oração anterior.
- VI. Os dois verbos poderiam estar na 3ª pessoa do singular concordando com o sujeito mais próximo.



# PREFEITURA MUNICIPAL DE JEQUITIBÁ

ESTADO DE MINAS GERAIS

**Assinale a alternativa correta:**

- A) Apenas I, III e VI estão corretos.
- B) Apenas II e V estão corretos.
- C) Apenas II, V e VI estão corretos.
- D) Apenas I, III e IV estão corretos.

**7. Mia Couto, em sua frase “O fausto das residências não os torna imunes”, usou a palavra fausto” para simbolizar:**

- A) Luxo.
- B) Segurança.
- C) Bom gosto.
- D) Discrição.

**08. “São demasiado pobres<sup>1</sup> os nossos ricos<sup>2</sup>”. Ao analisar a função gramatical dos termos grifados nesse período, percebe-se que “pobres” e “ricos” estão desempenhando função de:**

- A) 1. Substantivo e 2. Substantivo.
- B) 1. Adjetivo e 2. Substantivo.
- C) 1. Substantivo e 2. Adjetivo.
- D) 1. Adjetivo e 2. Adjetivo.

**09. Em “São como a cerveja tirada à pressão”, ocorreu a crase por se tratar de uma locução adverbial feminina de modo.**

Assim como essa, outras locuções adverbiais femininas também recebem crase. Assinale a alternativa em que a crase ocorreu por se tratar de uma locução adverbial feminina.

- A) Por mais guardas que tenham à porta, os nossos pobres-ricos não afastam...
- B) Os endinheirados dedicam-se apenas à gastar sem medida.
- C) É uma riqueza que faz referência à ausência de sentimentos humanitários.
- D) A população mais carente assiste atônita à derrocada de seus direitos.



# PREFEITURA MUNICIPAL DE JEQUITIBÁ

ESTADO DE MINAS GERAIS

**10. “Aquilo que têm, não detêm”. Os verbos “têm” e “detêm” recebem acento circunflexo porquê?**

- A) São palavras oxítonas terminam em “EM”.
- B) São palavras paroxítonas terminadas em “EM”.
- C) Estão no singular e precisam ser diferenciadas da forma verbal no plural.
- D) Estão no plural e precisam ser diferenciados da forma verbal no singular.

## **TEXTO II**

### **Fábula: O leão apaixonado**

Certa vez um leão se apaixonou pela filha de um lenhador e foi pedir a mão dela em casamento. O lenhador não ficou muito animado com a ideia de ver a filha com um marido perigoso daqueles e disse ao leão que era muita honra, mas muito obrigado, não queria. O leão se irritou; sentindo o perigo, o homem foi esperto e fingiu que concordava:

- É uma honra, meu senhor. Mas que dentes o senhor tem! Que garras compridas! Qualquer moça ia ficar com medo. Se o senhor quer casar com minha filha, vai ter que arrancar os dentes e cortar as garras.

O leão apaixonado foi correndo fazer o que o outro tinha mandado; depois voltou à casa do pai da moça e repetiu seu pedido de casamento. Mas o lenhador, que já não sentia medo daquele leão manso e desarmado, pegou um pau e tocou o leão para fora de sua casa.

Moral: Quem perde a cabeça por amor sempre acaba mal.

### **11. A fábula de Esopo:**

- A) Não trata de nenhum tema específico.
- B) Pretende mostrar a estratificação social.
- C) Se utiliza de animais para denunciar o preconceito.
- D) Trata uma história de amor impossível.



## PREFEITURA MUNICIPAL DE JEQUITIBÁ

ESTADO DE MINAS GERAIS

**12. A fábula começa apresentando o leão e logo nos vêm à mente todas as características tradicionalmente atribuídas ao animal. Ao final da narrativa, porém, percebemos que o leão foi:**

- A) Submisso
- B) Corajoso
- C) Cruel
- D) Justo

**13. Aponte a alternativa que contém uma característica pertinente ao texto:**

- A) O tempo e o espaço em que os fatos se dão estão bem definidos.
- B) É uma narrativa curta, por isso não apresenta os elementos básicos da narrativa.
- C) Título insignificante para a trama.
- D) Encerra em si uma linguagem simples, pois dirige-se ao povo.

**14. Considere as três afirmações abaixo acerca do texto lido:**

- I. Apesar de tratar-se de uma narrativa é possível que consideremos algumas passagens argumentativas.
- II. Apresenta uma situação problemática, ou seja, existe um conflito.
- III. É narrado em 3ª pessoa.

**Diante da análise acima, podemos afirmar que:**

- A) I e II estão corretas.
- B) Apenas III está correta.
- C) I, II e III estão corretas.
- D) Apenas I está correta.



## PREFEITURA MUNICIPAL DE JEQUITIBÁ

ESTADO DE MINAS GERAIS

**15. O texto está repleto de adjetivos. Qual o papel fundamental deles na fábula?**

- A) Caracterizar os personagens e a partir disso permear as ações sendo determinantes para o conflito e o desfecho da narrativa.
- B) Construir o próprio sentido do texto, sem adjetivos para sustentar a fábula, ela não se realiza como gênero textual.
- C) Nenhum, pois os adjetivos formam uma classe gramatical meramente alegórica.
- D) Mostrar a constância nas atitudes e pensamentos das personagens, fluindo para um desfecho claro e previsível.





**PREFEITURA MUNICIPAL DE JEQUITIBÁ**  
ESTADO DE MINAS GERAIS

**ENSINO MÉDIO COMPLETO – MATEMÁTICA**

16. O sistema ordenado  $(x, y)$  de equações  $\begin{cases} 3x + 4y = 72 \\ 5x + 2y = 64 \end{cases}$  tem como solução o par

Sendo assim,  $8x - 5y$  é igual a:

- A) 8
- B) 12
- C) 4
- D) 20

17. Uma bola de tênis custa o triplo do preço de uma bola de golf. Essa bola de golf custa o dobro do preço da bola de baseball. Carlos comprou uma bola de cada e pagou pelas três R\$180,00. O preço da bola de tênis é:

- A) R\$60,00
- B) R\$90,00
- C) R\$20,00
- D) R\$120,00

18. Qual é a raiz cúbica de 5832?

- a) 12
- b) 17
- c) 19
- d) 18

19. O gráfico da função  $f(x) = 18 - 35x$  é uma:

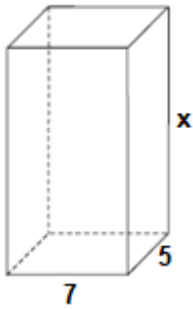
- A) Parábola com concavidade para cima
- B) Uma reta crescente
- C) Parábola com concavidade para baixo
- D) Uma reta decrescente

20. Um tanque de água, com capacidade máxima para  $455 \text{ m}^3$ , tem a forma de um prisma reto de base retangular, cujas medidas internas, em metros, estão indicadas na figura.



# PREFEITURA MUNICIPAL DE JEQUITIBÁ

ESTADO DE MINAS GERAIS



a altura desse reservatório, indicada na figura pela letra x, é igual a

- A) 10 m.
- B) 12 m.
- C) 13 m.
- D) 15 m.

**21. Quantos anagramas é possível fazer com a palavra JEQUITIBA**

A) 9!

B)  $\frac{9!}{2!}$

C)  $\frac{2!}{9!}$

D) Nenhuma das alternativas

**22. Um médico realiza, em cinco dias úteis de uma determinada semana, respectivamente, 15, 20, 25, 27 e 28 atendimentos diários. A média diária de atendimentos é de:**

- A) 23.
- B) 25.
- C) 27.
- D) 28.

**23. Uma moto com velocidade constante de 90 km/h faz determinado percurso em 80 minutos. Qual foi a velocidade da moto sabendo que em outro momento ela fez esse mesmo percurso em 1h 40minutos?**

- (A) 112,5km/h.
- (B) 72km/h.
- (C) 82km/h.
- (D) 80km/h.



**PREFEITURA MUNICIPAL DE JEQUITIBÁ**  
ESTADO DE MINAS GERAIS

**24. Foi aplicado à taxa de juros simples de 30% a.m. um capital de R\$160.000,00 durante o período de 5 meses. Quanto foi o juro obtido nessa aplicação?**

- A) R\$48.000,00.
- B) R\$400.000,00
- C) R\$240.000,00
- D) Nenhuma das alternativas

**25. A sequência numérica (15, 30, 60, 120, 240, 480) é uma Progressão:**

- A) Aritmética de razão 2.
- B) Aritmética de razão 4.
- C) Aritmética de razão 6.
- D) Geométrica de razão 2.

**26. A soma dos ângulos internos de um triângulo é:**

- A) 90°
- B) 360°
- C) 180°
- D) 270°

**27. Quais os valores de x na equação  $x^2 + 7x + 10 = 0$**

- A) 2 e 5
- B) 7 e 10.
- C) -2 e -5.
- D) 2 e 5

**28. Certo produto que custava R\$380,00 teve um aumento de 25%. Com esse aumento o produto passou a custar:**

- A) R\$405,00
- B) R\$457,00
- C) R\$475,00
- D) nenhuma das alternativas

**29. André toma 3 tipos de remédios, toma um de 4 em 4 horas, toma outro de 6 em 6 horas e por fim toma o último de 8 em 8 horas. Às 7 horas da manhã de uma quarta-feira ele tomou os 3 remédios ao mesmo tempo. Quando André irá tomar os remédios juntos novamente?**

- A) Às 7 horas da manhã de uma quinta-feira
- B) Às 7 horas da manhã de um sexta-feira
- C) Às 19h de uma quinta-feira
- D) Às 19h de uma sexta-feira



# PREFEITURA MUNICIPAL DE JEQUITIBÁ

ESTADO DE MINAS GERAIS

**30. Qual é o perímetro de um triângulo retângulo sabendo que seu cateto adjacente mede 16 cm e seu cosseno é igual a 0,8.**

- A) 36.
- B) 48.
- C) 60.
- D) 72.



**PREFEITURA MUNICIPAL DE JEQUITIBÁ**  
ESTADO DE MINAS GERAIS

**PROCESSO SELETIVO SIMPLIFICADO 01/2021**  
**JEQUITIBÁ – MG**

**PROVA OBJETIVA**

**ENSINO FUNDAMENTAL COMPLETO**

**PORTUGUÊS E MATEMÁTICA**

• **SERVENTE ESCOLAR**

NOME

LEGÍVEL: \_\_\_\_\_

CPF: \_\_\_\_\_

Nº inscrição: \_\_\_\_\_

Cargo: \_\_\_\_\_

- Assinale apenas uma alternativa com caneta esferográfica preta



# PREFEITURA MUNICIPAL DE JEQUITIBÁ

ESTADO DE MINAS GERAIS

## ENSINO FUNDAMENTAL COMPLETO – PORTUGUÊS

1. “Os alunos preparam-se para cantar o hino nacional”. O termo que substitui adequadamente a palavra “alunos” no enunciado acima é:

- A) docentes
- B) estagiários.
- C) discentes.
- D) emergentes.

2. Todas as palavras do grupo devem receber corretamente acentuação gráfica em:

- A) tranquilo, paciente, poetico.
- B) juri, nautico, inevitavel.
- C) heroico, politico, item.
- D) consciente, gratuito, facil.

3. Assinale a alternativa que completa, correta e respectivamente, as lacunas.

I. Mesmo tendo \_\_\_\_\_ a conta, o cliente teve a sua assinatura cancelada.

II. Até ontem à noite, as mercadorias não tinham\_\_\_\_\_.

III. Eu deveria ter \_\_\_\_\_ o pen drive.

- a) pagado - chegado - trazido.
- b) pagado - chego - trazido.
- c) pago - chego- trago.
- d) pago - chegado - trago.



# PREFEITURA MUNICIPAL DE JEQUITIBÁ

## ESTADO DE MINAS GERAIS

Para responder as questões de números 4 a 7, leia o texto.

Brasil, o país do futebol

“País do Futebol” ou “Pátria de Chuteiras”, como é chamado no exterior, o Brasil não foi o inventor do futebol, mas se tornou o solo fértil para a difusão e popularização do esporte em todo o mundo. Prova disso são as inúmeras variações futebolísticas criadas no país, como o futebol de areia, de salão e outros.

A presença do futebol é tão marcante na paisagem brasileira que não há uma vila, aldeia ou mosteiro religioso sem um campo de futebol. O esporte está presente na política, na moda, nas artes, no cinema e até na culinária do país. Para alguns, o futebol é religião, para outros é arte. Na verdade, é um pouco de tudo isso e algo mais.

Os números do futebol no Brasil são expressivos, mas não são os maiores do mundo, segundo a FIFA. O número de clubes do Brasil – quase 30 000 – é menor que o da Inglaterra, enquanto o número de pouco mais de dois milhões de jogadores cadastrados é menor que o da Alemanha. Também o total de jogadores é menor do que o de países como a Índia e a China.

A Confederação Brasileira de Futebol (CBF) é a entidade que organiza o futebol brasileiro, com as 27 federações estaduais vinculadas. A entidade, com sede no Rio de Janeiro, organiza o Campeonato Brasileiro de Futebol e também é responsável pelos torneios de futebol feminino do país.

([www.portal2014.org.br](http://www.portal2014.org.br) – em 10.06.2013 – Adaptado)

#### **4. De acordo com o texto, o Brasil tornou o futebol um esporte**

- (A) de elite.
- (B) popular.
- (C) caro.
- (D) radical.

#### **5. O texto cita que no Brasil existem, aproximadamente, trinta mil**

- (A) clubes de futebol.
- (B) jogadores de futebol cadastrados.



# PREFEITURA MUNICIPAL DE JEQUITIBÁ

ESTADO DE MINAS GERAIS

- (C) estádios de futebol.
- (D) torcedores para cada time.

## 6. Segundo informa o texto, muitos brasileiros

- (A) se alimentam mais nos dias de jogos.
- (B) consideram o futebol uma religião.
- (C) querem que a família toda torça pelo mesmo time.
- (D) acreditam que a vocação para o futebol é coisa rara.

## 7. Assinale a alternativa correta, de acordo com o texto.

- (A) O Brasil é o país que inventou o futebol.
- (B) Na China, existem menos jogadores de futebol do que no Brasil.
- (C) A Inglaterra tem mais clubes de futebol do que o Brasil.
- (D) A CBF organiza os jogos do Brasil e a Copa do Mundo.

## 8. Assinale a frase correta.

- (A) Minhas melhores amigas gostam de passear com suas famílias.
- (B) Minhas melhor amiga gosta de passearem com suas família.
- (C) Minha melhores amiga gostam de passear com sua famílias.
- (D) Minhas melhor amigas gosta de passearem com sua família.





# PREFEITURA MUNICIPAL DE JEQUITIBÁ

ESTADO DE MINAS GERAIS

Leia o texto a seguir para responder às questões de números 9 a 13.

## Canção da América

Amigo é coisa pra se guardar  
debaixo de sete chaves,  
dentro do coração,  
assim falava a canção que na América ouvi,  
mas quem cantava chorou ao ver seu amigo partir,  
mas quem ficou, no pensamento voou,  
com seu canto que o outro lembrou.  
E quem voou no pensamento ficou  
com a lembrança que o outro cantou.  
Amigo é coisa pra se guardar  
no lado esquerdo do peito,  
mesmo que o tempo e a distância digam não,  
mesmo esquecendo a canção.  
O que importa é ouvir a voz que vem do coração.  
Pois seja o que vier,  
venha o que vier,  
qualquer dia, amigo, eu volto a te encontrar  
qualquer dia, amigo, a gente vai se encontrar.  
(Milton Nascimento)



# PREFEITURA MUNICIPAL DE JEQUITIBÁ

ESTADO DE MINAS GERAIS

**9. Segundo a leitura do texto, é correto afirmar que o tema da canção se concentra em**

- (A) amor e medo.
- (B) distância e juventude.
- (C) melancolia e ingratidão
- (D) amizade e música.

**10. Conforme a leitura do final da canção – ... qualquer dia, amigo, eu volto a te encontrar ...qualquer dia, amigo, a gente vai se encontrar... – pode-se afirmar que a ideia contida nos versos revela:**

- (A) pessimismo.
- (B) esperança.
- (C) tristeza.
- (D) indiferença.

**11. No trecho – Pois, seja o que vier, venha o que vier... – a palavra destacada expressa sentido de**

- (A) condição.
- (B) conclusão.
- (C) oposição.
- (D) causa.

**12. Na expressão – Debaixo de sete chaves... – a palavra destacada estabelece sentido de**

- (A) origem.
- (B) instrumento.
- (C) tempo.
- (D) lugar.



**PREFEITURA MUNICIPAL DE JEQUITIBÁ**  
ESTADO DE MINAS GERAIS

**13. Assinale a alternativa em que o verbo destacado está corretamente empregado no tempo presente.**

- (A) ... assim falava a canção...
- (B) ... mas quem cantava chorou...
- (C) ... ouvir a voz que vem do coração...
- (D) E quem voou no pensamento ficou...

**14. Assinale a alternativa em que a colocação dos pronomes está de acordo com a norma-padrão da língua portuguesa.**

- (A) Nunca sabe-se bem se uma amizade será duradoura.
- (B) Se fala muito sobre política nas redes sociais.
- (C) Jamais encontraram-se depois daquela viagem.
- (D) Logo que se conheceram melhor, tornaram-se amigos.

**15. Elas são as amigas que sempre se \_\_\_\_\_ muito \_\_\_\_\_ livros e cinema. Por isso nós \_\_\_\_\_ convidamos para ir conosco ver esse novo filme. As lacunas do enunciado devem ser preenchidas, correta e respectivamente, conforme a norma-padrão da língua portuguesa, por:**

- (A) interessa ... em ... lhes
- (B) interessam ... por ... as
- (C) interessa ... com ... as
- (D) interessam ... de ... lhes



**PREFEITURA MUNICIPAL DE JEQUITIBÁ**  
ESTADO DE MINAS GERAIS

**ENSINO FUNDAMENTAL COMPLETO – MATEMÁTICA**

16. O resultado da operação  $\frac{1}{8} + \frac{5}{12}$  é:

A)  $\frac{3}{10}$

B)  $\frac{13}{24}$

C)  $\frac{1}{16}$

D) nenhuma das alternativas

17. A média entre os números 15, 25, 30, 45, 50 é:

A) 33

B) 30

C) 45

D) 15

18. 5 pedreiros constroem uma casa em 40 dias. Então 20 pedreiros constroem essa mesma casa em quantos dias?

A) 160 dias

B) 10 dias

C) 20 dias

D) 40 dias



**PREFEITURA MUNICIPAL DE JEQUITIBÁ**  
ESTADO DE MINAS GERAIS

**19. Matheus fez uma viagem, gastou 8 horas no percurso com uma velocidade de 40 km/h. Qual seria a velocidade de Matheus se ele gastasse 5 horas nesse mesmo percurso?**

- A) 70 km/h.
- B) 80km/h.
- C) 64 km/h.
- D) 82 km/h.

**20. Na sala de aula, a professora descobriu que 40% dos alunos são corintianos, 25% torcem para o São Paulo, 30% são palmeirenses, 5% torcem para Santos. Sabendo que existem 40 alunos na sala, quantos torcem para o Corinthians?**

- a) 10
- b) 20
- c) 16
- d) 12
- e) 8

**21. Qual o Mínimo Múltiplo Comum (MMC) dos números 8, 15 e 20?**

- A)20.
- B) 40.
- C) 120.
- D) 180.

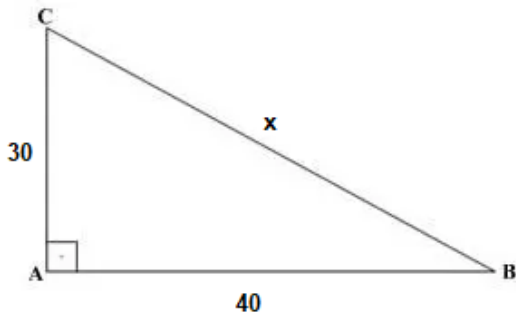
**22. O máximo divisor comum (MDC) entre 75, 100 e 150 é:**

- A) 100.
- B) 25.
- C) 50.
- D) 15.



**PREFEITURA MUNICIPAL DE JEQUITIBÁ**  
ESTADO DE MINAS GERAIS

23. O valor de X no triângulo retângulo abaixo é:



- A) 60
- B) 70
- C) 50
- D) 80

24. Qual é o valor de x na seguinte equação:


$$6x - 10 + 9x + 40 = 180 + 2x - 30 + 3x$$

- A) 12
- B) 20
- C) 10
- D) Nenhuma das alternativas



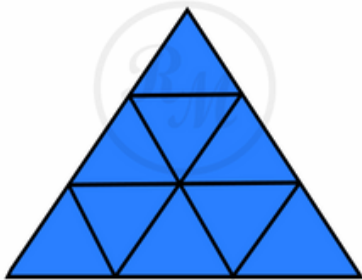
**PREFEITURA MUNICIPAL DE JEQUITIBÁ**  
ESTADO DE MINAS GERAIS

25. As medidas do retângulo abaixo estão em cm, então podemos afirmar que seu perímetro é igual a:



- A) 34,7 cm
- B) 263,2 cm<sup>2</sup>
- C) 69,4 cm
- D) 58,2

26. Quantos triângulos há na figura abaixo:



- A) 9
- B) 10
- C) 11
- D) 13



**PREFEITURA MUNICIPAL DE JEQUITIBÁ**  
ESTADO DE MINAS GERAIS

**27. Assinale a opção que indica o resultado de  $3 + 5 \times 5 - 12 \div 2$ .**

- A) 14
- B) 22
- C) 23
- D) 24

**28. Assinale a alternativa que apresenta o resultado da operação  $\sqrt{25} + \sqrt{36} - \sqrt{16}$**

- A) 7
- B) 5
- C) 6
- D)  $\sqrt{45}$

**29.  $2^5 + 3^3$  é igual a:**

- A) 19
- B) 59
- C)  $5^8$
- D) 58

**30. Dos números abaixo, assinale qual deles NÃO é um número natural:**

- A) 15.
- B) 75.
- C) 478.
- D) 0,5.





**PREFEITURA MUNICIPAL DE JEQUITIBÁ**  
ESTADO DE MINAS GERAIS

**PROCESSO SELETIVO SIMPLIFICADO 01/2021**  
**JEQUITIBÁ – MG**

**PROVA OBJETIVA**

**TÉCNICO EM FARMÁCIA**

**NOME**

**LEGÍVEL:** \_\_\_\_\_

**CPF:** \_\_\_\_\_

**Nº inscrição:** \_\_\_\_\_

**Cargo:** \_\_\_\_\_

- Assinale apenas uma alternativa com caneta esferográfica preta



# PREFEITURA MUNICIPAL DE JEQUITIBÁ

ESTADO DE MINAS GERAIS

## ENSINO MÉDIO COMPLETO – PORTUGUÊS

### TEXTO I

#### **São Demasiado Pobres os Nossos Ricos**

A maior desgraça de uma nação pobre é que, em vez de produzir riqueza, produz ricos. Mas ricos sem riqueza. Na realidade, melhor seria chamá-los não de ricos, mas de endinheirados. Rico é quem possui meios de produção. Rico é quem gera dinheiro e dá emprego. Endinheirado é quem simplesmente tem dinheiro. Ou que pensa que tem. Porque, na realidade, o dinheiro é que o tem a ele.

A verdade é esta: são demasiado pobres os nossos «ricos». Aquilo que têm, não detêm. Pior: aquilo que exibem como seu, é propriedade de outros. É produto de roubo e de negociatas. Não podem, porém, estes nossos endinheirados usufruir em tranquilidade de tudo quanto roubaram. Vivem na obsessão de poderem ser roubados. Necessitavam de forças policiais à altura. Mas forças policiais à altura acabariam por lançá-los a eles próprios na cadeia. Necessitavam de uma ordem social em que houvesse poucas razões para a criminalidade. Mas se eles enriqueceram foi graças a essa mesma desordem.

O maior sonho dos nossos novos-ricos é, afinal, muito pequenito: um carro de luxo, umas efêmeras cintilâncias. Mas a luxuosa viatura não pode sonhar muito, sacudida pelos buracos das avenidas. O Mercedes e o BMW não podem fazer inteiro uso dos seus brilhos, ocupados que estão em se esquivar entre chapas, muito convexos e estradas muito côncavas. A existência de estradas boas dependeria de outro tipo de riqueza. Uma riqueza que servisse a cidade. E a riqueza dos nossos novos-ricos nasceu de um movimento contrário: do empobrecimento da cidade e da sociedade.

As casas de luxo dos nossos falsos ricos são menos para serem habitadas do que para serem vistas. Fizeram-se para os olhos de quem passa. Mas ao exibirem-se, assim, cheias de folhos e chibantices, acabam atraindo alheias cobiças. Por mais guardas que tenham à porta, os nossos pobres-ricos não afastam o receio das invejas e dos feitiços que essas invejas convocam. O fausto das residências não os torna imunes. Pobres dos nossos riquinhos!

São como a cerveja tirada à pressão. São feitos num instante, mas a maior parte é só espuma. O que resta de verdadeiro é mais o copo que o conteúdo. Podiam criar gado ou vegetais. Mas não. Em vez disso, os nossos endinheirados feitos sob pressão criam amantes. Mas as amantes (e/ou os amantes) têm um grave inconveniente: necessitam de ser sustentadas com dispendiosos mimos. O maior inconveniente é ainda a ausência de garantia do produto. A amante de um pode ser, amanhã, amante de outro. O coração do criador de amantes não tem sossego: quem traiu sabe que pode ser traído.

Mia Couto, in 'Pensatempos'

<http://www.citador.pt/textos/sao-demasiado-pobres-os-nossosricos-mia-couto..>



# PREFEITURA MUNICIPAL DE JEQUITIBÁ

ESTADO DE MINAS GERAIS

**01. De acordo com Mia Couto, os desejos de consumo dos endinheirados são vazios e acabam frustrados porque:**

- A) São desejos passageiros que logo perdem o sentido de ser.
- B) Não são frutos de um planejamento e de decisões cautelosas e prudentes.
- C) Vão de encontro à realidade desigual e à falta de estrutura do país.
- D) Apesar de ricos não sabem aplicar o dinheiro e logo perdem o poder aquisitivo.

**02. Por que, na opinião do autor Mia Couto, “são demasiado pobres os nossos «ricos»?**

- A) Porque não sabem utilizar o dinheiro que ganham com inteligência.
- B) Porque não almejam a riqueza do país, mas apenas a aquisição, a qualquer custo, de dinheiro fácil.
- C) Porque não aceitam que pessoas pobres tenham a oportunidade de também vencerem na vida.
- D) Porque investem muito em segurança e acabam ficando enclausurados em suas residências.

**03. Os verbos “vivem” e “torna” presentes nos períodos abaixo são classificados, de acordo com a regência verbal que exercem nessas orações, como sendo:**

- I. “Vivem na obsessão de poderem ser roubados”.
  - II. “O fausto das residências não os torna imunes”.
- A) I. Intransitivo; II. Transitivo direto.
  - B) I. Transitivo indireto; II. Transitivo direto.
  - C) I. Intransitivo; II. Transitivo direto e indireto.
  - D) I. Transitivo indireto; II. Transitivo direto e indireto.



## PREFEITURA MUNICIPAL DE JEQUITIBÁ

ESTADO DE MINAS GERAIS

**04. Em “São demasiado pobres os nossos ricos”, o termo destacado pode ser classificado gramaticalmente como sendo:**

- A) Um substantivo.
- B) Um adjetivo.
- C) Um advérbio.
- D) Uma conjunção.

**05. Assinale a alternativa que preenche corretamente as lacunas abaixo:**

Ao analisar a coesão entre as orações “O coração do criador de amantes não tem sossego: quem traiu sabe que pode ser traído”, pode-se perceber que, no lugar dos dois pontos, poderia ter sido usada a conjunção..... Para manter a ideia de.....

- A) por isso – conclusão.
- B) pois – conclusão.
- C) mas – contradição.
- D) pois – explicação.

**06. Ao observar a concordância dos verbos destacados em “Fizeram-se para os olhos de quem passa. Mas ao exibirem-se, assim, cheias de folhos e chibantices, acabam atraindo alheias cobiças”, pode-se afirmar que:**

- I. “Fizeram” está no plural concordando com “olhos”.
- II. Ambos estão concordando com “casas de luxo”.
- III. “Exibirem” está no plural concordando com “folhos e chibantices”.
- IV. Cada um está realizando a concordância com o seu respectivo sujeito.
- V. Os dois estão concordando com um sujeito mencionado na oração anterior.
- VI. Os dois verbos poderiam estar na 3ª pessoa do singular concordando com o sujeito mais próximo.



# PREFEITURA MUNICIPAL DE JEQUITIBÁ

ESTADO DE MINAS GERAIS

**Assinale a alternativa correta:**

- A) Apenas I, III e VI estão corretos.
- B) Apenas II e V estão corretos.
- C) Apenas II, V e VI estão corretos.
- D) Apenas I, III e IV estão corretos.

**7. Mia Couto, em sua frase “O fausto das residências não os torna imunes”, usou a palavra fausto” para simbolizar:**

- A) Luxo.
- B) Segurança.
- C) Bom gosto.
- D) Discrição.

**08. “São demasiado pobres<sup>1</sup> os nossos ricos<sup>2</sup>”. Ao analisar a função gramatical dos termos grifados nesse período, percebe-se que “pobres” e “ricos” estão desempenhando função de:**

- A) 1. Substantivo e 2. Substantivo.
- B) 1. Adjetivo e 2. Substantivo.
- C) 1. Substantivo e 2. Adjetivo.
- D) 1. Adjetivo e 2. Adjetivo.

**09. Em “São como a cerveja tirada à pressão”, ocorreu a crase por se tratar de uma locução adverbial feminina de modo.**

Assim como essa, outras locuções adverbiais femininas também recebem crase. Assinale a alternativa em que a crase ocorreu por se tratar de uma locução adverbial feminina.

- A) Por mais guardas que tenham à porta, os nossos pobres-ricos não afastam...
- B) Os endinheirados dedicam-se apenas à gastar sem medida.
- C) É uma riqueza que faz referência à ausência de sentimentos humanitários.
- D) A população mais carente assiste atônita à derrocada de seus direitos.



# PREFEITURA MUNICIPAL DE JEQUITIBÁ

ESTADO DE MINAS GERAIS

**10. “Aquilo que têm, não detêm”. Os verbos “têm” e “detêm” recebem acento circunflexo porquê?**

- A) São palavras oxítonas terminam em “EM”.
- B) São palavras paroxítonas terminadas em “EM”.
- C) Estão no singular e precisam ser diferenciadas da forma verbal no plural.
- D) Estão no plural e precisam ser diferenciados da forma verbal no singular.

## **TEXTO II**

### **Fábula: O leão apaixonado**

Certa vez um leão se apaixonou pela filha de um lenhador e foi pedir a mão dela em casamento. O lenhador não ficou muito animado com a ideia de ver a filha com um marido perigoso daqueles e disse ao leão que era muita honra, mas muito obrigado, não queria. O leão se irritou; sentindo o perigo, o homem foi esperto e fingiu que concordava:

- É uma honra, meu senhor. Mas que dentes o senhor tem! Que garras compridas! Qualquer moça ia ficar com medo. Se o senhor quer casar com minha filha, vai ter que arrancar os dentes e cortar as garras.

O leão apaixonado foi correndo fazer o que o outro tinha mandado; depois voltou à casa do pai da moça e repetiu seu pedido de casamento. Mas o lenhador, que já não sentia medo daquele leão manso e desarmado, pegou um pau e tocou o leão para fora de sua casa.

Moral: Quem perde a cabeça por amor sempre acaba mal.

### **11. A fábula de Esopo:**

- A) Não trata de nenhum tema específico.
- B) Pretende mostrar a estratificação social.
- C) Se utiliza de animais para denunciar o preconceito.
- D) Trata uma história de amor impossível.



**PREFEITURA MUNICIPAL DE JEQUITIBÁ**  
ESTADO DE MINAS GERAIS

**12. A fábula começa apresentando o leão e logo nos vêm à mente todas as características tradicionalmente atribuídas ao animal. Ao final da narrativa, porém, percebemos que o leão foi:**

- A) Submisso
- B) Corajoso
- C) Cruel
- D) Justo

**13. Aponte a alternativa que contém uma característica pertinente ao texto:**

- A) O tempo e o espaço em que os fatos se dão estão bem definidos.
- B) É uma narrativa curta, por isso não apresenta os elementos básicos da narrativa.
- C) Título insignificante para a trama.
- D) Encerra em si uma linguagem simples, pois dirige-se ao povo.

**14. Considere as três afirmações abaixo acerca do texto lido:**

- I. Apesar de tratar-se de uma narrativa é possível que consideremos algumas passagens argumentativas.
- II. Apresenta uma situação problemática, ou seja, existe um conflito.
- III. É narrado em 3ª pessoa.

**Diante da análise acima, podemos afirmar que:**

- A) I e II estão corretas.
- B) Apenas III está correta.
- C) I, II e III estão corretas.
- D) Apenas I está correta.



## PREFEITURA MUNICIPAL DE JEQUITIBÁ

ESTADO DE MINAS GERAIS

**15. O texto está repleto de adjetivos. Qual o papel fundamental deles na fábula?**

- A) Caracterizar os personagens e a partir disso permear as ações sendo determinantes para o conflito e o desfecho da narrativa.
- B) Construir o próprio sentido do texto, sem adjetivos para sustentar a fábula, ela não se realiza como gênero textual.
- C) Nenhum, pois os adjetivos formam uma classe gramatical meramente alegórica.
- D) Mostrar a constância nas atitudes e pensamentos das personagens, fluindo para um desfecho claro e previsível.





**PREFEITURA MUNICIPAL DE JEQUITIBÁ**  
ESTADO DE MINAS GERAIS

**ENSINO MÉDIO COMPLETO – MATEMÁTICA**

16. O sistema ordenado  $(x, y)$  de equações  $\begin{cases} 3x + 4y = 72 \\ 5x + 2y = 64 \end{cases}$  tem como solução o par

Sendo assim,  $8x - 5y$  é igual a:

- A) 8
- B) 12
- C) 4
- D) 20

17. Uma bola de tênis custa o triplo do preço de uma bola de golf. Essa bola de golf custa o dobro do preço da bola de baseball. Carlos comprou uma bola de cada e pagou pelas três R\$180,00. O preço da bola de tênis é:

- A) R\$60,00
- B) R\$90,00
- C) R\$20,00
- D) R\$120,00

18. Qual é a raiz cúbica de 5832?

- a) 12
- b) 17
- c) 19
- d) 18

19. O gráfico da função  $f(x) = 18 - 35x$  é uma:

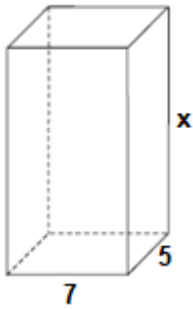
- A) Parábola com concavidade para cima
- B) Uma reta crescente
- C) Parábola com concavidade para baixo
- D) Uma reta decrescente

20. Um tanque de água, com capacidade máxima para  $455 \text{ m}^3$ , tem a forma de um prisma reto de base retangular, cujas medidas internas, em metros, estão indicadas na figura.



# PREFEITURA MUNICIPAL DE JEQUITIBÁ

ESTADO DE MINAS GERAIS



a altura desse reservatório, indicada na figura pela letra x, é igual a

- A) 10 m.
- B) 12 m.
- C) 13 m.
- D) 15 m.

**21. Quantos anagramas é possível fazer com a palavra JEQUITIBA**

A) 9!

B)  $\frac{9!}{2!}$

C)  $\frac{2!}{9!}$

D) Nenhuma das alternativas

**22. Um médico realiza, em cinco dias úteis de uma determinada semana, respectivamente, 15, 20, 25, 27 e 28 atendimentos diários. A média diária de atendimentos é de:**

- A) 23.
- B) 25.
- C) 27.
- D) 28.

**23. Uma moto com velocidade constante de 90 km/h faz determinado percurso em 80 minutos. Qual foi a velocidade da moto sabendo que em outro momento ela fez esse mesmo percurso em 1h 40minutos?**

- (A) 112,5km/h.
- (B) 72km/h.
- (C) 82km/h.
- (D) 80km/h.



**PREFEITURA MUNICIPAL DE JEQUITIBÁ**  
ESTADO DE MINAS GERAIS

**24. Foi aplicado à taxa de juros simples de 30% a.m. um capital de R\$160.000,00 durante o período de 5 meses. Quanto foi o juro obtido nessa aplicação?**

- A) R\$48.000,00.
- B) R\$400.000,00
- C) R\$240.000,00
- D) Nenhuma das alternativas

**25. A sequência numérica (15, 30, 60, 120, 240, 480) é uma Progressão:**

- A) Aritmética de razão 2.
- B) Aritmética de razão 4.
- C) Aritmética de razão 6.
- D) Geométrica de razão 2.

**26. A soma dos ângulos internos de um triângulo é:**

- A) 90°
- B) 360°
- C) 180°
- D) 270°

**27. Quais os valores de x na equação  $x^2 + 7x + 10 = 0$**

- A) 2 e 5
- B) 7 e 10.
- C) -2 e -5.
- D) 2 e 5

**28. Certo produto que custava R\$380,00 teve um aumento de 25%. Com esse aumento o produto passou a custar:**

- A) R\$405,00
- B) R\$457,00
- C) R\$475,00
- D) nenhuma das alternativas

**29. André toma 3 tipos de remédios, toma um de 4 em 4 horas, toma outro de 6 em 6 horas e por fim toma o último de 8 em 8 horas. Às 7 horas da manhã de uma quarta-feira ele tomou os 3 remédios ao mesmo tempo. Quando André irá tomar os remédios juntos novamente?**

- A) Às 7 horas da manhã de uma quinta-feira
- B) Às 7 horas da manhã de um sexta-feira
- C) Às 19h de uma quinta-feira
- D) Às 19h de uma sexta-feira



# PREFEITURA MUNICIPAL DE JEQUITIBÁ

ESTADO DE MINAS GERAIS

**30. Qual é o perímetro de um triângulo retângulo sabendo que seu cateto adjacente mede 16 cm e seu cosseno é igual a 0,8.**

- A) 36.
- B) 48.
- C) 60.
- D) 72.



# PREFEITURA MUNICIPAL DE JEQUITIBÁ

ESTADO DE MINAS GERAIS

## CONHECIMENTOS ESPECÍFICOS – TÉCNICO EM FARMÁCIA

**31. Biossegurança consiste em um conjunto de ações necessárias para minimizar riscos de exposição ou liberação acidental de agentes infecciosos em laboratórios. Pode ser definida como um conjunto de medidas que busca minimizar os riscos inerentes a uma determinada atividade. Esses riscos não são apenas aqueles que afetam o profissional que desempenha uma função, e sim todos aqueles que podem causar danos ao meio ambiente e à saúde das pessoas.**

Dentre as normas de biossegurança qual não é considerada correta:

- a) Lavagem adequada das mãos
- b) Não usar lentes de contato no laboratório, se usar protege-las com óculos de proteção
- c) Pipetar com a boca
- d) Usar exclusivamente sapato fechado

**32. Em uma farmácia de manipulação as matérias-primas devem ser analisadas no seu recebimento, efetuando-se, no mínimo, os testes abaixo relacionados conforme determina a RDC nº 67/2007, respeitando-se as suas características físicas e mantendo-se os resultados por escrito, dentre os testes feitos, somente assinale a alternativa que indique todos os testes descritos na RDC.**

- a) Solubilidade, pH, peso, volume, textura.
- b) pH, peso, volume, textura, livre de insetos.
- c) Ponto de fusão, pH, solubilidade, livre de insetos, textura.
- d) Ponto de fusão, Ph, solubilidade, peso, volume.

**33. Paciente que utiliza o anti-hipertensivo captopril pode desenvolver como efeito colateral:**

- a) Tosse seca
- b) Calafrios
- c) Hipertensão
- d) Queimação intestinal

**34. Qual alternativa indica uma preparação estéril:**

- a) Adesivo transdérmico
- b) Medicamento injetável
- c) Solução oral
- d) Supositórios



# PREFEITURA MUNICIPAL DE JEQUITIBÁ

ESTADO DE MINAS GERAIS

**35. A manipulação de medicamentos, muitas características fazem dos produtos manipulados opções mais seguras, práticas e eficazes para diversos tratamentos, entre elas: produção de acordo com as necessidades do paciente, evita o desperdício, são mais práticos, preços mais baratos. De acordo com a RDC 67, de 8 de outubro de 2007, a pesagem de matéria prima sólida deve ser feita:**

- a) Em uma sala em local aberto
- b) Sala dotada de sistema de exaustão
- c) Próxima a pia e locais úmidos
- d) Na mesma área de dispensação, para fiscalização do paciente

**36. A Portaria 344, de 12 de maio de 1998, aprova o Regulamento Técnico sobre substâncias e medicamentos sujeitos a controle especial. De acordo com essa portaria, o medicamento tramadol está incluído na categoria:**

- a) B1
- b) B
- c) C
- d) A2

**37. A Curva ABC é um método de valorização dos estoques, baseado em quantidades e custos unitários. Consiste em classificar o estoque em categorias denominadas A, B ou C. Assinale qual alternativa corresponde a cada curva.**

Categoria ( ): ficam os produtos intermediários, com retorno e rotatividade médios, ocupando cerca de 30% do estoque e respondendo por até 20% do faturamento.

Categoria ( ): ficam os itens mais importantes, com alto retorno, e fazem parte de uma parcela significativa dos valores investidos em estoque, que devem ser tratados com atenção especial. São de alto giro e ocupam até 20% do estoque, garantindo 70% do faturamento.

Categoria ( ): estão agrupados os itens menos importantes em termos de venda, correspondendo a até 70% do estoque e somente 10% do faturamento. Embora sejam mais numerosos, esses itens possuem um valor inexpressivo em relação ao valor total do estoque.

- a) Nenhuma afirmação corresponde às curvas correspondentes
- b) A, B, C
- c) B, A, C
- d) A, C, B



# PREFEITURA MUNICIPAL DE JEQUITIBÁ

ESTADO DE MINAS GERAIS

**38. Dentre os medicamentos abaixo, classificar qual a função de cada um e assinalar a alternativa correta:**

- |                |                        |
|----------------|------------------------|
| (A) Fluoxetina | (I) Corticóide         |
| (B) Carvedilol | (II) Broncodilatador   |
| (C) Salbutamol | (III) Antidepressivo   |
| (D) Prednisona | (IV) Anti-hipertensivo |
- a) (A- II), (B- I), (C- III), (D - IV)  
b) (A- III), (B- IV), (C- II), (D-I)  
c) (A-I), (B-II), (C-III), (D-IV)  
d) (A-IV), (B-III), (C-II), (D-I)

**39. Os corticoides são usados para reduzir a inflamação ou diminuir a atividade do sistema imunológico do corpo relacionadas a problemas de saúde como artrite reumatóide, asma, doença pulmonar obstrutiva crônica, síndrome do intestino irritável, ou até mesmo para o tratamento de reações alérgicas graves ou reações anafiláticas.**

**Os efeitos colaterais dos corticoides podem ser leves e reversíveis, desaparecendo quando se para de usar o medicamento, ou irreversíveis, dentre os efeitos colaterais dos corticoides, qual NÃO é comum ocorrer?**

- a) Aumento de peso  
b) Problemas de pele como acne  
c) Fragilidade dos ossos  
d) Alergias

**40. Procedimentos que devem ser tomados após exposição a materiais biológicos**

- (I) Lavar bem mucosas, com água após exposição  
(II) Aumentar a área exposta, fazendo cortes nos locais expostos para eliminar o agente causador da exposição  
(III) Lavar bem o corpo com água e sabão após exposição

- a) Todas as alternativas estão corretas  
b) Todas as alternativas estão erradas  
c) Somente a alternativa II está correta  
d) Somente as alternativas I e III estão corretas



**PREFEITURA MUNICIPAL DE JEQUITIBÁ**  
ESTADO DE MINAS GERAIS

**PROCESSO SELETIVO SIMPLIFICADO 01/2021**  
**JEQUITIBÁ – MG**

**PROVA OBJETIVA**

- **PSICÓLOGO**
- **PSICÓLOGO (NASF)**
- **PSICÓLOGO (CRAS)**

**NOME**

**LEGÍVEL:** \_\_\_\_\_

**CPF:** \_\_\_\_\_

**Nº inscrição:** \_\_\_\_\_

**Cargo:** \_\_\_\_\_

**Instruções:**

- **Assinale apenas uma alternativa com caneta esferográfica preta**





# PREFEITURA MUNICIPAL DE JEQUITIBÁ

ESTADO DE MINAS GERAIS

## ENSINO MÉDIO COMPLETO – PORTUGUÊS

### TEXTO I

#### **São Demasiado Pobres os Nossos Ricos**

A maior desgraça de uma nação pobre é que, em vez de produzir riqueza, produz ricos. Mas ricos sem riqueza. Na realidade, melhor seria chamá-los não de ricos, mas de endinheirados. Rico é quem possui meios de produção. Rico é quem gera dinheiro e dá emprego. Endinheirado é quem simplesmente tem dinheiro. Ou que pensa que tem. Porque, na realidade, o dinheiro é que o tem a ele.

A verdade é esta: são demasiado pobres os nossos «ricos». Aquilo que têm, não detêm. Pior: aquilo que exibem como seu, é propriedade de outros. É produto de roubo e de negociatas. Não podem, porém, estes nossos endinheirados usufruir em tranquilidade de tudo quanto roubaram. Vivem na obsessão de poderem ser roubados. Necessitavam de forças policiais à altura. Mas forças policiais à altura acabariam por lançá-los a eles próprios na cadeia. Necessitavam de uma ordem social em que houvesse poucas razões para a criminalidade. Mas se eles enriqueceram foi graças a essa mesma desordem.

O maior sonho dos nossos novos-ricos é, afinal, muito pequenito: um carro de luxo, umas efêmeras cintilâncias. Mas a luxuosa viatura não pode sonhar muito, sacudida pelos buracos das avenidas. O Mercedes e o BMW não podem fazer inteiro uso dos seus brilhos, ocupados que estão em se esquivar entre chapas, muito convexos e estradas muito côncavas. A existência de estradas boas dependeria de outro tipo de riqueza. Uma riqueza que servisse a cidade. E a riqueza dos nossos novos-ricos nasceu de um movimento contrário: do empobrecimento da cidade e da sociedade.

As casas de luxo dos nossos falsos ricos são menos para serem habitadas do que para serem vistas. Fizeram-se para os olhos de quem passa. Mas ao exibirem-se, assim, cheias de folhos e chibantices, acabam atraindo alheias cobiças. Por mais guardas que tenham à porta, os nossos pobres-ricos não afastam o receio das invejas e dos feitiços que essas invejas convocam. O fausto das residências não os torna imunes. Pobres dos nossos riquinhos!

São como a cerveja tirada à pressão. São feitos num instante, mas a maior parte é só espuma. O que resta de verdadeiro é mais o copo que o conteúdo. Podiam criar gado ou vegetais. Mas não. Em vez disso, os nossos endinheirados feitos sob pressão criam amantes. Mas as amantes (e/ou os amantes) têm um grave inconveniente: necessitam de ser sustentadas com dispendiosos mimos. O maior inconveniente é ainda a ausência de garantia do produto. A amante de um pode ser, amanhã, amante de outro. O coração do criador de amantes não tem sossego: quem traiu sabe que pode ser traído.

Mia Couto, in 'Pensatempos'

<http://www.citador.pt/textos/sao-demasiado-pobres-os-nossosricos-mia-couto..>



# PREFEITURA MUNICIPAL DE JEQUITIBÁ

ESTADO DE MINAS GERAIS

**01. De acordo com Mia Couto, os desejos de consumo dos endinheirados são vazios e acabam frustrados porque:**

- A) São desejos passageiros que logo perdem o sentido de ser.
- B) Não são frutos de um planejamento e de decisões cautelosas e prudentes.
- C) Vão de encontro à realidade desigual e à falta de estrutura do país.
- D) Apesar de ricos não sabem aplicar o dinheiro e logo perdem o poder aquisitivo.

**02. Por que, na opinião do autor Mia Couto, “são demasiado pobres os nossos «ricos»?**

- A) Porque não sabem utilizar o dinheiro que ganham com inteligência.
- B) Porque não almejam a riqueza do país, mas apenas a aquisição, a qualquer custo, de dinheiro fácil.
- C) Porque não aceitam que pessoas pobres tenham a oportunidade de também vencerem na vida.
- D) Porque investem muito em segurança e acabam ficando enclausurados em suas residências.

**03. Os verbos “vivem” e “torna” presentes nos períodos abaixo são classificados, de acordo com a regência verbal que exercem nessas orações, como sendo:**

- I. “Vivem na obsessão de poderem ser roubados”.
  - II. “O fausto das residências não os torna imunes”.
- A) I. Intransitivo; II. Transitivo direto.
  - B) I. Transitivo indireto; II. Transitivo direto.
  - C) I. Intransitivo; II. Transitivo direto e indireto.
  - D) I. Transitivo indireto; II. Transitivo direto e indireto.



## PREFEITURA MUNICIPAL DE JEQUITIBÁ

ESTADO DE MINAS GERAIS

**04. Em “São demasiado pobres os nossos ricos”, o termo destacado pode ser classificado gramaticalmente como sendo:**

- A) Um substantivo.
- B) Um adjetivo.
- C) Um advérbio.
- D) Uma conjunção.

**05. Assinale a alternativa que preenche corretamente as lacunas abaixo:**

Ao analisar a coesão entre as orações “O coração do criador de amantes não tem sossego: quem traiu sabe que pode ser traído”, pode-se perceber que, no lugar dos dois pontos, poderia ter sido usada a conjunção..... Para manter a ideia de.....

- A) por isso – conclusão.
- B) pois – conclusão.
- C) mas – contradição.
- D) pois – explicação.

**06. Ao observar a concordância dos verbos destacados em “Fizeram-se para os olhos de quem passa. Mas ao exibirem-se, assim, cheias de folhos e chibantices, acabam atraindo alheias cobiças”, pode-se afirmar que:**

- I. “Fizeram” está no plural concordando com “olhos”.
- II. Ambos estão concordando com “casas de luxo”.
- III. “Exibirem” está no plural concordando com “folhos e chibantices”.
- IV. Cada um está realizando a concordância com o seu respectivo sujeito.
- V. Os dois estão concordando com um sujeito mencionado na oração anterior.
- VI. Os dois verbos poderiam estar na 3ª pessoa do singular concordando com o sujeito mais próximo.



# PREFEITURA MUNICIPAL DE JEQUITIBÁ

ESTADO DE MINAS GERAIS

**Assinale a alternativa correta:**

- A) Apenas I, III e VI estão corretos.
- B) Apenas II e V estão corretos.
- C) Apenas II, V e VI estão corretos.
- D) Apenas I, III e IV estão corretos.

**7. Mia Couto, em sua frase “O fausto das residências não os torna imunes”, usou a palavra fausto” para simbolizar:**

- A) Luxo.
- B) Segurança.
- C) Bom gosto.
- D) Discrição.

**08. “São demasiado pobres<sup>1</sup> os nossos ricos<sup>2</sup>”. Ao analisar a função gramatical dos termos grifados nesse período, percebe-se que “pobres” e “ricos” estão desempenhando função de:**

- A) 1. Substantivo e 2. Substantivo.
- B) 1. Adjetivo e 2. Substantivo.
- C) 1. Substantivo e 2. Adjetivo.
- D) 1. Adjetivo e 2. Adjetivo.

**09. Em “São como a cerveja tirada à pressão”, ocorreu a crase por se tratar de uma locução adverbial feminina de modo.**

Assim como essa, outras locuções adverbiais femininas também recebem crase. Assinale a alternativa em que a crase ocorreu por se tratar de uma locução adverbial feminina.

- A) Por mais guardas que tenham à porta, os nossos pobres-ricos não afastam...
- B) Os endinheirados dedicam-se apenas à gastar sem medida.
- C) É uma riqueza que faz referência à ausência de sentimentos humanitários.
- D) A população mais carente assiste atônita à derrocada de seus direitos.



# PREFEITURA MUNICIPAL DE JEQUITIBÁ

ESTADO DE MINAS GERAIS

**10. “Aquilo que têm, não detêm”. Os verbos “têm” e “detêm” recebem acento circunflexo porquê?**

- A) São palavras oxítonas terminam em “EM”.
- B) São palavras paroxítonas terminadas em “EM”.
- C) Estão no singular e precisam ser diferenciadas da forma verbal no plural.
- D) Estão no plural e precisam ser diferenciados da forma verbal no singular.

## **TEXTO II**

### **Fábula: O leão apaixonado**

Certa vez um leão se apaixonou pela filha de um lenhador e foi pedir a mão dela em casamento. O lenhador não ficou muito animado com a ideia de ver a filha com um marido perigoso daqueles e disse ao leão que era muita honra, mas muito obrigado, não queria. O leão se irritou; sentindo o perigo, o homem foi esperto e fingiu que concordava:

- É uma honra, meu senhor. Mas que dentes o senhor tem! Que garras compridas! Qualquer moça ia ficar com medo. Se o senhor quer casar com minha filha, vai ter que arrancar os dentes e cortar as garras.

O leão apaixonado foi correndo fazer o que o outro tinha mandado; depois voltou à casa do pai da moça e repetiu seu pedido de casamento. Mas o lenhador, que já não sentia medo daquele leão manso e desarmado, pegou um pau e tocou o leão para fora de sua casa.

Moral: Quem perde a cabeça por amor sempre acaba mal.

### **11. A fábula de Esopo:**

- A) Não trata de nenhum tema específico.
- B) Pretende mostrar a estratificação social.
- C) Se utiliza de animais para denunciar o preconceito.
- D) Trata uma história de amor impossível.



## PREFEITURA MUNICIPAL DE JEQUITIBÁ

ESTADO DE MINAS GERAIS

**12. A fábula começa apresentando o leão e logo nos vêm à mente todas as características tradicionalmente atribuídas ao animal. Ao final da narrativa, porém, percebemos que o leão foi:**

- A) Submisso
- B) Corajoso
- C) Cruel
- D) Justo

**13. Aponte a alternativa que contém uma característica pertinente ao texto:**

- A) O tempo e o espaço em que os fatos se dão estão bem definidos.
- B) É uma narrativa curta, por isso não apresenta os elementos básicos da narrativa.
- C) Título insignificante para a trama.
- D) Encerra em si uma linguagem simples, pois dirige-se ao povo.

**14. Considere as três afirmações abaixo acerca do texto lido:**

- I. Apesar de tratar-se de uma narrativa é possível que consideremos algumas passagens argumentativas.
- II. Apresenta uma situação problemática, ou seja, existe um conflito.
- III. É narrado em 3ª pessoa.

**Diante da análise acima, podemos afirmar que:**

- A) I e II estão corretas.
- B) Apenas III está correta.
- C) I, II e III estão corretas.
- D) Apenas I está correta.



## PREFEITURA MUNICIPAL DE JEQUITIBÁ

ESTADO DE MINAS GERAIS

**15. O texto está repleto de adjetivos. Qual o papel fundamental deles na fábula?**

- A) Caracterizar os personagens e a partir disso permear as ações sendo determinantes para o conflito e o desfecho da narrativa.
- B) Construir o próprio sentido do texto, sem adjetivos para sustentar a fábula, ela não se realiza como gênero textual.
- C) Nenhum, pois os adjetivos formam uma classe gramatical meramente alegórica.
- D) Mostrar a constância nas atitudes e pensamentos das personagens, fluindo para um desfecho claro e previsível.



**PREFEITURA MUNICIPAL DE JEQUITIBÁ**  
ESTADO DE MINAS GERAIS

**ENSINO MÉDIO COMPLETO – MATEMÁTICA**

16. O sistema ordenado  $(x, y)$   $\begin{cases} 3x + 4y = 72 \\ 5x + 2y = 64 \end{cases}$  de equações tem como solução o par

Sendo assim,  $8x - 5y$  é igual a:

- A) 8
- B) 12
- C) 4
- D) 20

17. Uma bola de tênis custa o triplo do preço de uma bola de golf. Essa bola de golf custa o dobro do preço da bola de baseball. Carlos comprou uma bola de cada e pagou pelas três R\$180,00. O preço da bola de tênis é:

- A) R\$60,00
- B) R\$90,00
- C) R\$20,00
- D) R\$120,00

18. Qual é a raiz cúbica de 5832?

- a) 12
- b) 17
- c) 19
- d) 18

19. O gráfico da função  $f(x) = 18 - 35x$  é uma:

- A) Parábola com concavidade para cima
- B) Uma reta crescente
- C) Parábola com concavidade para baixo
- D) Uma reta decrescente

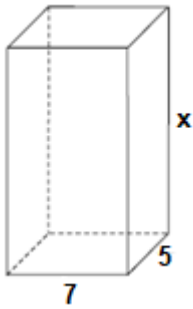
20. Um tanque de água, com capacidade máxima para  $455 \text{ m}^3$ , tem a forma de um prisma reto de base retangular, cujas medidas internas, em metros, estão indicadas na figura.





# PREFEITURA MUNICIPAL DE JEQUITIBÁ

ESTADO DE MINAS GERAIS



a altura desse reservatório, indicada na figura pela letra x, é igual a

- A) 10 m.
- B) 12 m.
- C) 13 m.
- D) 15 m.

**21. Quantos anagramas é possível fazer com a palavra JEQUITIBA**

A) 9!

B)  $\frac{9!}{2!}$

C)  $\frac{2!}{9!}$

D) Nenhuma das alternativas

**22. Um médico realiza, em cinco dias úteis de uma determinada semana, respectivamente, 15, 20, 25, 27 e 28 atendimentos diários. A média diária de atendimentos é de:**

- A) 23.
- B) 25.
- C) 27.
- D) 28.

**23. Uma moto com velocidade constante de 90 km/h faz determinado percurso em 80 minutos. Qual foi a velocidade da moto sabendo que em outro momento ela fez esse mesmo percurso em 1h 40minutos?**

- (A) 112,5km/h.
- (B) 72km/h.
- (C) 82km/h.
- (D) 80km/h.



**PREFEITURA MUNICIPAL DE JEQUITIBÁ**  
ESTADO DE MINAS GERAIS

**24. Foi aplicado à taxa de juros simples de 30% a.m. um capital de R\$160.000,00 durante o período de 5 meses. Quanto foi o juro obtido nessa aplicação?**

- A) R\$48.000,00.
- B) R\$400.000,00
- C) R\$240.000,00
- D) Nenhuma das alternativas

**25. A sequência numérica (15, 30, 60, 120, 240, 480) é uma Progressão:**

- A) Aritmética de razão 2.
- B) Aritmética de razão 4.
- C) Aritmética de razão 6.
- D) Geométrica de razão 2.

**26. A soma dos ângulos internos de um triângulo é:**

- A) 90°
- B) 360°
- C) 180°
- D) 270°

**27. Quais os valores de x na equação  $x^2 + 7x + 10 = 0$**

- A) 2 e 5
- B) 7 e 10.
- C) -2 e -5.
- D) 2 e 5

**28. Certo produto que custava R\$380,00 teve um aumento de 25%. Com esse aumento o produto passou a custar:**

- A) R\$405,00
- B) R\$457,00
- C) R\$475,00
- D) nenhuma das alternativas

**29. André toma 3 tipos de remédios, toma um de 4 em 4 horas, toma outro de 6 em 6 horas e por fim toma o último de 8 em 8 horas. Às 7 horas da manhã de uma quarta-feira ele tomou os 3 remédios ao mesmo tempo. Quando André irá tomar os remédios juntos novamente?**

- A) Às 7 horas da manhã de uma quinta-feira
- B) Às 7 horas da manhã de um sexta-feira
- C) Às 19h de uma quinta-feira
- D) Às 19h de uma sexta-feira



# PREFEITURA MUNICIPAL DE JEQUITIBÁ

ESTADO DE MINAS GERAIS

**30. Qual é o perímetro de um triângulo retângulo sabendo que seu cateto adjacente mede 16 cm e seu cosseno é igual a 0,8.**

- A) 36.
- B) 48.
- C) 60.
- D) 72.



# PREFEITURA MUNICIPAL DE JEQUITIBÁ

ESTADO DE MINAS GERAIS

## **CONHECIMENTOS ESPECÍFICOS – PSICÓLOGO, PSICÓLOGO (NASF), PSICÓLOGO (CRAS)**

**31. É consenso, entre os autores de orientação psicanalítica, a importância das relações mãe-bebê no desenvolvimento da criança. Para René Spitz (2013), no primeiro ano de vida:**

- (A) Estabelece-se o conflito edípico, o qual a criança poderá superar com o advento do segundo organizador, a angústia do oitavo mês.
- (B) Bebê e mãe criam uma relação simétrica da qual a criança emergirá como sujeito após o estabelecimento do terceiro organizador, a palavra “não”.
- (C) A díade mãe-filho é determinada pelos aspectos estruturais próprios do elemento mais forte de sua composição, a mãe.
- (D) A criança e seu meio ambiente formam um “sistema fechado” que consiste de apenas dois componentes conhecidos: a mãe e o filho.

**32. Para René Spitz (2013), as relações objetais se estabelecem:**

Durante a gestação, quando a mãe se conscientiza da presença do bebê em seu corpo e reage afetivamente a essa experiência.

- (A) Por ocasião da resposta-sorriso, indicativa de que o bebê reconhece o rosto da mãe e reage a ele sorrindo.
- (B) Por volta do 6º mês, quando a mãe é percebida como um objeto inteiro, independentemente das necessidades insatisfeitas do bebê.
- (C) Por ocasião do nascimento da criança, uma vez que o bebê nasce programado para estabelecê-las ao primeiro contato físico com a mãe.
- (D) Com a primeira mamada, na medida em que o seio materno passa a satisfazer os desejos e as necessidades do bebê.

**33. A mãe de uma criança de 70 dias esteve internada em um hospital por quatro meses. Segundo René Spitz (2013), o efeito de tal privação sobre a criança**

- (A) levará a um quadro depressivo persistente, equivalente à depressão anaclítica observada nos adultos.
- (B) afetará apenas o desenvolvimento psicológico da criança, mas não o desenvolvimento motor.
- (C) poderá ser revertido com o retorno da mãe, mas não é possível assegurar que não deixe sequelas.
- (D) apresentará um curso previsível, do gemido de tristeza a crises convulsivas que equivalem a expressões de total desamparo.



## PREFEITURA MUNICIPAL DE JEQUITIBÁ

ESTADO DE MINAS GERAIS

**34. Ao saber que uma criança de 7 anos não tem frequentado a escola ou recebido qualquer apoio educacional por parte dos pais, um cidadão decide informar a um órgão que tenha como finalidade específica zelar pelos direitos da criança e do adolescente.**

**Nesse caso, o encaminhamento deve ser feito:**

- (A) Ao Conselho Tutelar.
- (B) À Vara da Infância e da Adolescência.
- (C) À Vara da Família.
- (D) Ao Ministério Público.

**35. A obra *Processo Diagnóstico e as Técnicas Projetivas* (Ocampo e colaboradores, 2009) recomenda iniciar o processo de psicodiagnóstico por uma entrevista**

- (A) Inicialmente diretiva, para apresentação mútua e de enquadramento, para então passar para a entrevista livre.
- (B) Dirigida, nos moldes da anamnese, de modo a coletar os dados mais relevantes do histórico e da demanda.
- (C) Totalmente livre, que permita, ao sujeito, revelar sua visão da situação atual e expressar sua ansiedade diante da situação.
- (D) Informal, deixando que o sujeito se sinta à vontade para escolher sobre o que falar, sem se sentir ameaçado.

**36. Relacione as alterações psíquicas com suas respectivas expressões.**

- 1) Abulia
- 2) Elação
- 3) Fobia
- 4) Bulimia
- 5) Hiperfagia
- 6) Sordice
- 7) Sentimento de beatitude

- Medo não justificado racionalmente
- Estado de euforia acentuada
- Alteração da volição
- Aumento do apetite
- Necessidade incontrolável de comer
- Sentimento de graça
- Tendência, atração à sujeira

A sequência correta é:

- (A) 1, 2, 4, 3, 5, 7, 6.
- (B) 3, 2, 1, 4, 5, 7, 6.
- (C) 3, 1, 2, 5, 4, 6, 7.
- (D) 7, 1, 3, 2, 5, 6, 4.



## PREFEITURA MUNICIPAL DE JEQUITIBÁ

ESTADO DE MINAS GERAIS

### 37. Dentre as alternativas abaixo são deveres do psicólogo, exceto:

- (A) Assumir responsabilidades profissionais somente por atividades para as quais esteja capacitado pessoal, teórica e tecnicamente.
- (B) Informar, a quem de direito, os resultados decorrentes da prestação de serviços psicológicos, transmitindo somente o que for necessário para a tomada de decisões que afetem o usuário ou beneficiário.
- (C) Induzir convicções políticas, filosóficas, morais, ideológicas, religiosas, de orientação sexual ou a qualquer tipo de preconceito, quando do exercício de suas funções profissionais.
- (D) Sugerir serviços de outros psicólogos, sempre que, por motivos justificáveis, não puderem ser continuados pelo profissional que os assumiu inicialmente, fornecendo ao seu substituto as informações necessárias à continuidade do trabalho

### 38. De acordo com o artigo 2 do código de Ética Profissional do Psicólogo, o qual estabelece o que é vedado ao Psicólogo, é incorreto afirmar:

- (A) Praticar ou ser conivente com quaisquer atos que caracterizem negligência, discriminação, exploração, violência, crueldade ou Opressão.
- (B) Induzir a convicções políticas, filosóficas, morais, ideológicas, religiosas, de orientação sexual ou a qualquer tipo de preconceito, quando do exercício de suas funções profissionais.
- (C) Utilizar ou favorecer o uso de conhecimento e a utilização de práticas psicológicas como instrumentos de castigo, tortura ou qualquer forma de violência.
- (D) Acumpliciar-se com pessoas ou organizações que exerçam ou favoreçam o exercício legal da profissão de Psicólogo ou de qualquer outra atividade profissional.

### 39. Informe se é verdadeiro (V) ou falso (F) para o que se afirma e assinale a alternativa com a sequência correta para o que se aplica sobre a atuação do psicólogo na Assistência Social.

( ) A Psicologia pode oferecer, para a elaboração e execução de políticas públicas de Assistência Social – preocupadas em promover a emancipação social das famílias e fortalecer a cidadania junto a cada um de seus membros –, contribuições no sentido de não considerar e não atuar sobre a dimensão subjetiva dos indivíduos, favorecendo o desenvolvimento da autonomia e cidadania.

( ) Tem como finalidade básica o fortalecimento dos usuários como sujeitos de direitos e o fortalecimento das políticas públicas.

( ) As práticas psicológicas devem categorizar, patologizar e objetificar as pessoas atendidas, e buscar compreender e intervir sobre os processos e recursos psicossociais, estudando as particularidades e circunstâncias em que ocorrem.

( ) Uma Psicologia comprometida com a transformação social toma como foco as necessidades, potencialidades, objetivos e experiências dos oprimidos.

Alternativas



## PREFEITURA MUNICIPAL DE JEQUITIBÁ

ESTADO DE MINAS GERAIS

- (A) V – V – F – V.
- (B) V – F – V – F.
- (C) F – V – F – V
- (D) F – V – V – F.

**40. O CRAS é responsável pela oferta de serviços continuados de proteção social básica e de Assistência Social às famílias, grupos e indivíduos em situação de vulnerabilidade social. De acordo com as atribuições do psicólogo no CRAS, correlacione as colunas e assinale a alternativa que apresenta a ordem correta.**

1. Serviços.
2. Benefícios.
3. Programas e projetos.

( ) Transferência de renda (bolsa-família e outra); prestação continuada; assistência em espécie ou material; outros.

( ) Capacitação e promoção da inserção produtiva; promoção da inclusão produtiva para beneficiários do programa Bolsa Família - PBF e do Benefício de Prestação Continuada; projetos e programas de enfrentamento à pobreza; projetos e programas de enfrentamento à fome; grupos de produção e economia solidária; geração de trabalho e renda.

( ) Socioeducativo geracionais, intergeracionais e com famílias; sócio comunitário; reabilitação na comunidade; outros.

Alternativas

- (A) 3 – 2 – 1
- (B) 1 – 3 – 2.
- (C) 2 – 1 – 3.
- (D) 2 – 3 – 1.



**PREFEITURA MUNICIPAL DE JEQUITIBÁ**  
ESTADO DE MINAS GERAIS

**PROCESSO SELETIVO SIMPLIFICADO 01/2021**  
**JEQUITIBÁ – MG**

**PROVA OBJETIVA**

**TÉCNICO EM EDIFICAÇÕES**

**NOME**

**LEGÍVEL:** \_\_\_\_\_

**CPF:** \_\_\_\_\_

**Nº inscrição:** \_\_\_\_\_

**Cargo:** \_\_\_\_\_

- Assinale apenas uma alternativa com caneta esferográfica preta





# PREFEITURA MUNICIPAL DE JEQUITIBÁ

ESTADO DE MINAS GERAIS

## ENSINO MÉDIO COMPLETO – PORTUGUÊS

### TEXTO I

#### **São Demasiado Pobres os Nossos Ricos**

A maior desgraça de uma nação pobre é que, em vez de produzir riqueza, produz ricos. Mas ricos sem riqueza. Na realidade, melhor seria chamá-los não de ricos, mas de endinheirados. Rico é quem possui meios de produção. Rico é quem gera dinheiro e dá emprego. Endinheirado é quem simplesmente tem dinheiro. Ou que pensa que tem. Porque, na realidade, o dinheiro é que o tem a ele.

A verdade é esta: são demasiado pobres os nossos «ricos». Aquilo que têm, não detêm. Pior: aquilo que exibem como seu, é propriedade de outros. É produto de roubo e de negociatas. Não podem, porém, estes nossos endinheirados usufruir em tranquilidade de tudo quanto roubaram. Vivem na obsessão de poderem ser roubados. Necessitavam de forças policiais à altura. Mas forças policiais à altura acabariam por lançá-los a eles próprios na cadeia. Necessitavam de uma ordem social em que houvesse poucas razões para a criminalidade. Mas se eles enriqueceram foi graças a essa mesma desordem.

O maior sonho dos nossos novos-ricos é, afinal, muito pequenito: um carro de luxo, umas efêmeras cintilâncias. Mas a luxuosa viatura não pode sonhar muito, sacudida pelos buracos das avenidas. O Mercedes e o BMW não podem fazer inteiro uso dos seus brilhos, ocupados que estão em se esquivar entre chapas, muito convexos e estradas muito côncavas. A existência de estradas boas dependeria de outro tipo de riqueza. Uma riqueza que servisse a cidade. E a riqueza dos nossos novos-ricos nasceu de um movimento contrário: do empobrecimento da cidade e da sociedade.

As casas de luxo dos nossos falsos ricos são menos para serem habitadas do que para serem vistas. Fizeram-se para os olhos de quem passa. Mas ao exibirem-se, assim, cheias de folhos e chibantices, acabam atraindo alheias cobiças. Por mais guardas que tenham à porta, os nossos pobres-ricos não afastam o receio das invejas e dos feitiços que essas invejas convocam. O fausto das residências não os torna imunes. Pobres dos nossos riquinhos!

São como a cerveja tirada à pressão. São feitos num instante, mas a maior parte é só espuma. O que resta de verdadeiro é mais o copo que o conteúdo. Podiam criar gado ou vegetais. Mas não. Em vez disso, os nossos endinheirados feitos sob pressão criam amantes. Mas as amantes (e/ou os amantes) têm um grave inconveniente: necessitam de ser sustentadas com dispendiosos mimos. O maior inconveniente é ainda a ausência de garantia do produto. A amante de um pode ser, amanhã, amante de outro. O coração do criador de amantes não tem sossego: quem traiu sabe que pode ser traído.

Mia Couto, in 'Pensatempos'

<http://www.citador.pt/textos/sao-demasiado-pobres-os-nossosricos-mia-couto..>



# PREFEITURA MUNICIPAL DE JEQUITIBÁ

ESTADO DE MINAS GERAIS

**01. De acordo com Mia Couto, os desejos de consumo dos endinheirados são vazios e acabam frustrados porque:**

- A) São desejos passageiros que logo perdem o sentido de ser.
- B) Não são frutos de um planejamento e de decisões cautelosas e prudentes.
- C) Vão de encontro à realidade desigual e à falta de estrutura do país.
- D) Apesar de ricos não sabem aplicar o dinheiro e logo perdem o poder aquisitivo.

**02. Por que, na opinião do autor Mia Couto, “são demasiado pobres os nossos «ricos»?**

- A) Porque não sabem utilizar o dinheiro que ganham com inteligência.
- B) Porque não almejam a riqueza do país, mas apenas a aquisição, a qualquer custo, de dinheiro fácil.
- C) Porque não aceitam que pessoas pobres tenham a oportunidade de também vencerem na vida.
- D) Porque investem muito em segurança e acabam ficando enclausurados em suas residências.

**03. Os verbos “vivem” e “torna” presentes nos períodos abaixo são classificados, de acordo com a regência verbal que exercem nessas orações, como sendo:**

- I. “Vivem na obsessão de poderem ser roubados”.
  - II. “O fausto das residências não os torna imunes”.
- A) I. Intransitivo; II. Transitivo direto.
  - B) I. Transitivo indireto; II. Transitivo direto.
  - C) I. Intransitivo; II. Transitivo direto e indireto.
  - D) I. Transitivo indireto; II. Transitivo direto e indireto.



## PREFEITURA MUNICIPAL DE JEQUITIBÁ

ESTADO DE MINAS GERAIS

**04. Em “São demasiado pobres os nossos ricos”, o termo destacado pode ser classificado gramaticalmente como sendo:**

- A) Um substantivo.
- B) Um adjetivo.
- C) Um advérbio.
- D) Uma conjunção.

**05. Assinale a alternativa que preenche corretamente as lacunas abaixo:**

Ao analisar a coesão entre as orações “O coração do criador de amantes não tem sossego: quem traiu sabe que pode ser traído”, pode-se perceber que, no lugar dos dois pontos, poderia ter sido usada a conjunção..... Para manter a ideia de.....

- A) por isso – conclusão.
- B) pois – conclusão.
- C) mas – contradição.
- D) pois – explicação.

**06. Ao observar a concordância dos verbos destacados em “Fizeram-se para os olhos de quem passa. Mas ao exibirem-se, assim, cheias de folhos e chibantices, acabam atraindo alheias cobiças”, pode-se afirmar que:**

- I. “Fizeram” está no plural concordando com “olhos”.
- II. Ambos estão concordando com “casas de luxo”.
- III. “Exibirem” está no plural concordando com “folhos e chibantices”.
- IV. Cada um está realizando a concordância com o seu respectivo sujeito.
- V. Os dois estão concordando com um sujeito mencionado na oração anterior.
- VI. Os dois verbos poderiam estar na 3ª pessoa do singular concordando com o sujeito mais próximo.



# PREFEITURA MUNICIPAL DE JEQUITIBÁ

ESTADO DE MINAS GERAIS

**Assinale a alternativa correta:**

- A) Apenas I, III e VI estão corretos.
- B) Apenas II e V estão corretos.
- C) Apenas II, V e VI estão corretos.
- D) Apenas I, III e IV estão corretos.

**7. Mia Couto, em sua frase “O fausto das residências não os torna imunes”, usou a palavra fausto” para simbolizar:**

- A) Luxo.
- B) Segurança.
- C) Bom gosto.
- D) Discrição.

**08. “São demasiado pobres<sup>1</sup> os nossos ricos<sup>2</sup>”. Ao analisar a função gramatical dos termos grifados nesse período, percebe-se que “pobres” e “ricos” estão desempenhando função de:**

- A) 1. Substantivo e 2. Substantivo.
- B) 1. Adjetivo e 2. Substantivo.
- C) 1. Substantivo e 2. Adjetivo.
- D) 1. Adjetivo e 2. Adjetivo.

**09. Em “São como a cerveja tirada à pressão”, ocorreu a crase por se tratar de uma locução adverbial feminina de modo.**

Assim como essa, outras locuções adverbiais femininas também recebem crase. Assinale a alternativa em que a crase ocorreu por se tratar de uma locução adverbial feminina.

- A) Por mais guardas que tenham à porta, os nossos pobres-ricos não afastam...
- B) Os endinheirados dedicam-se apenas à gastar sem medida.
- C) É uma riqueza que faz referência à ausência de sentimentos humanitários.
- D) A população mais carente assiste atônita à derrocada de seus direitos.



# PREFEITURA MUNICIPAL DE JEQUITIBÁ

ESTADO DE MINAS GERAIS

**10. “Aquilo que têm, não detêm”. Os verbos “têm” e “detêm” recebem acento circunflexo porquê?**

- A) São palavras oxítonas terminam em “EM”.
- B) São palavras paroxítonas terminadas em “EM”.
- C) Estão no singular e precisam ser diferenciadas da forma verbal no plural.
- D) Estão no plural e precisam ser diferenciados da forma verbal no singular.

## TEXTO II

### Fábula: O leão apaixonado

Certa vez um leão se apaixonou pela filha de um lenhador e foi pedir a mão dela em casamento. O lenhador não ficou muito animado com a ideia de ver a filha com um marido perigoso daqueles e disse ao leão que era muita honra, mas muito obrigado, não queria. O leão se irritou; sentindo o perigo, o homem foi esperto e fingiu que concordava:

- É uma honra, meu senhor. Mas que dentes o senhor tem! Que garras compridas! Qualquer moça ia ficar com medo. Se o senhor quer casar com minha filha, vai ter que arrancar os dentes e cortar as garras.

O leão apaixonado foi correndo fazer o que o outro tinha mandado; depois voltou à casa do pai da moça e repetiu seu pedido de casamento. Mas o lenhador, que já não sentia medo daquele leão manso e desarmado, pegou um pau e tocou o leão para fora de sua casa.

Moral: Quem perde a cabeça por amor sempre acaba mal.

### 11. A fábula de Esopo:

- A) Não trata de nenhum tema específico.
- B) Pretende mostrar a estratificação social.
- C) Se utiliza de animais para denunciar o preconceito.
- D) Trata uma história de amor impossível.



## PREFEITURA MUNICIPAL DE JEQUITIBÁ

ESTADO DE MINAS GERAIS

**12. A fábula começa apresentando o leão e logo nos vêm à mente todas as características tradicionalmente atribuídas ao animal. Ao final da narrativa, porém, percebemos que o leão foi:**

- A) Submisso
- B) Corajoso
- C) Cruel
- D) Justo

**13. Aponte a alternativa que contém uma característica pertinente ao texto:**

- A) O tempo e o espaço em que os fatos se dão estão bem definidos.
- B) É uma narrativa curta, por isso não apresenta os elementos básicos da narrativa.
- C) Título insignificante para a trama.
- D) Encerra em si uma linguagem simples, pois dirige-se ao povo.

**14. Considere as três afirmações abaixo acerca do texto lido:**

- I. Apesar de tratar-se de uma narrativa é possível que consideremos algumas passagens argumentativas.
- II. Apresenta uma situação problemática, ou seja, existe um conflito.
- III. É narrado em 3ª pessoa.

**Diante da análise acima, podemos afirmar que:**

- A) I e II estão corretas.
- B) Apenas III está correta.
- C) I, II e III estão corretas.
- D) Apenas I está correta.



## PREFEITURA MUNICIPAL DE JEQUITIBÁ

ESTADO DE MINAS GERAIS

**15. O texto está repleto de adjetivos. Qual o papel fundamental deles na fábula?**

- A) Caracterizar os personagens e a partir disso permear as ações sendo determinantes para o conflito e o desfecho da narrativa.
- B) Construir o próprio sentido do texto, sem adjetivos para sustentar a fábula, ela não se realiza como gênero textual.
- C) Nenhum, pois os adjetivos formam uma classe gramatical meramente alegórica.
- D) Mostrar a constância nas atitudes e pensamentos das personagens, fluindo para um desfecho claro e previsível.



**PREFEITURA MUNICIPAL DE JEQUITIBÁ**  
ESTADO DE MINAS GERAIS

**ENSINO MÉDIO COMPLETO – MATEMÁTICA**

16. O sistema ordenado  $(x, y)$  de equações  $\begin{cases} 3x + 4y = 72 \\ 5x + 2y = 64 \end{cases}$  tem como solução o par

Sendo assim,  $8x - 5y$  é igual a:

- A) 8
- B) 12
- C) 4
- D) 20

17. Uma bola de tênis custa o triplo do preço de uma bola de golf. Essa bola de golf custa o dobro do preço da bola de baseball. Carlos comprou uma bola de cada e pagou pelas três R\$180,00. O preço da bola de tênis é:

- A) R\$60,00
- B) R\$90,00
- C) R\$20,00
- D) R\$120,00

18. Qual é a raiz cúbica de 5832?

- a) 12
- b) 17
- c) 19
- d) 18

19. O gráfico da função  $f(x) = 18 - 35x$  é uma:

- A) Parábola com concavidade para cima
- B) Uma reta crescente
- C) Parábola com concavidade para baixo
- D) Uma reta decrescente

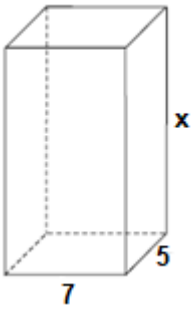
20. Um tanque de água, com capacidade máxima para  $455 \text{ m}^3$ , tem a forma de um prisma reto de base retangular, cujas medidas internas, em metros, estão indicadas na figura.





# PREFEITURA MUNICIPAL DE JEQUITIBÁ

ESTADO DE MINAS GERAIS



a altura desse reservatório, indicada na figura pela letra x, é igual a

- A) 10 m.
- B) 12 m.
- C) 13 m.
- D) 15 m.

**21. Quantos anagramas é possível fazer com a palavra JEQUITIBA**

A) 9!

B)  $\frac{9!}{2!}$

C)  $\frac{2!}{9!}$

D) Nenhuma das alternativas

**22. Um médico realiza, em cinco dias úteis de uma determinada semana, respectivamente, 15, 20, 25, 27 e 28 atendimentos diários. A média diária de atendimentos é de:**

- A) 23.
- B) 25.
- C) 27.
- D) 28.

**23. Uma moto com velocidade constante de 90 km/h faz determinado percurso em 80 minutos. Qual foi a velocidade da moto sabendo que em outro momento ela fez esse mesmo percurso em 1h 40minutos?**

- (A) 112,5km/h.
- (B) 72km/h.
- (C) 82km/h.
- (D) 80km/h.



**PREFEITURA MUNICIPAL DE JEQUITIBÁ**  
ESTADO DE MINAS GERAIS

**24. Foi aplicado à taxa de juros simples de 30% a.m. um capital de R\$160.000,00 durante o período de 5 meses. Quanto foi o juro obtido nessa aplicação?**

- A) R\$48.000,00.
- B) R\$400.000,00
- C) R\$240.000,00
- D) Nenhuma das alternativas

**25. A sequência numérica (15, 30, 60, 120, 240, 480) é uma Progressão:**

- A) Aritmética de razão 2.
- B) Aritmética de razão 4.
- C) Aritmética de razão 6.
- D) Geométrica de razão 2.

**26. A soma dos ângulos internos de um triângulo é:**

- A) 90°
- B) 360°
- C) 180°
- D) 270°

**27. Quais os valores de x na equação  $x^2 + 7x + 10 = 0$**

- A) 2 e 5
- B) 7 e 10.
- C) -2 e -5.
- D) 2 e 5

**28. Certo produto que custava R\$380,00 teve um aumento de 25%. Com esse aumento o produto passou a custar:**

- A) R\$405,00
- B) R\$457,00
- C) R\$475,00
- D) nenhuma das alternativas

**29. André toma 3 tipos de remédios, toma um de 4 em 4 horas, toma outro de 6 em 6 horas e por fim toma o último de 8 em 8 horas. Às 7 horas da manhã de uma quarta-feira ele tomou os 3 remédios ao mesmo tempo. Quando André irá tomar os remédios juntos novamente?**

- A) Às 7 horas da manhã de uma quinta-feira
- B) Às 7 horas da manhã de um sexta-feira
- C) Às 19h de uma quinta-feira
- D) Às 19h de uma sexta-feira



# PREFEITURA MUNICIPAL DE JEQUITIBÁ

ESTADO DE MINAS GERAIS

**30. Qual é o perímetro de um triângulo retângulo sabendo que seu cateto adjacente mede 16 cm e seu cosseno é igual a 0,8.**

- A) 36.
- B) 48.
- C) 60.
- D) 72.



# PREFEITURA MUNICIPAL DE JEQUITIBÁ

ESTADO DE MINAS GERAIS

## CONHECIMENTOS ESPECÍFICOS – TÉCNICO EM EDIFICAÇÕES

**31. Referente às tecnologias empregadas na construção civil, qual das alternativas abaixo apresenta uma maneira convencional de construção muito apresentada nas construções em geral no Brasil?**

- a) Construção em estrutura metálica aparafusada e soldada.
- b) Construção em alvenaria com pilares e vigas de concreto armado.
- c) Construção puramente em madeira entalhada.
- d) Construção em Taipa de Mão, ou Pau a Pique, com elementos puramente extraídos da natureza.

**32. Para que se possa do início a construção de uma edificação, seja ela térrea ou de múltiplos pavimentos, é necessário que o projeto desta construção tenha de ser aprovado nos órgãos públicos competentes. Quais documentos são necessários para que se possa estar regular perante a fiscalização de obras do município em que se constrói?**

- a) Plantas de projetos complementares fornecidas pelo responsável técnico.
- b) Declaração de endereço e projeto executivo.
- c) Alvará de construção e projeto completo aprovado pela Prefeitura Municipal.
- d) Laudo técnico de avaliação do solo juntamente com projeto estrutural.

**33. A topografia é o ramo da ciência que tem como base abstrair a configuração de uma extensão de terra com a posição de todos os seus acidentes naturais ou artificiais. Dado este fato, um topógrafo tem como objetivo apresentar os níveis e desníveis em relação a um determinado terreno, demonstrando os pontos onde deve ser realizado os cortes e aterros necessários para que se possa fazer determinada construção.**

Desta forma, qual seria a melhor resposta para a seguinte questão:

“Qual a diferença entre Corte e Aterro, quando se diz respeito a movimentação de terra?”

- a) Corte representa a colocação de mais terra sobre um solo desnivelado; Aterro é a abstração de terra de determinado solo para nivelar sua superfície.



## PREFEITURA MUNICIPAL DE JEQUITIBÁ

ESTADO DE MINAS GERAIS

b) Aterro é a colocação de necessariamente outro tipo de solo sobre um solo com características distintas, promovendo assim duas camadas diferentes; Corte é a remoção da camada que foi colocada posteriormente para possível reposição em outro local.

c) Aterro é a capacidade de se analisar um solo com instrumentos específicos para descobrir suas características; Corte é restaurar o terreno em suas condições iniciais.

d) Aterro é a colocação de determinado solo, independentemente de seu tipo, sobre um determinado local afim de modificar suas características iniciais; Corte é a remoção de parte de um determinado solo, afim de abstrair volume do terreno, modificando suas características iniciais.

**34. Em toda e qualquer atividade profissional são exigidos determinados equipamentos de trabalho chamado EPIs (Equipamentos de proteção individual), deste servem para promover maior segurança ao trabalhador e aos seus responsáveis, evitando acidentes de trabalho.**

Dado a informação anterior a cerca da função dos EPIs, qual das alternativas apresenta uma informação falsa:

a) O uso de EPIs é uma obrigação em todo e qualquer trabalho que envolva a construção civil, sendo elemento fundamental para a proteção do trabalhador.

b) EPIs devem ser utilizados pelos trabalhadores e visitantes de uma obra, não sendo obrigatório apenas para quem trabalha no local, mas também para os demais envolvidos.

c) O uso de EPIs é de responsabilidade do trabalhador, o qual tem a oportunidade de escolher se deve ou não usar tal aparato.

d) Alguns EPIs comum na construção civil são: capacete de obra, bota com bico de ferro, luvas embaraçadas, protetores auriculares, óculos de proteção, etc.

**35. As imagens abaixo referem-se a que tipo de solução muito utilizada na construção civil?**

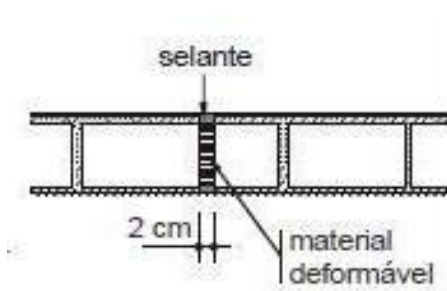


Imagem 01




Imagem 02



## PREFEITURA MUNICIPAL DE JEQUITIBÁ

ESTADO DE MINAS GERAIS

- a) Calafetagem.
- b) Assentamento de blocos
- c) Junta de Dilatação.
- d) Rejuntamento.

**36. Como é denominada a ferramenta utilizada pelo Oficial de Construção que possui uma bolha com água em seu interior?**

- a) Nível de mão.
- b) Prumo.
- c) Trena.
- d) Nível alemão.

**37. A função de uma estrutura em uma construção é clara: manter uma edificação de pé, promovendo a segurança da edificação e de seus usuários. Dado tal informação qual das alternativas abaixo expões uma situação insegura em relação a qualidade estrutural.**

- a) Uma edificação executada em concreto armado, devidamente calculada, executada com formas de madeira e nivelada com equipamentos de precisão.
- b) Uma construção realizada com estrutura metálica, depositada sobre alicerces de concreto armado e construída por empresa especializada.
- c) Uma construção realizada de elementos reaproveitados de demolições anteriores, os quais foram utilizados sem análise prévia, com mão de obra não especializada, sem a presença de um responsável técnico qualificado.
- d) Uma construção realizada com pilares e vigas de madeira, apoiada sobre estrutura de concreto armado, coberta com telhas cerâmicas e forrada em madeira de primeira qualidade.

**38. NBRs (Normas Brasileiras) e NRs (Normas Regulamentadoras) tratam-se de um conjunto de normas e diretrizes de caráter técnico que tem como função padronizar processos para a elaboração de produtos e serviços no Brasil. Relacionado as NBRs e NRs qual das alternativas estão corretas?**

- a) Para garantir que construtoras, incorporadoras e profissionais da área adotarão medidas preventivas necessárias, surgiram as **Normas Regulamentadoras** e as **Normas Brasileiras**, conhecidas como NRs e NBR. As NRs e NBRs delimitam padrões, métodos e recomendações para a [construção civil](#), e o seu cumprimento contribui para a garantia da qualidade dos empreendimentos, além de [reduzir riscos](#).



# PREFEITURA MUNICIPAL DE JEQUITIBÁ

ESTADO DE MINAS GERAIS

b) As NBRs possuem uma norma específica chamada de NBR 9050 que contém a definição de vários padrões técnicos que são relacionados com a **acessibilidade** para pessoas que possuem algum tipo de problema ou redução de mobilidade, como portadores de necessidades especiais ou pessoas idosas.

c) A NBR, assim como outras normas, serve para **padronizar, organizar e qualificar** a produção de documentos ou procedimentos. A padronização, através do cumprimento das normas técnicas facilita a compreensão, já que toda documentação é constituída por um mesmo padrão.

d) Todas as alternativas anteriores.

**39. Quais sistemas construtivos estão relacionados as imagens abaixo, respectivamente?**



**Imagem 01**



**Imagem 02**



**Imagem 03**

a) **Imagem 01:** Estrutura Metálica / **Imagem 02:** Alvenaria Estrutural / **Imagem 03:** Concreto Armado.

b) **Imagem 01:** Estrutura de Madeira / **Imagem 02:** Alvenaria convencional / **Imagem 03:** Estrutura Metálica.

c) **Imagem 01:** Taipa de mão / **Imagem 02:** Concreto Armado / **Imagem 03:** Estrutura Metálica.

d) **Imagem 01:** Estrutura Metálica / **Imagem 02:** Concreto Armado / **Imagem 03:** Alvenaria Estrutural.



# PREFEITURA MUNICIPAL DE JEQUITIBÁ

ESTADO DE MINAS GERAIS

**40. Como é conhecida a instalação de hastes metálica conectada ao solo e a rede elétrica de uma edificação afim de proteger o usuário do equipamento das descargas atmosféricas, através da viabilização de um caminho alternativo conectado a terra, de descargas atmosféricas.**

- a) Aterramento.
- b) Protetor.
- c) Controle contra surtos.
- d) Dispositivo de proteção contra surtos.





**PREFEITURA MUNICIPAL DE JEQUITIBÁ**  
ESTADO DE MINAS GERAIS

**PROCESSO SELETIVO SIMPLIFICADO 01/2021**  
**JEQUITIBÁ – MG**

**PROVA OBJETIVA**

**TÉCNICO EM ENFERMAGEM**

**NOME**

**LEGÍVEL:** \_\_\_\_\_

**CPF:** \_\_\_\_\_

**Nº inscrição:** \_\_\_\_\_

**Cargo:** \_\_\_\_\_

- Assinale apenas uma alternativa com caneta esferográfica preta



# PREFEITURA MUNICIPAL DE JEQUITIBÁ

ESTADO DE MINAS GERAIS

## ENSINO MÉDIO COMPLETO – PORTUGUÊS

### TEXTO I

#### **São Demasiado Pobres os Nossos Ricos**

A maior desgraça de uma nação pobre é que, em vez de produzir riqueza, produz ricos. Mas ricos sem riqueza. Na realidade, melhor seria chamá-los não de ricos, mas de endinheirados. Rico é quem possui meios de produção. Rico é quem gera dinheiro e dá emprego. Endinheirado é quem simplesmente tem dinheiro. Ou que pensa que tem. Porque, na realidade, o dinheiro é que o tem a ele.

A verdade é esta: são demasiado pobres os nossos «ricos». Aquilo que têm, não detêm. Pior: aquilo que exibem como seu, é propriedade de outros. É produto de roubo e de negociatas. Não podem, porém, estes nossos endinheirados usufruir em tranquilidade de tudo quanto roubaram. Vivem na obsessão de poderem ser roubados. Necessitavam de forças policiais à altura. Mas forças policiais à altura acabariam por lançá-los a eles próprios na cadeia. Necessitavam de uma ordem social em que houvesse poucas razões para a criminalidade. Mas se eles enriqueceram foi graças a essa mesma desordem.

O maior sonho dos nossos novos-ricos é, afinal, muito pequenito: um carro de luxo, umas efêmeras cintilâncias. Mas a luxuosa viatura não pode sonhar muito, sacudida pelos buracos das avenidas. O Mercedes e o BMW não podem fazer inteiro uso dos seus brilhos, ocupados que estão em se esquivar entre chapas, muito convexos e estradas muito côncavas. A existência de estradas boas dependeria de outro tipo de riqueza. Uma riqueza que servisse a cidade. E a riqueza dos nossos novos-ricos nasceu de um movimento contrário: do empobrecimento da cidade e da sociedade.

As casas de luxo dos nossos falsos ricos são menos para serem habitadas do que para serem vistas. Fizeram-se para os olhos de quem passa. Mas ao exibirem-se, assim, cheias de folhos e chibantices, acabam atraindo alheias cobiças. Por mais guardas que tenham à porta, os nossos pobres-ricos não afastam o receio das invejas e dos feitiços que essas invejas convocam. O fausto das residências não os torna imunes. Pobres dos nossos riquinhos!

São como a cerveja tirada à pressão. São feitos num instante, mas a maior parte é só espuma. O que resta de verdadeiro é mais o copo que o conteúdo. Podiam criar gado ou vegetais. Mas não. Em vez disso, os nossos endinheirados feitos sob pressão criam amantes. Mas as amantes (e/ou os amantes) têm um grave inconveniente: necessitam de ser sustentadas com dispendiosos mimos. O maior inconveniente é ainda a ausência de garantia do produto. A amante de um pode ser, amanhã, amante de outro. O coração do criador de amantes não tem sossego: quem traiu sabe que pode ser traído.

Mia Couto, in 'Pensatempos'

<http://www.citador.pt/textos/sao-demasiado-pobres-os-nossosricos-mia-couto..>



# PREFEITURA MUNICIPAL DE JEQUITIBÁ

ESTADO DE MINAS GERAIS

**01. De acordo com Mia Couto, os desejos de consumo dos endinheirados são vazios e acabam frustrados porque:**

- A) São desejos passageiros que logo perdem o sentido de ser.
- B) Não são frutos de um planejamento e de decisões cautelosas e prudentes.
- C) Vão de encontro à realidade desigual e à falta de estrutura do país.
- D) Apesar de ricos não sabem aplicar o dinheiro e logo perdem o poder aquisitivo.

**02. Por que, na opinião do autor Mia Couto, “são demasiado pobres os nossos «ricos»?**

- A) Porque não sabem utilizar o dinheiro que ganham com inteligência.
- B) Porque não almejam a riqueza do país, mas apenas a aquisição, a qualquer custo, de dinheiro fácil.
- C) Porque não aceitam que pessoas pobres tenham a oportunidade de também vencerem na vida.
- D) Porque investem muito em segurança e acabam ficando enclausurados em suas residências.

**03. Os verbos “vivem” e “torna” presentes nos períodos abaixo são classificados, de acordo com a regência verbal que exercem nessas orações, como sendo:**

- I. “Vivem na obsessão de poderem ser roubados”.
  - II. “O fausto das residências não os torna imunes”.
- A) I. Intransitivo; II. Transitivo direto.
  - B) I. Transitivo indireto; II. Transitivo direto.
  - C) I. Intransitivo; II. Transitivo direto e indireto.
  - D) I. Transitivo indireto; II. Transitivo direto e indireto.



## PREFEITURA MUNICIPAL DE JEQUITIBÁ

ESTADO DE MINAS GERAIS

**04. Em “São demasiado pobres os nossos ricos”, o termo destacado pode ser classificado gramaticalmente como sendo:**

- A) Um substantivo.
- B) Um adjetivo.
- C) Um advérbio.
- D) Uma conjunção.

**05. Assinale a alternativa que preenche corretamente as lacunas abaixo:**

Ao analisar a coesão entre as orações “O coração do criador de amantes não tem sossego: quem traiu sabe que pode ser traído”, pode-se perceber que, no lugar dos dois pontos, poderia ter sido usada a conjunção..... Para manter a ideia de.....

- A) por isso – conclusão.
- B) pois – conclusão.
- C) mas – contradição.
- D) pois – explicação.

**06. Ao observar a concordância dos verbos destacados em “Fizeram-se para os olhos de quem passa. Mas ao exibirem-se, assim, cheias de folhos e chibantices, acabam atraindo alheias cobiças”, pode-se afirmar que:**

- I. “Fizeram” está no plural concordando com “olhos”.
- II. Ambos estão concordando com “casas de luxo”.
- III. “Exibirem” está no plural concordando com “folhos e chibantices”.
- IV. Cada um está realizando a concordância com o seu respectivo sujeito.
- V. Os dois estão concordando com um sujeito mencionado na oração anterior.
- VI. Os dois verbos poderiam estar na 3ª pessoa do singular concordando com o sujeito mais próximo.



# PREFEITURA MUNICIPAL DE JEQUITIBÁ

ESTADO DE MINAS GERAIS

**Assinale a alternativa correta:**

- A) Apenas I, III e VI estão corretos.
- B) Apenas II e V estão corretos.
- C) Apenas II, V e VI estão corretos.
- D) Apenas I, III e IV estão corretos.

**7. Mia Couto, em sua frase “O fausto das residências não os torna imunes”, usou a palavra fausto” para simbolizar:**

- A) Luxo.
- B) Segurança.
- C) Bom gosto.
- D) Discrição.

**08. “São demasiado pobres<sup>1</sup> os nossos ricos<sup>2</sup>”. Ao analisar a função gramatical dos termos grifados nesse período, percebe-se que “pobres” e “ricos” estão desempenhando função de:**

- A) 1. Substantivo e 2. Substantivo.
- B) 1. Adjetivo e 2. Substantivo.
- C) 1. Substantivo e 2. Adjetivo.
- D) 1. Adjetivo e 2. Adjetivo.

**09. Em “São como a cerveja tirada à pressão”, ocorreu a crase por se tratar de uma locução adverbial feminina de modo.**

Assim como essa, outras locuções adverbiais femininas também recebem crase. Assinale a alternativa em que a crase ocorreu por se tratar de uma locução adverbial feminina.

- A) Por mais guardas que tenham à porta, os nossos pobres-ricos não afastam...
- B) Os endinheirados dedicam-se apenas à gastar sem medida.
- C) É uma riqueza que faz referência à ausência de sentimentos humanitários.
- D) A população mais carente assiste atônita à derrocada de seus direitos.



# PREFEITURA MUNICIPAL DE JEQUITIBÁ

## ESTADO DE MINAS GERAIS

**10. “Aquilo que têm, não detêm”. Os verbos “têm” e “detêm” recebem acento circunflexo porquê?**

- A) São palavras oxítonas terminam em “EM”.
- B) São palavras paroxítonas terminadas em “EM”.
- C) Estão no singular e precisam ser diferenciadas da forma verbal no plural.
- D) Estão no plural e precisam ser diferenciados da forma verbal no singular.

### **TEXTO II**

#### **Fábula: O leão apaixonado**

Certa vez um leão se apaixonou pela filha de um lenhador e foi pedir a mão dela em casamento. O lenhador não ficou muito animado com a ideia de ver a filha com um marido perigoso daqueles e disse ao leão que era muita honra, mas muito obrigado, não queria. O leão se irritou; sentindo o perigo, o homem foi esperto e fingiu que concordava:

- É uma honra, meu senhor. Mas que dentes o senhor tem! Que garras compridas! Qualquer moça ia ficar com medo. Se o senhor quer casar com minha filha, vai ter que arrancar os dentes e cortar as garras.

O leão apaixonado foi correndo fazer o que o outro tinha mandado; depois voltou à casa do pai da moça e repetiu seu pedido de casamento. Mas o lenhador, que já não sentia medo daquele leão manso e desarmado, pegou um pau e tocou o leão para fora de sua casa.

Moral: Quem perde a cabeça por amor sempre acaba mal.

#### **11. A fábula de Esopo:**

- A) Não trata de nenhum tema específico.
- B) Pretende mostrar a estratificação social.
- C) Se utiliza de animais para denunciar o preconceito.
- D) Trata uma história de amor impossível.



## PREFEITURA MUNICIPAL DE JEQUITIBÁ

ESTADO DE MINAS GERAIS

**12. A fábula começa apresentando o leão e logo nos vêm à mente todas as características tradicionalmente atribuídas ao animal. Ao final da narrativa, porém, percebemos que o leão foi:**

- A) Submisso
- B) Corajoso
- C) Cruel
- D) Justo

**13. Aponte a alternativa que contém uma característica pertinente ao texto:**

- A) O tempo e o espaço em que os fatos se dão estão bem definidos.
- B) É uma narrativa curta, por isso não apresenta os elementos básicos da narrativa.
- C) Título insignificante para a trama.
- D) Encerra em si uma linguagem simples, pois dirige-se ao povo.

**14. Considere as três afirmações abaixo acerca do texto lido:**

- I. Apesar de tratar-se de uma narrativa é possível que consideremos algumas passagens argumentativas.
- II. Apresenta uma situação problemática, ou seja, existe um conflito.
- III. É narrado em 3ª pessoa.

**Diante da análise acima, podemos afirmar que:**

- A) I e II estão corretas.
- B) Apenas III está correta.
- C) I, II e III estão corretas.
- D) Apenas I está correta.



## PREFEITURA MUNICIPAL DE JEQUITIBÁ

ESTADO DE MINAS GERAIS

**15. O texto está repleto de adjetivos. Qual o papel fundamental deles na fábula?**

- A) Caracterizar os personagens e a partir disso permear as ações sendo determinantes para o conflito e o desfecho da narrativa.
- B) Construir o próprio sentido do texto, sem adjetivos para sustentar a fábula, ela não se realiza como gênero textual.
- C) Nenhum, pois os adjetivos formam uma classe gramatical meramente alegórica.
- D) Mostrar a constância nas atitudes e pensamentos das personagens, fluindo para um desfecho claro e previsível.





**PREFEITURA MUNICIPAL DE JEQUITIBÁ**  
ESTADO DE MINAS GERAIS

**ENSINO MÉDIO COMPLETO – MATEMÁTICA**

16. O sistema ordenado  $(x, y)$  de equações  $\begin{cases} 3x + 4y = 72 \\ 5x + 2y = 64 \end{cases}$  tem como solução o par

Sendo assim,  $8x - 5y$  é igual a:

- A) 8
- B) 12
- C) 4
- D) 20

17. Uma bola de tênis custa o triplo do preço de uma bola de golf. Essa bola de golf custa o dobro do preço da bola de baseball. Carlos comprou uma bola de cada e pagou pelas três R\$180,00. O preço da bola de tênis é:

- A) R\$60,00
- B) R\$90,00
- C) R\$20,00
- D) R\$120,00

18. Qual é a raiz cúbica de 5832?

- a) 12
- b) 17
- c) 19
- d) 18

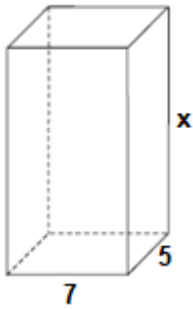
19. O gráfico da função  $f(x) = 18 - 35x$  é uma:

- A) Parábola com concavidade para cima
- B) Uma reta crescente
- C) Parábola com concavidade para baixo
- D) Uma reta decrescente

20. Um tanque de água, com capacidade máxima para  $455 \text{ m}^3$ , tem a forma de um prisma reto de base retangular, cujas medidas internas, em metros, estão indicadas na figura.



**PREFEITURA MUNICIPAL DE JEQUITIBÁ**  
ESTADO DE MINAS GERAIS



a altura desse reservatório, indicada na figura pela letra x, é igual a

- A) 10 m.
- B) 12 m.
- C) 13 m.
- D) 15 m.

**21. Quantos anagramas é possível fazer com a palavra JEQUITIBA**

A) 9!

B)  $\frac{9!}{2!}$

C)  $\frac{2!}{9!}$

D) Nenhuma das alternativas

**22. Um médico realiza, em cinco dias úteis de uma determinada semana, respectivamente, 15, 20, 25, 27 e 28 atendimentos diários. A média diária de atendimentos é de:**

- A) 23.
- B) 25.
- C) 27.
- D) 28.

**23. Uma moto com velocidade constante de 90 km/h faz determinado percurso em 80 minutos. Qual foi a velocidade da moto sabendo que em outro momento ela fez esse mesmo percurso em 1h 40minutos?**

- (A) 112,5km/h.
- (B) 72km/h.
- (C) 82km/h.
- (D) 80km/h.



**PREFEITURA MUNICIPAL DE JEQUITIBÁ**  
ESTADO DE MINAS GERAIS

**24. Foi aplicado à taxa de juros simples de 30% a.m. um capital de R\$160.000,00 durante o período de 5 meses. Quanto foi o juro obtido nessa aplicação?**

- A) R\$48.000,00.
- B) R\$400.000,00
- C) R\$240.000,00
- D) Nenhuma das alternativas

**25. A sequência numérica (15, 30, 60, 120, 240, 480) é uma Progressão:**

- A) Aritmética de razão 2.
- B) Aritmética de razão 4.
- C) Aritmética de razão 6.
- D) Geométrica de razão 2.

**26. A soma dos ângulos internos de um triângulo é:**

- A) 90°
- B) 360°
- C) 180°
- D) 270°

**27. Quais os valores de x na equação  $x^2 + 7x + 10 = 0$**

- A) 2 e 5
- B) 7 e 10.
- C) -2 e -5.
- D) 2 e 5

**28. Certo produto que custava R\$380,00 teve um aumento de 25%. Com esse aumento o produto passou a custar:**

- A) R\$405,00
- B) R\$457,00
- C) R\$475,00
- D) nenhuma das alternativas

**29. André toma 3 tipos de remédios, toma um de 4 em 4 horas, toma outro de 6 em 6 horas e por fim toma o último de 8 em 8 horas. Às 7 horas da manhã de uma quarta-feira ele tomou os 3 remédios ao mesmo tempo. Quando André irá tomar os remédios juntos novamente?**

- A) Às 7 horas da manhã de uma quinta-feira
- B) Às 7 horas da manhã de um sexta-feira
- C) Às 19h de uma quinta-feira
- D) Às 19h de uma sexta-feira



# PREFEITURA MUNICIPAL DE JEQUITIBÁ

ESTADO DE MINAS GERAIS

**30. Qual é o perímetro de um triângulo retângulo sabendo que seu cateto adjacente mede 16 cm e seu cosseno é igual a 0,8.**

- A) 36.
- B) 48.
- C) 60.
- D) 72.



# PREFEITURA MUNICIPAL DE JEQUITIBÁ

ESTADO DE MINAS GERAIS

## **CONHECIMENTOS ESPECÍFICOS – TÉCNICO EM ENFERMAGEM**

**31. A Lei do Exercício Profissional de Enfermagem permite o exercício da profissão das diferentes categorias da enfermagem, assinale a alternativa que compete ao técnico de enfermagem exercer:**

- a-) Consultoria, auditoria e emissão de parecer sobre matéria de enfermagem;
- b-) Cuidados diretos de enfermagem a pacientes graves com risco de vida;
- c-) Chefia de serviço e de unidade de enfermagem;
- d-) Participação na programação da assistência de enfermagem.

**32. Como se sabe, os artigos hospitalares são classificados em críticos, semi críticos e não críticos. Com essa classificação, os mesmos possuem diferentes formas de serem limpos. Em relação aos artigos não críticos devem ser desinfetados.**

Frente a isso, qual alternativa apresenta tais artigos:

- a-) Roupas de cama, estetoscópios, comadres;
- b-) Estetoscópio, comadres, cateteres intravasculares;
- c-) Comadres, termômetros de vidro reutilizáveis, agulhas.
- d-) Agulhas, tubos de aspiração respiratória, roupas de cama.

**33. Uma das vacinas mais importantes do calendário vacinal da criança é a BCG, que deve ser administrada nos primeiros meses de vida da criança, e ela previne qual doença:**

- a-) Hepatite A;
- b-) Formas Graves de Tuberculose;
- c-) Diarreia;
- d-) Meningite B.

**34. O Técnico de Enfermagem junto ao Enfermeiro e Médico da Equipe são os profissionais que possuem conhecimento técnico para o manejo apropriado de pacientes com úlcera por pressão em cuidados domiciliares, por isso é necessário conhecer os princípios básicos para orientar os cuidadores de forma adequada. Frente a isso o técnico precisa conhecer:**



## PREFEITURA MUNICIPAL DE JEQUITIBÁ

ESTADO DE MINAS GERAIS

- a-) Curativos que retêm a umidade das feridas não são apropriados para tratamento de úlceras por pressão;
- b-) As feridas devem ser limpas a cada troca de curativo, com força necessária o suficiente para garantir toda a limpeza do leito da lesão, especialmente, quando essa limpeza for auxiliada pelo uso de gazes cirúrgicas;
- c-) Solução salina é preferida para a limpeza das úlceras por pressão, por ser fisiológica e não danificar os tecidos em cicatrização;
- d-) Mesmo pacientes em cuidados domiciliares, não devem se utilizar de água potável (chuveiro) para a limpeza das feridas ocasionadas por pressão.

**35. Em relação ao procedimento de Agravo de Notificação Compulsória, comunicar casos de dengue com base na portaria 204/2016, é um agravo de notificação compulsória, que deve ser notificado de forma:**

- a-) Semanal;
- b-) Imediata, somente à Secretaria Municipal de Saúde;
- c-) Imediata, somente às Secretarias Municipal e Estadual de Saúde;
- d-) Imediata, ao Ministério da Saúde.

**36. A paciente J.M., 75 anos, sexo masculino, recebeu prescrição médica de 1.000ml de Soro Fisiológico 0,9% para ser infundido em 8 horas. O técnico de enfermagem deverá administrar a solução com o gotejamento de aproximadamente:**

- a-) 83 gotas/minuto;
- b-) 12,5 gotas/minuto;
- c-) 6 gotas/minuto;
- d) 42 gotas/minuto.

**37. O pré-natal tem como objetivo acolher a mulher desde o início de sua gestação. Sobre o atendimento do pré-natal é CORRETO afirmar que:**

- a-) Não há necessidade de orientar e tirar as dúvidas da gestante durante as consultas de pré-natal;



## PREFEITURA MUNICIPAL DE JEQUITIBÁ

ESTADO DE MINAS GERAIS

- b-) O intervalo entre as consultas pré-natais deve ser de quatro semanas. Após a 36ª semana, a gestante deverá ser acompanhada a cada 15 dias, e após a 38ª semana a gestante deve ser acompanhada toda a semana;
- c-) A vacinação da gestante deve ocorrer somente após o parto;
- d-) A escolha de via de parto é privativa do médico obstetra da gestante.

**38. A higienização das mãos é uma das práticas necessárias principalmente em tempos de COVID – 19, tanto em relação à segurança do profissional quanto em relação à segurança do paciente. Sobre ao procedimento da lavagem das mãos é correto afirmar:**

- a-) O uso de luvas substitui a necessidade de higienização das mãos;
- b-) A higienização deve ser realizada somente após o fim do plantão;
- c-) Após aplicação de produtos à base de álcool, não é necessário deixar mãos e antebraços secarem antes de calçar luvas esterilizadas;
- d-) As mãos devem ser higienizadas após a realização de procedimentos entre um paciente e outro, após a retirada de luvas, e todas as vezes que houver sujidade visível ou não.

**39. A técnica asséptica é um procedimento realizado de forma que previne a contaminação por agentes infecciosos. Sabendo disso, qual dos procedimentos abaixo a técnica asséptica é realizada:**

- a-) Injeção subcutânea;
- b-) Sondagem vesical;
- c-) Aferição de temperatura;
- d-) Higiene íntima.

**40. Qual o decúbito ideal do paciente para a realização de sondagem vesical de demora?**

- a-) Decúbito Dorsal;
- b-) Trendelenburg;
- c-) Posição de Sims;
- d-) Posição de Prona.



**PREFEITURA MUNICIPAL DE JEQUITIBÁ**  
ESTADO DE MINAS GERAIS

**PROCESSO SELETIVO SIMPLIFICADO 01/2021**  
**JEQUITIBÁ – MG**

**PROVA OBJETIVA**

**TÉCNICO SAÚDE BUCAL – TDH**  
**TÉCNICO SAÚDE BUCAL (ESF)**  
**AUXILIAR ODONTOLÓGICO**

**NOME**

**LEGÍVEL:** \_\_\_\_\_

**CPF:** \_\_\_\_\_

**Nº inscrição:** \_\_\_\_\_

**Cargo:** \_\_\_\_\_

- Assinale apenas uma alternativa com caneta esferográfica preta





# PREFEITURA MUNICIPAL DE JEQUITIBÁ

ESTADO DE MINAS GERAIS

## ENSINO MÉDIO COMPLETO – PORTUGUÊS

### TEXTO I

#### **São Demasiado Pobres os Nossos Ricos**

A maior desgraça de uma nação pobre é que, em vez de produzir riqueza, produz ricos. Mas ricos sem riqueza. Na realidade, melhor seria chamá-los não de ricos, mas de endinheirados. Rico é quem possui meios de produção. Rico é quem gera dinheiro e dá emprego. Endinheirado é quem simplesmente tem dinheiro. Ou que pensa que tem. Porque, na realidade, o dinheiro é que o tem a ele.

A verdade é esta: são demasiado pobres os nossos «ricos». Aquilo que têm, não detêm. Pior: aquilo que exibem como seu, é propriedade de outros. É produto de roubo e de negociatas. Não podem, porém, estes nossos endinheirados usufruir em tranquilidade de tudo quanto roubaram. Vivem na obsessão de poderem ser roubados. Necessitavam de forças policiais à altura. Mas forças policiais à altura acabariam por lançá-los a eles próprios na cadeia. Necessitavam de uma ordem social em que houvesse poucas razões para a criminalidade. Mas se eles enriqueceram foi graças a essa mesma desordem.

O maior sonho dos nossos novos-ricos é, afinal, muito pequenito: um carro de luxo, umas efêmeras cintilâncias. Mas a luxuosa viatura não pode sonhar muito, sacudida pelos buracos das avenidas. O Mercedes e o BMW não podem fazer inteiro uso dos seus brilhos, ocupados que estão em se esquivar entre chapas, muito convexos e estradas muito côncavas. A existência de estradas boas dependeria de outro tipo de riqueza. Uma riqueza que servisse a cidade. E a riqueza dos nossos novos-ricos nasceu de um movimento contrário: do empobrecimento da cidade e da sociedade.

As casas de luxo dos nossos falsos ricos são menos para serem habitadas do que para serem vistas. Fizeram-se para os olhos de quem passa. Mas ao exibirem-se, assim, cheias de folhos e chibantices, acabam atraindo alheias cobiças. Por mais guardas que tenham à porta, os nossos pobres-ricos não afastam o receio das invejas e dos feitiços que essas invejas convocam. O fausto das residências não os torna imunes. Pobres dos nossos riquinhos!

São como a cerveja tirada à pressão. São feitos num instante, mas a maior parte é só espuma. O que resta de verdadeiro é mais o copo que o conteúdo. Podiam criar gado ou vegetais. Mas não. Em vez disso, os nossos endinheirados feitos sob pressão criam amantes. Mas as amantes (e/ou os amantes) têm um grave inconveniente: necessitam de ser sustentadas com dispendiosos mimos. O maior inconveniente é ainda a ausência de garantia do produto. A amante de um pode ser, amanhã, amante de outro. O coração do criador de amantes não tem sossego: quem traiu sabe que pode ser traído.

Mia Couto, in 'Pensatempos'

<http://www.citador.pt/textos/sao-demasiado-pobres-os-nossosricos-mia-couto..>



## PREFEITURA MUNICIPAL DE JEQUITIBÁ

ESTADO DE MINAS GERAIS

**01. De acordo com Mia Couto, os desejos de consumo dos endinheirados são vazios e acabam frustrados porque:**

- A) São desejos passageiros que logo perdem o sentido de ser.
- B) Não são frutos de um planejamento e de decisões cautelosas e prudentes.
- C) Vão de encontro à realidade desigual e à falta de estrutura do país.
- D) Apesar de ricos não sabem aplicar o dinheiro e logo perdem o poder aquisitivo.

**02. Por que, na opinião do autor Mia Couto, “são demasiado pobres os nossos «ricos»?**

- A) Porque não sabem utilizar o dinheiro que ganham com inteligência.
- B) Porque não almejam a riqueza do país, mas apenas a aquisição, a qualquer custo, de dinheiro fácil.
- C) Porque não aceitam que pessoas pobres tenham a oportunidade de também vencerem na vida.
- D) Porque investem muito em segurança e acabam ficando enclausurados em suas residências.

**03. Os verbos “vivem” e “torna” presentes nos períodos abaixo são classificados, de acordo com a regência verbal que exercem nessas orações, como sendo:**

- I. “Vivem na obsessão de poderem ser roubados”.
  - II. “O fausto das residências não os torna imunes”.
- A) I. Intransitivo; II. Transitivo direto.
  - B) I. Transitivo indireto; II. Transitivo direto.
  - C) I. Intransitivo; II. Transitivo direto e indireto.
  - D) I. Transitivo indireto; II. Transitivo direto e indireto.



## PREFEITURA MUNICIPAL DE JEQUITIBÁ

ESTADO DE MINAS GERAIS

**04. Em “São demasiado pobres os nossos ricos”, o termo destacado pode ser classificado gramaticalmente como sendo:**

- A) Um substantivo.
- B) Um adjetivo.
- C) Um advérbio.
- D) Uma conjunção.

**05. Assinale a alternativa que preenche corretamente as lacunas abaixo:**

Ao analisar a coesão entre as orações “O coração do criador de amantes não tem sossego: quem traiu sabe que pode ser traído”, pode-se perceber que, no lugar dos dois pontos, poderia ter sido usada a conjunção..... Para manter a ideia de.....

- A) por isso – conclusão.
- B) pois – conclusão.
- C) mas – contradição.
- D) pois – explicação.

**06. Ao observar a concordância dos verbos destacados em “Fizeram-se para os olhos de quem passa. Mas ao exibirem-se, assim, cheias de folhos e chibantices, acabam atraindo alheias cobiças”, pode-se afirmar que:**

- I. “Fizeram” está no plural concordando com “olhos”.
- II. Ambos estão concordando com “casas de luxo”.
- III. “Exibirem” está no plural concordando com “folhos e chibantices”.
- IV. Cada um está realizando a concordância com o seu respectivo sujeito.
- V. Os dois estão concordando com um sujeito mencionado na oração anterior.
- VI. Os dois verbos poderiam estar na 3ª pessoa do singular concordando com o sujeito mais próximo.



# PREFEITURA MUNICIPAL DE JEQUITIBÁ

ESTADO DE MINAS GERAIS

**Assinale a alternativa correta:**

- A) Apenas I, III e VI estão corretos.
- B) Apenas II e V estão corretos.
- C) Apenas II, V e VI estão corretos.
- D) Apenas I, III e IV estão corretos.

**7. Mia Couto, em sua frase “O fausto das residências não os torna imunes”, usou a palavra fausto” para simbolizar:**

- A) Luxo.
- B) Segurança.
- C) Bom gosto.
- D) Discrição.

**08. “São demasiado pobres<sup>1</sup> os nossos ricos<sup>2</sup>”. Ao analisar a função gramatical dos termos grifados nesse período, percebe-se que “pobres” e “ricos” estão desempenhando função de:**

- A) 1. Substantivo e 2. Substantivo.
- B) 1. Adjetivo e 2. Substantivo.
- C) 1. Substantivo e 2. Adjetivo.
- D) 1. Adjetivo e 2. Adjetivo.

**09. Em “São como a cerveja tirada à pressão”, ocorreu a crase por se tratar de uma locução adverbial feminina de modo.**

Assim como essa, outras locuções adverbiais femininas também recebem crase. Assinale a alternativa em que a crase ocorreu por se tratar de uma locução adverbial feminina.

- A) Por mais guardas que tenham à porta, os nossos pobres-ricos não afastam...
- B) Os endinheirados dedicam-se apenas à gastar sem medida.
- C) É uma riqueza que faz referência à ausência de sentimentos humanitários.
- D) A população mais carente assiste atônita à derrocada de seus direitos.



# PREFEITURA MUNICIPAL DE JEQUITIBÁ

ESTADO DE MINAS GERAIS

**10. “Aquilo que têm, não detêm”. Os verbos “têm” e “detêm” recebem acento circunflexo porquê?**

- A) São palavras oxítonas terminam em “EM”.
- B) São palavras paroxítonas terminadas em “EM”.
- C) Estão no singular e precisam ser diferenciadas da forma verbal no plural.
- D) Estão no plural e precisam ser diferenciados da forma verbal no singular.

## **TEXTO II**

### **Fábula: O leão apaixonado**

Certa vez um leão se apaixonou pela filha de um lenhador e foi pedir a mão dela em casamento. O lenhador não ficou muito animado com a ideia de ver a filha com um marido perigoso daqueles e disse ao leão que era muita honra, mas muito obrigado, não queria. O leão se irritou; sentindo o perigo, o homem foi esperto e fingiu que concordava:

- É uma honra, meu senhor. Mas que dentes o senhor tem! Que garras compridas! Qualquer moça ia ficar com medo. Se o senhor quer casar com minha filha, vai ter que arrancar os dentes e cortar as garras.

O leão apaixonado foi correndo fazer o que o outro tinha mandado; depois voltou à casa do pai da moça e repetiu seu pedido de casamento. Mas o lenhador, que já não sentia medo daquele leão manso e desarmado, pegou um pau e tocou o leão para fora de sua casa.

Moral: Quem perde a cabeça por amor sempre acaba mal.

### **11. A fábula de Esopo:**

- A) Não trata de nenhum tema específico.
- B) Pretende mostrar a estratificação social.
- C) Se utiliza de animais para denunciar o preconceito.
- D) Trata uma história de amor impossível.



## PREFEITURA MUNICIPAL DE JEQUITIBÁ

ESTADO DE MINAS GERAIS

**12. A fábula começa apresentando o leão e logo nos vêm à mente todas as características tradicionalmente atribuídas ao animal. Ao final da narrativa, porém, percebemos que o leão foi:**

- A) Submisso
- B) Corajoso
- C) Cruel
- D) Justo

**13. Aponte a alternativa que contém uma característica pertinente ao texto:**

- A) O tempo e o espaço em que os fatos se dão estão bem definidos.
- B) É uma narrativa curta, por isso não apresenta os elementos básicos da narrativa.
- C) Título insignificante para a trama.
- D) Encerra em si uma linguagem simples, pois dirige-se ao povo.

**14. Considere as três afirmações abaixo acerca do texto lido:**

- I. Apesar de tratar-se de uma narrativa é possível que consideremos algumas passagens argumentativas.
- II. Apresenta uma situação problemática, ou seja, existe um conflito.
- III. É narrado em 3ª pessoa.

**Diante da análise acima, podemos afirmar que:**

- A) I e II estão corretas.
- B) Apenas III está correta.
- C) I, II e III estão corretas.
- D) Apenas I está correta.



## PREFEITURA MUNICIPAL DE JEQUITIBÁ

ESTADO DE MINAS GERAIS

**15. O texto está repleto de adjetivos. Qual o papel fundamental deles na fábula?**

- A) Caracterizar os personagens e a partir disso permear as ações sendo determinantes para o conflito e o desfecho da narrativa.
- B) Construir o próprio sentido do texto, sem adjetivos para sustentar a fábula, ela não se realiza como gênero textual.
- C) Nenhum, pois os adjetivos formam uma classe gramatical meramente alegórica.
- D) Mostrar a constância nas atitudes e pensamentos das personagens, fluindo para um desfecho claro e previsível.



# PREFEITURA MUNICIPAL DE JEQUITIBÁ

ESTADO DE MINAS GERAIS

## ENSINO MÉDIO COMPLETO – MATEMÁTICA

16. O sistema ordenado  $(x, y)$   $\begin{cases} 3x + 4y = 72 \\ 5x + 2y = 64 \end{cases}$  de equações tem como solução o par

Sendo assim,  $8x - 5y$  é igual a:

- A) 8
- B) 12
- C) 4
- D) 20

17. Uma bola de tênis custa o triplo do preço de uma bola de golf. Essa bola de golf custa o dobro do preço da bola de baseball. Carlos comprou uma bola de cada e pagou pelas três R\$180,00. O preço da bola de tênis é:

- A) R\$60,00
- B) R\$90,00
- C) R\$20,00
- D) R\$120,00

18. Qual é a raiz cúbica de 5832?

- a) 12
- b) 17
- c) 19
- d) 18

19. O gráfico da função  $f(x) = 18 - 35x$  é uma:

- A) Parábola com concavidade para cima
- B) Uma reta crescente
- C) Parábola com concavidade para baixo
- D) Uma reta decrescente

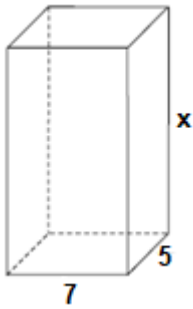
20. Um tanque de água, com capacidade máxima para  $455 \text{ m}^3$ , tem a forma de um prisma reto de base retangular, cujas medidas internas, em metros, estão indicadas na figura.





# PREFEITURA MUNICIPAL DE JEQUITIBÁ

ESTADO DE MINAS GERAIS



a altura desse reservatório, indicada na figura pela letra x, é igual a

- A) 10 m.
- B) 12 m.
- C) 13 m.
- D) 15 m.

**21. Quantos anagramas é possível fazer com a palavra JEQUITIBA**

A) 9!

B)  $\frac{9!}{2!}$

C)  $\frac{2!}{9!}$

D) Nenhuma das alternativas

**22. Um médico realiza, em cinco dias úteis de uma determinada semana, respectivamente, 15, 20, 25, 27 e 28 atendimentos diários. A média diária de atendimentos é de:**

- A) 23.
- B) 25.
- C) 27.
- D) 28.

**23. Uma moto com velocidade constante de 90 km/h faz determinado percurso em 80 minutos. Qual foi a velocidade da moto sabendo que em outro momento ela fez esse mesmo percurso em 1h 40minutos?**

- (A) 112,5km/h.
- (B) 72km/h.
- (C) 82km/h.
- (D) 80km/h.



**PREFEITURA MUNICIPAL DE JEQUITIBÁ**  
ESTADO DE MINAS GERAIS

**24. Foi aplicado à taxa de juros simples de 30% a.m. um capital de R\$160.000,00 durante o período de 5 meses. Quanto foi o juro obtido nessa aplicação?**

- A) R\$48.000,00.
- B) R\$400.000,00
- C) R\$240.000,00
- D) Nenhuma das alternativas

**25. A sequência numérica (15, 30, 60, 120, 240, 480) é uma Progressão:**

- A) Aritmética de razão 2.
- B) Aritmética de razão 4.
- C) Aritmética de razão 6.
- D) Geométrica de razão 2.

**26. A soma dos ângulos internos de um triângulo é:**

- A) 90°
- B) 360°
- C) 180°
- D) 270°

**27. Quais os valores de x na equação  $x^2 + 7x + 10 = 0$**

- A) 2 e 5
- B) 7 e 10.
- C) -2 e -5.
- D) 2 e 5

**28. Certo produto que custava R\$380,00 teve um aumento de 25%. Com esse aumento o produto passou a custar:**

- A) R\$405,00
- B) R\$457,00
- C) R\$475,00
- D) nenhuma das alternativas

**29. André toma 3 tipos de remédios, toma um de 4 em 4 horas, toma outro de 6 em 6 horas e por fim toma o último de 8 em 8 horas. Às 7 horas da manhã de uma quarta-feira ele tomou os 3 remédios ao mesmo tempo. Quando André irá tomar os remédios juntos novamente?**

- A) Às 7 horas da manhã de uma quinta-feira
- B) Às 7 horas da manhã de um sexta-feira
- C) Às 19h de uma quinta-feira
- d) Às 19h de uma sexta-feira



# PREFEITURA MUNICIPAL DE JEQUITIBÁ

ESTADO DE MINAS GERAIS

**30. Qual é o perímetro de um triângulo retângulo sabendo que seu cateto adjacente mede 16 cm e seu cosseno é igual a 0,8.**

- A) 36.
- B) 48.
- C) 60.
- D) 72.



# PREFEITURA MUNICIPAL DE JEQUITIBÁ

ESTADO DE MINAS GERAIS

## **CONHECIMENTOS ESPECÍFICOS – TÉCNICO SAÚDE BUCAL TDH, TÉCNICO EM SAÚDE BUCAL (ESF), AUXILIAR ODONTOLÓGICO**

**31. Os resíduos do mercúrio utilizado para a confecção de amalgama de prata devem ser:**

- a) descartados em lixo comum;
- b) descartados em embalagem para material perfuro-cortante;
- c) descartados em saco plástico identificado como resíduo de saúde;
- d) acondicionados em embalagem fechado sob selo de água e encaminhados à recuperação;

**32. Sabemos que o SUS, sistema único de saúde, possui 03 princípios básicos que garantem a democratização da saúde brasileira, assinale a resposta correta que contém os três princípios:**

- a) Descentralização, participação da comunidade, integral;
- b) Centralização, individualização, direito à saúde;
- c) Universalidade, integralidade, equidade;
- d) Integralidade, universalidade, direito à saúde;

**33. Para evitar bolhas no modelo de gesso no vazamento, é necessário (a):**

- a) aumentar a quantidade de água, confeccionar uma muralha em cera e agilizar o vazamento;
- b) vazar imediatamente à moldagem, aumentar a quantidade de água e espatular manualmente;
- c) secar completamente o molde, realizar espatulação e utilizar o vibrador para gesso;
- d) acrescentar sal ou raspas de gesso, utilizar vibrador para gesso e utilizar recortador de gesso;

**34. Em relação à manipulação do ionômero de vidro é correto afirmar, exceto:**

- a) Coloca-se a quantidade de pó recomendada sobre a placa de vidro ou bloco de papel;
- b) O pó deve ser agitado antes de sua utilização, para misturar suas partículas;
- c) A concha dosadora deve ser introduzida no interior do pó e os excessos devem ser removidos na borda do frasco;
- d) Goteja-se o líquido com o frasco em uma inclinação de 45° a 60° para evitar a formação de bolhas;

**35. A estratégia de Saúde da Família (ESF) é um programa que prioriza as ações de promoção, proteção e recuperação da saúde dos indivíduos e da família, do**



# PREFEITURA MUNICIPAL DE JEQUITIBÁ

ESTADO DE MINAS GERAIS

**recém nascido ao idoso, sadios ou doentes, de forma integral e continua. A inclusão das ações de saúde bucal na Estratégia de Saúde da Família tem como principais objetivos, exceto:**

- a) Melhorar as condições de saúde bucal da população brasileira;
- b) Orientar as práticas de atenção à saúde bucal, por meio da estratégia de organização da Atenção Básica preconizada pela Estratégia da Saúde da Família;
- c) Assegurar o acesso progressivo de todas as famílias residentes nas áreas cobertas pelas equipes de saúde da família às ações de promoção, de prevenção e de assistência em saúde bucal;
- d) Avaliar os padrões de qualidade e o impacto das ações de saúde bucal desenvolvidas, independente dos princípios da ESF da Atenção Básica à Saúde, com a inclusão de equipes de saúde bucal na Estratégia de Saúde da Família;

**36. Em relação ao odontograma é correto afirmar:**

- a) Consiste em um formulário utilizado nos atendimentos odontológicos, geralmente na última consulta;
- b) Nele é descrita a situação final em que se encontra cada elemento dentário;
- c) No odontograma há o desenho ou um esquema de cada dente onde serão marcadas as lesões nas faces correspondentes e anotado, de forma padrão, todo o procedimento realizado;
- d) É somente a partir do odontograma que se elaborará o diagnóstico e o plano de tratamento indicado ao paciente;

**37. Considerando os aspectos inerentes à Biossegurança no ambiente odontológico, o processo que visa reduzir ou inibir o crescimento de microrganismos na pele ou nas mucosas é denominado \_\_\_\_\_, e o conjunto de medidas e processos de higienização de determinado ambiente, com a finalidade de evitar a contaminação do mesmo por agentes infecciosos e patológicos denomina-se \_\_\_\_\_.**

- a) Antissepsia; Desinfecção.
- b) Antissepsia; Assepsia.
- c) Assepsia; Desinfecção.
- d) Assepsia; Degermação.

**38. A esterilização dos instrumentais utilizados na rotina de um consultório odontológico é de extrema importância para diminuir o risco de contaminação cruzada. Sobre este procedimento, podemos afirmar que:**

- a) A esterilização em estufa e em autoclave demanda os mesmos parâmetros de tempo e temperatura.
- b) A autoclavagem é um processo físico de esterilização.
- c) A imersão do instrumental em glutaraldeído por 10 minutos consiste num método de esterilização química preconizado pelo Ministério da Saúde.
- d) As peças de mão jamais devem sofrer processo de esterilização em autoclave



## **PREFEITURA MUNICIPAL DE JEQUITIBÁ**

**ESTADO DE MINAS GERAIS**

**39. As canetas de alta e baixa rotação, e a seringa tríplice, são alguns dos artigos mais importantes de uso odontológico. Elas estão acopladas no equipamento chamado:**

- a) Ultrassom.
- b) Equipo.
- c) Cadeiraodontológica.
- d) UnidadeAuxiliar.

**40. Existem várias competências que o Técnico em Saúde Bucal pode realizar sob a supervisão do cirurgião-dentista, assinale a alternativa que representa uma destas competências:**

- a) Remover suturas;
- B) Fazer a remoção do biofilme, de acordo com a indicação técnica definida pelo cirurgião-dentista;
- c) Realizar fotografias e tomadas de uso odontológicos exclusivamente em consultórios ou clínicas odontológicas;
- d) Proceder à limpeza e à antissepsia do campo operatório, antes e após atos cirúrgicos, com exceção em ambientes hospitalares.



**PREFEITURA MUNICIPAL DE JEQUITIBÁ**  
ESTADO DE MINAS GERAIS

**PROCESSO SELETIVO SIMPLIFICADO 01/2021**  
**JEQUITIBÁ – MG**

**PROVA OBJETIVA**

**TÉCNICO EM VIGILÂNCIA SANITÁRIA**

**NOME**

**LEGÍVEL:** \_\_\_\_\_

**CPF:** \_\_\_\_\_

**Nº inscrição:** \_\_\_\_\_

**Cargo:** \_\_\_\_\_

- Assinale apenas uma alternativa com caneta esferográfica preta



# PREFEITURA MUNICIPAL DE JEQUITIBÁ

## ESTADO DE MINAS GERAIS

### ENSINO MÉDIO COMPLETO – PORTUGUÊS

#### TEXTO I

#### **São Demasiado Pobres os Nossos Ricos**

A maior desgraça de uma nação pobre é que, em vez de produzir riqueza, produz ricos. Mas ricos sem riqueza. Na realidade, melhor seria chamá-los não de ricos, mas de endinheirados. Rico é quem possui meios de produção. Rico é quem gera dinheiro e dá emprego. Endinheirado é quem simplesmente tem dinheiro. Ou que pensa que tem. Porque, na realidade, o dinheiro é que o tem a ele.

A verdade é esta: são demasiado pobres os nossos «ricos». Aquilo que têm, não detêm. Pior: aquilo que exibem como seu, é propriedade de outros. É produto de roubo e de negociatas. Não podem, porém, estes nossos endinheirados usufruir em tranquilidade de tudo quanto roubaram. Vivem na obsessão de poderem ser roubados. Necessitavam de forças policiais à altura. Mas forças policiais à altura acabariam por lançá-los a eles próprios na cadeia. Necessitavam de uma ordem social em que houvesse poucas razões para a criminalidade. Mas se eles enriqueceram foi graças a essa mesma desordem.

O maior sonho dos nossos novos-ricos é, afinal, muito pequenito: um carro de luxo, umas efêmeras cintilâncias. Mas a luxuosa viatura não pode sonhar muito, sacudida pelos buracos das avenidas. O Mercedes e o BMW não podem fazer inteiro uso dos seus brilhos, ocupados que estão em se esquivar entre chapas, muito convexos e estradas muito côncavas. A existência de estradas boas dependeria de outro tipo de riqueza. Uma riqueza que servisse a cidade. E a riqueza dos nossos novos-ricos nasceu de um movimento contrário: do empobrecimento da cidade e da sociedade.

As casas de luxo dos nossos falsos ricos são menos para serem habitadas do que para serem vistas. Fizeram-se para os olhos de quem passa. Mas ao exibirem-se, assim, cheias de folhos e chibantices, acabam atraindo alheias cobiças. Por mais guardas que tenham à porta, os nossos pobres-ricos não afastam o receio das invejas e dos feitiços que essas invejas convocam. O fausto das residências não os torna imunes. Pobres dos nossos riquinhos!

São como a cerveja tirada à pressão. São feitos num instante, mas a maior parte é só espuma. O que resta de verdadeiro é mais o copo que o conteúdo. Podiam criar gado ou vegetais. Mas não. Em vez disso, os nossos endinheirados feitos sob pressão criam amantes. Mas as amantes (e/ou os amantes) têm um grave inconveniente: necessitam de ser sustentadas com dispendiosos mimos. O maior inconveniente é ainda a ausência de garantia do produto. A amante de um pode ser, amanhã, amante de outro. O coração do criador de amantes não tem sossego: quem traiu sabe que pode ser traído.

Mia Couto, in 'Pensatempos'





# PREFEITURA MUNICIPAL DE JEQUITIBÁ

ESTADO DE MINAS GERAIS

<http://www.citador.pt/textos/sao-demasiado-pobres-os-nossosricos-mia-couto..>

**01. De acordo com Mia Couto, os desejos de consumo dos endinheirados são vazios e acabam frustrados porque:**

- A) São desejos passageiros que logo perdem o sentido de ser.
- B) Não são frutos de um planejamento e de decisões cautelosas e prudentes.
- C) Vão de encontro à realidade desigual e à falta de estrutura do país.
- D) Apesar de ricos não sabem aplicar o dinheiro e logo perdem o poder aquisitivo.

**02. Por que, na opinião do autor Mia Couto, “são demasiado pobres os nossos «ricos»?**

- A) Porque não sabem utilizar o dinheiro que ganham com inteligência.
- B) Porque não almejam a riqueza do país, mas apenas a aquisição, a qualquer custo, de dinheiro fácil.
- C) Porque não aceitam que pessoas pobres tenham a oportunidade de também vencerem na vida.
- D) Porque investem muito em segurança e acabam ficando enclausurados em suas residências.

**03. Os verbos “vivem” e “torna” presentes nos períodos abaixo são classificados, de acordo com a regência verbal que exercem nessas orações, como sendo:**

- I. “Vivem na obsessão de poderem ser roubados”.
  - II. “O fausto das residências não os torna imunes”.
- A) I. Intransitivo; II. Transitivo direto.
  - B) I. Transitivo indireto; II. Transitivo direto.
  - C) I. Intransitivo; II. Transitivo direto e indireto.
  - D) I. Transitivo indireto; II. Transitivo direto e indireto.



## PREFEITURA MUNICIPAL DE JEQUITIBÁ

ESTADO DE MINAS GERAIS

**04. Em “São demasiado pobres os nossos ricos”, o termo destacado pode ser classificado gramaticalmente como sendo:**

- A) Um substantivo.
- B) Um adjetivo.
- C) Um advérbio.
- D) Uma conjunção.

**05. Assinale a alternativa que preenche corretamente as lacunas abaixo:**

Ao analisar a coesão entre as orações “O coração do criador de amantes não tem sossego: quem traiu sabe que pode ser traído”, pode-se perceber que, no lugar dos dois pontos, poderia ter sido usada a conjunção..... Para manter a ideia de.....

- A) por isso – conclusão.
- B) pois – conclusão.
- C) mas – contradição.
- D) pois – explicação.

**06. Ao observar a concordância dos verbos destacados em “Fizeram-se para os olhos de quem passa. Mas ao exibirem-se, assim, cheias de folhos e chibantices, acabam atraindo alheias cobiças”, pode-se afirmar que:**

- I. “Fizeram” está no plural concordando com “olhos”.
- II. Ambos estão concordando com “casas de luxo”.
- III. “Exibirem” está no plural concordando com “folhos e chibantices”.
- IV. Cada um está realizando a concordância com o seu respectivo sujeito.
- V. Os dois estão concordando com um sujeito mencionado na oração anterior.
- VI. Os dois verbos poderiam estar na 3ª pessoa do singular concordando com o sujeito mais próximo.



# PREFEITURA MUNICIPAL DE JEQUITIBÁ

ESTADO DE MINAS GERAIS

**Assinale a alternativa correta:**

- A) Apenas I, III e VI estão corretos.
- B) Apenas II e V estão corretos.
- C) Apenas II, V e VI estão corretos.
- D) Apenas I, III e IV estão corretos.

**7. Mia Couto, em sua frase “O fausto das residências não os torna imunes”, usou a palavra fausto” para simbolizar:**

- A) Luxo.
- B) Segurança.
- C) Bom gosto.
- D) Discrição.

**08. “São demasiado pobres<sup>1</sup> os nossos ricos<sup>2</sup>”. Ao analisar a função gramatical dos termos grifados nesse período, percebe-se que “pobres” e “ricos” estão desempenhando função de:**

- A) 1. Substantivo e 2. Substantivo.
- B) 1. Adjetivo e 2. Substantivo.
- C) 1. Substantivo e 2. Adjetivo.
- D) 1. Adjetivo e 2. Adjetivo.

**09. Em “São como a cerveja tirada à pressão”, ocorreu a crase por se tratar de uma locução adverbial feminina de modo.**

Assim como essa, outras locuções adverbiais femininas também recebem crase. Assinale a alternativa em que a crase ocorreu por se tratar de uma locução adverbial feminina.

- A) Por mais guardas que tenham à porta, os nossos pobres-ricos não afastam...
- B) Os endinheirados dedicam-se apenas à gastar sem medida.
- C) É uma riqueza que faz referência à ausência de sentimentos humanitários.
- D) A população mais carente assiste atônita à derrocada de seus direitos.



# PREFEITURA MUNICIPAL DE JEQUITIBÁ

ESTADO DE MINAS GERAIS

**10. “Aquilo que têm, não detêm”. Os verbos “têm” e “detêm” recebem acento circunflexo porquê?**

- A) São palavras oxítonas terminam em “EM”.
- B) São palavras paroxítonas terminadas em “EM”.
- C) Estão no singular e precisam ser diferenciadas da forma verbal no plural.
- D) Estão no plural e precisam ser diferenciados da forma verbal no singular.

## **TEXTO II**

### **Fábula: O leão apaixonado**

Certa vez um leão se apaixonou pela filha de um lenhador e foi pedir a mão dela em casamento. O lenhador não ficou muito animado com a ideia de ver a filha com um marido perigoso daqueles e disse ao leão que era muita honra, mas muito obrigado, não queria. O leão se irritou; sentindo o perigo, o homem foi esperto e fingiu que concordava:

- É uma honra, meu senhor. Mas que dentes o senhor tem! Que garras compridas! Qualquer moça ia ficar com medo. Se o senhor quer casar com minha filha, vai ter que arrancar os dentes e cortar as garras.

O leão apaixonado foi correndo fazer o que o outro tinha mandado; depois voltou à casa do pai da moça e repetiu seu pedido de casamento. Mas o lenhador, que já não sentia medo daquele leão manso e desarmado, pegou um pau e tocou o leão para fora de sua casa.

Moral: Quem perde a cabeça por amor sempre acaba mal.

### **11. A fábula de Esopo:**

- A) Não trata de nenhum tema específico.
- B) Pretende mostrar a estratificação social.
- C) Se utiliza de animais para denunciar o preconceito.
- D) Trata uma história de amor impossível.



## PREFEITURA MUNICIPAL DE JEQUITIBÁ

ESTADO DE MINAS GERAIS

**12. A fábula começa apresentando o leão e logo nos vêm à mente todas as características tradicionalmente atribuídas ao animal. Ao final da narrativa, porém, percebemos que o leão foi:**

- A) Submisso
- B) Corajoso
- C) Cruel
- D) Justo

**13. Aponte a alternativa que contém uma característica pertinente ao texto:**

- A) O tempo e o espaço em que os fatos se dão estão bem definidos.
- B) É uma narrativa curta, por isso não apresenta os elementos básicos da narrativa.
- C) Título insignificante para a trama.
- D) Encerra em si uma linguagem simples, pois dirige-se ao povo.

**14. Considere as três afirmações abaixo acerca do texto lido:**

- I. Apesar de tratar-se de uma narrativa é possível que consideremos algumas passagens argumentativas.
- II. Apresenta uma situação problemática, ou seja, existe um conflito.
- III. É narrado em 3ª pessoa.

**Diante da análise acima, podemos afirmar que:**

- A) I e II estão corretas.
- B) Apenas III está correta.
- C) I, II e III estão corretas.
- D) Apenas I está correta.



## PREFEITURA MUNICIPAL DE JEQUITIBÁ

ESTADO DE MINAS GERAIS

**15. O texto está repleto de adjetivos. Qual o papel fundamental deles na fábula?**

- A) Caracterizar os personagens e a partir disso permear as ações sendo determinantes para o conflito e o desfecho da narrativa.
- B) Construir o próprio sentido do texto, sem adjetivos para sustentar a fábula, ela não se realiza como gênero textual.
- C) Nenhum, pois os adjetivos formam uma classe gramatical meramente alegórica.
- D) Mostrar a constância nas atitudes e pensamentos das personagens, fluindo para um desfecho claro e previsível.



**PREFEITURA MUNICIPAL DE JEQUITIBÁ**  
ESTADO DE MINAS GERAIS

**ENSINO MÉDIO COMPLETO – MATEMÁTICA**

16. O sistema ordenado  $(x, y)$  de equações  $\begin{cases} 3x + 4y = 72 \\ 5x + 2y = 64 \end{cases}$  tem como solução o par

Sendo assim,  $8x - 5y$  é igual a:

- A) 8
- B) 12
- C) 4
- D) 20

17. Uma bola de tênis custa o triplo do preço de uma bola de golf. Essa bola de golf custa o dobro do preço da bola de baseball. Carlos comprou uma bola de cada e pagou pelas três R\$180,00. O preço da bola de tênis é:

- A) R\$60,00
- B) R\$90,00
- C) R\$20,00
- D) R\$120,00

18. Qual é a raiz cúbica de 5832?

- a) 12
- b) 17
- c) 19
- d) 18

19. O gráfico da função  $f(x) = 18 - 35x$  é uma:

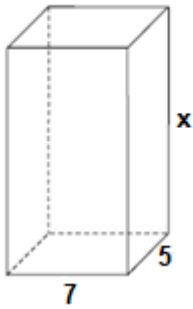
- A) Parábola com concavidade para cima
- B) Uma reta crescente
- C) Parábola com concavidade para baixo
- D) Uma reta decrescente

20. Um tanque de água, com capacidade máxima para  $455 \text{ m}^3$ , tem a forma de um prisma reto de base retangular, cujas medidas internas, em metros, estão indicadas na figura.



# PREFEITURA MUNICIPAL DE JEQUITIBÁ

ESTADO DE MINAS GERAIS



a altura desse reservatório, indicada na figura pela letra x, é igual a

- A) 10 m.
- B) 12 m.
- C) 13 m.
- D) 15 m.

**21. Quantos anagramas é possível fazer com a palavra JEQUITIBA**

A) 9!

B)  $\frac{9!}{2!}$

C)  $\frac{2!}{9!}$

D) Nenhuma das alternativas

**22. Um médico realiza, em cinco dias úteis de uma determinada semana, respectivamente, 15, 20, 25, 27 e 28 atendimentos diários. A média diária de atendimentos é de:**

- A) 23.
- B) 25.
- C) 27.
- D) 28.

**23. Uma moto com velocidade constante de 90 km/h faz determinado percurso em 80 minutos. Qual foi a velocidade da moto sabendo que em outro momento ela fez esse mesmo percurso em 1h 40minutos?**

- (A) 112,5km/h.
- (B) 72km/h.
- (C) 82km/h.
- (D) 80km/h.





**PREFEITURA MUNICIPAL DE JEQUITIBÁ**  
ESTADO DE MINAS GERAIS

**24. Foi aplicado à taxa de juros simples de 30% a.m. um capital de R\$160.000,00 durante o período de 5 meses. Quanto foi o juro obtido nessa aplicação?**

- A) R\$48.000,00.
- B) R\$400.000,00
- C) R\$240.000,00
- D) Nenhuma das alternativas

**25. A sequência numérica (15, 30, 60, 120, 240, 480) é uma Progressão:**

- A) Aritmética de razão 2.
- B) Aritmética de razão 4.
- C) Aritmética de razão 6.
- D) Geométrica de razão 2.

**26. A soma dos ângulos internos de um triângulo é:**

- A) 90°
- B) 360°
- C) 180°
- D) 270°

**27. Quais os valores de x na equação  $x^2 + 7x + 10 = 0$**

- A) 2 e 5
- B) 7 e 10.
- C) -2 e -5.
- D) 2 e 5

**28. Certo produto que custava R\$380,00 teve um aumento de 25%. Com esse aumento o produto passou a custar:**

- A) R\$405,00
- B) R\$457,00
- C) R\$475,00
- D) nenhuma das alternativas

**29. André toma 3 tipos de remédios, toma um de 4 em 4 horas, toma outro de 6 em 6 horas e por fim toma o último de 8 em 8 horas. Às 7 horas da manhã de uma quarta-feira ele tomou os 3 remédios ao mesmo tempo. Quando André irá tomar os remédios juntos novamente?**

- A) Às 7 horas da manhã de uma quinta-feira
- B) Às 7 horas da manhã de um sexta-feira
- C) Às 19h de uma quinta-feira
- D) Às 19h de uma sexta-feira



# PREFEITURA MUNICIPAL DE JEQUITIBÁ

ESTADO DE MINAS GERAIS

**30. Qual é o perímetro de um triângulo retângulo sabendo que seu cateto adjacente mede 16 cm e seu cosseno é igual a 0,8.**

- A) 36.
- B) 48.
- C) 60.
- D) 72.



# PREFEITURA MUNICIPAL DE JEQUITIBÁ

ESTADO DE MINAS GERAIS

## CONHECIMENTOS ESPECÍFICOS – TÉCNICO EM VIGILÂNCIA SANITÁRIA

**31- Qual a alternativa INCORRETA, em relação aos estabelecimentos de serviço de saúde a que se refere o art. 81, e os estabelecimentos de interesse de serviço da saúde, sobre a presença do responsável técnico ou de seu substituto legal.**

- (A) A presença do responsável técnico ou de seu substituto legal é obrigatória durante o horário de funcionamento dos estabelecimentos.
- (B) O nome do responsável técnico e seu número de inscrição profissional serão mencionados nas placas indicativas, nos anúncios ou nas propagandas dos estabelecimentos.
- (C) Os responsáveis técnicos e administrativos responderão solidariamente pelas infrações sanitárias.
- (D) Os estabelecimentos de saúde terão responsabilidade técnica por todos os profissionais que mantenham atividade em suas dependências, de profissionais autônomos ou empresas prestadoras de serviço de saúde.

**32- Dos Recursos, referente ao Auto de Infração, o infrator poderá apresentar defesa ou impugnação do mesmo no prazo quantos dias contados da data da notificação?**

- (A) 20 dias
- (B) 15 dias
- (C) 12 dias
- (D) 10 dias

**33- Relacione as colunas abaixo, qual se correspondem:**

- I – Vigilância Epidemiológica
- II - Vigilância Ambiental
- III - Controle de Zoonoses

( ) Conjunto de informações e ações que possibilitam o conhecimento, a detecção e a prevenção de fatores determinantes e condicionantes do meio ambiente que interferem na saúde humana.

( ) Conjunto de ações que visam a prevenir, diminuir ou eliminar os riscos e agravos à saúde provocados por vetor, animal hospedeiro, reservatório ou sinantrópico

( ) Conjunto de ações que proporcionam o conhecimento, a detecção e a prevenção de mudança nos fatores determinantes e condicionantes da saúde individual ou coletiva.

- (A) I, III e II.
- (B) II, I e III.
- (C) II, III e I.
- (D) III, II e I.

**34 - Serão notificados compulsoriamente ao SUS os casos suspeitos ou confirmados, EXCETO:**

- (A) Doença que possa requerer medidas de isolamento ou quarentena, de acordo com o Regulamento Sanitário Internacional;
- (B) Doença e agravo previstos pelo Ministério da Saúde;



# PREFEITURA MUNICIPAL DE JEQUITIBÁ

ESTADO DE MINAS GERAIS

(C) Doença constante em relação elaborada pela Secretaria de Estado da Saúde, atualizada periodicamente, observada a legislação federal;

(D) Acidente e doença relacionados com o trabalho, de acordo com as normas Câmara Técnica de Saúde do Trabalhador a ele subordinada.

**35- Os estabelecimentos de saúde que prestam serviços em regime de internação manterão comissão e serviço de controle de infecção hospitalar, cuja implantação, composição e eventuais alterações serão comunicadas à autoridade sanitária competente, municipal ou estadual.**

I- Entende-se por controle de infecção hospitalar o programa e as ações desenvolvidos, deliberada e sistematicamente, com vistas à redução da incidência e da gravidade dessas infecções.

II - A ocorrência de caso de infecção hospitalar será notificada pelo responsável técnico do estabelecimento à autoridade sanitária competente, municipal ou estadual, afim de abertura de processo interno administrativo.

(A) Somente a afirmativa I é VERDADEIRA

(B) As afirmativas I e II são FALSAS

(C) A afirmativa I é FALSA

(D) As afirmativas I e II são VERDADEIRAS

**36- Assinale a alternativa CORRETA: Compete a Vigilância Sanitária ou ao concessionário responsável pelo sistema público de abastecimento de água no Estado:**

(A) – Analisar, e controlar os parâmetros da qualidade da água;

(B) – Divulgar, mensalmente, os resultados obtidos aos usuários;

(C) – Enviar à Secretaria de Estado da Saúde e às Secretarias Municipais de Saúde ou órgãos equivalentes relatórios anuais relativos ao controle da qualidade da água fornecida.

(D) Sempre que o serviço sanitário detectar a existência de anormalidade ou falha no sistema público de abastecimento de água, com risco para a saúde da população, interromper o abastecimento.

**37- Assinale a alternativa INCORRETA:**

**Entende-se por Vigilância Sanitária o conjunto de ações capazes de eliminar, diminuir ou prevenir riscos e agravos à saúde e de intervir nos problemas sanitários decorrentes do meio ambiente, da produção e da circulação de bens e da prestação de serviços de interesse da saúde, abrangendo o controle:**

(A) – da etapa inicial e processos da produção de bens de capital e de consumo que se relacionem indiretamente com a saúde, bem como o de sua utilização.

(B) – da prestação de serviços.

(C) – da geração, da minimização, do acondicionamento, do armazenamento, do transporte e da disposição final de resíduos sólidos e de outros poluentes, segundo a legislação específica.

(D) – da geração, da minimização e da disposição final de efluentes, segundo a legislação específica.



## PREFEITURA MUNICIPAL DE JEQUITIBÁ

ESTADO DE MINAS GERAIS

**38- O controle sanitário das ações desenvolvidas pelo órgão de Vigilância Sanitária para aferição da qualidade dos produtos e a verificação das condições de licenciamento funcionamento dos estabelecimentos, envolvem as ações, EXCETO:**

- (A) – inspeção;
- (B) – fiscalização;
- (C) – lavratura de autos;
- (D) – convocação da autoridade autuante.

**39- Os trabalhadores que tenham contato com os alimentos se submeterão a exames laboratoriais, sob responsabilidade da empresa, mantendo cópias de tais exames e Atestados de Saúde Ocupacional – ASO'S, inclusive das medidas adotadas em casos de não conformidades, para consulta pela autoridade sanitária. Qual o período que os exames devem ser realizados pelos funcionários?**

- (A) Ao ser admitido
- (B) Semestral
- (C) Anual
- (D) Somente quando solicitado pela Vigilância Sanitária.

**40- Qual das siglas abaixo corresponde ao Programa de Monitoramento da Qualidade dos Alimentos Comercializados em Minas Gerais:**

- (A) GVA
- (B) PROGVISA
- (C) NBCAL
- (D) CISTT